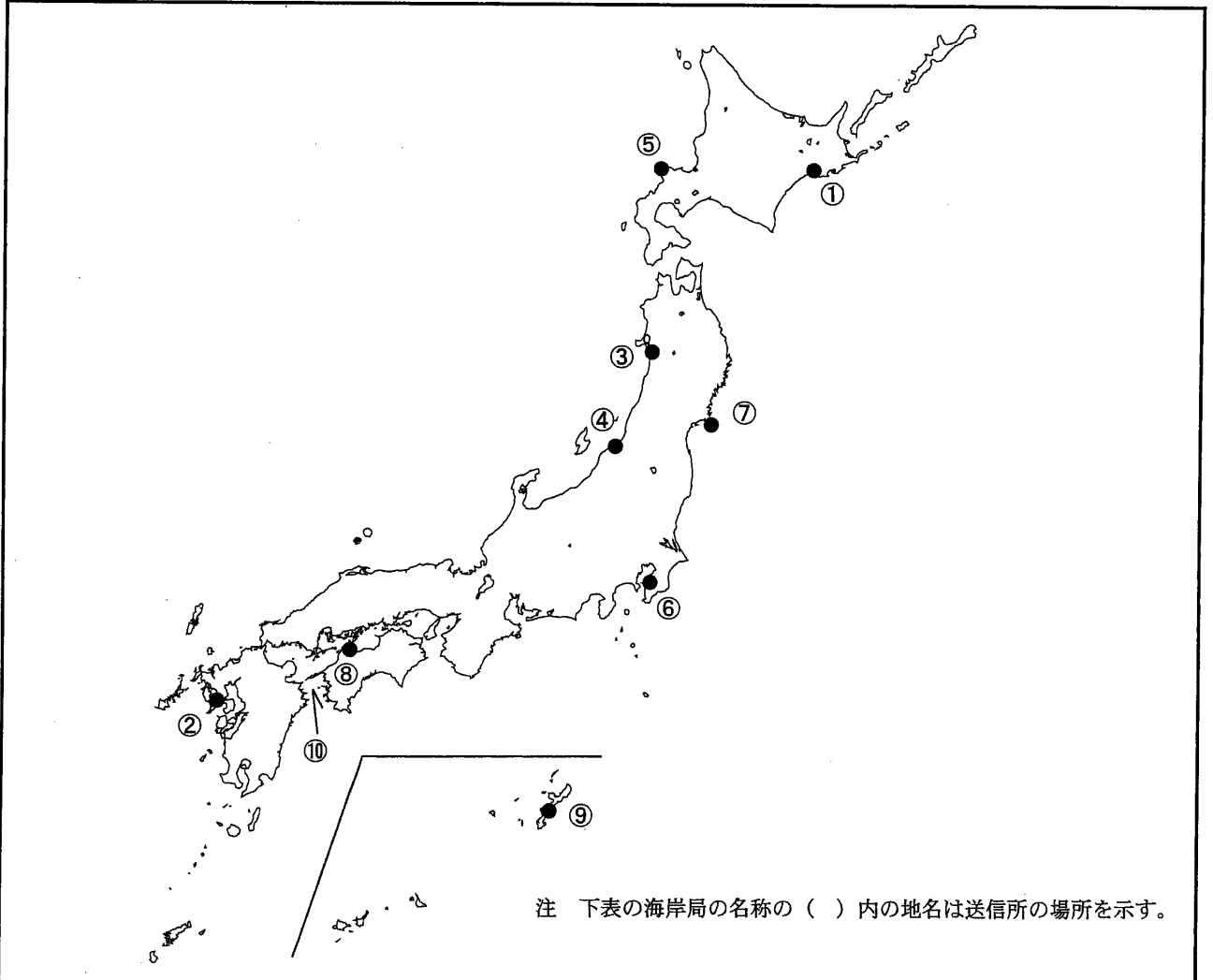


第二級総合無線通信士「地理」試験問題

40問 1時間

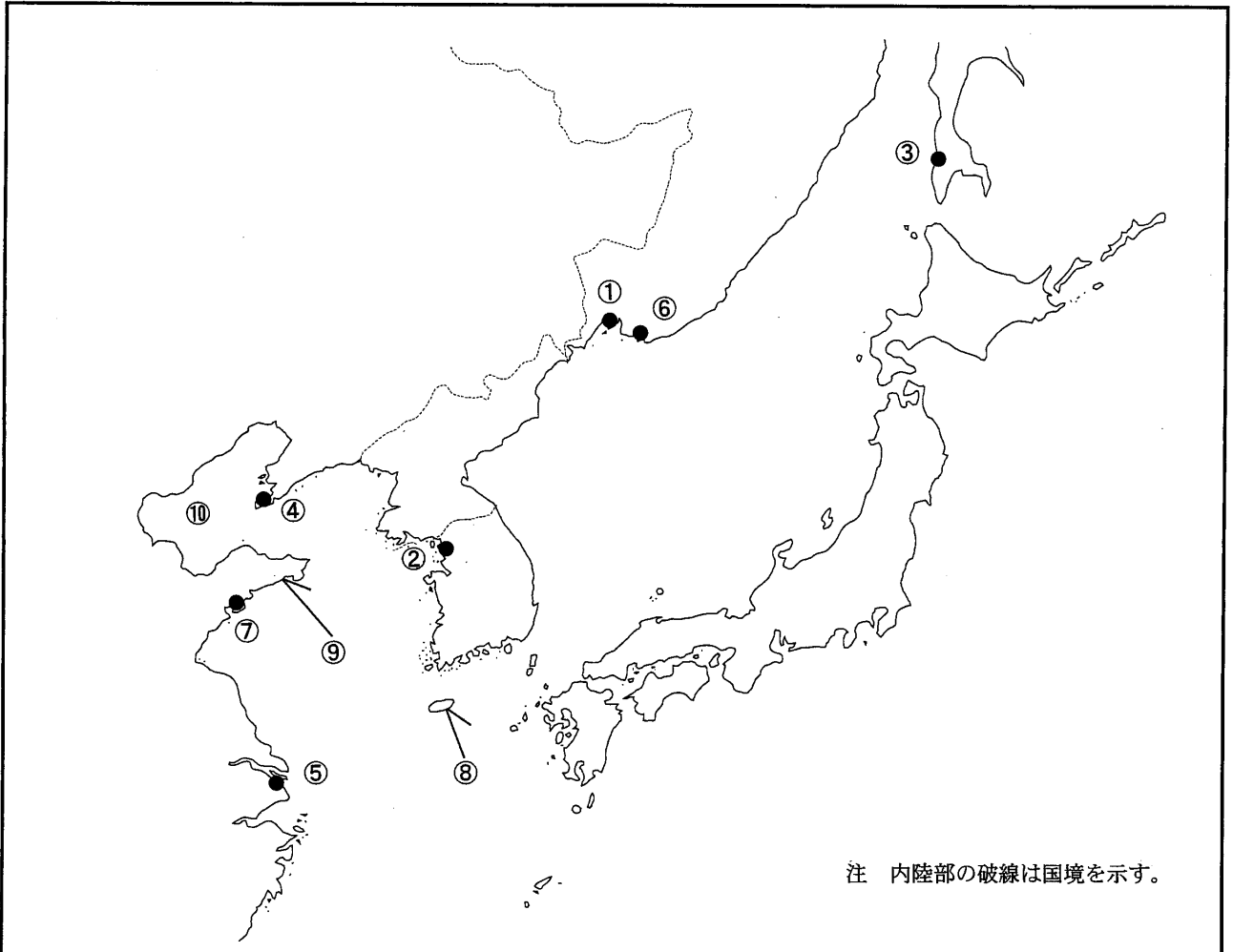
問I 下図により、下表の左欄の事項のそれぞれに該当するものの名称を右欄の語群から一つ選び、その番号で答えよ。



注 下表の海岸局の名称の（ ）内の地名は送信所の場所を示す。

事 項	語 群		
[1] ●印の①に位置する電気通信業務を取り扱う漁業用海岸局の名称	1 宗谷 4 網走	2 紋別	3 釧路
[2] ●印の②に位置する電気通信業務を取り扱う漁業用海岸局の名称	1 上県 4 長崎県	2 平戸	3 熊本県
[3] ●印の③に位置する海上保安庁の海岸局の名称	1 塩釜(鮫) 4 塩釜(秋田)	2 塩釜(釜石)	3 塩釜(小泊)
[4] ●印の④に位置する海上保安庁の海岸局の名称	1 新潟(猫ヶ岳) 4 新潟(平根崎)	2 新潟(荒川)	3 新潟(女神)
[5] ●印の⑤に位置するナブテックスで海上安全情報を送信する海上保安庁の海岸局の名称	1 小樽(知駒) 4 小樽(積丹第2)	2 小樽(歌島)	3 小樽(十町瀬)
[6] ●印の⑥に位置するナブテックスで海上安全情報を送信する海上保安庁の海岸局の名称	1 横浜(武山) 4 横浜(富津第2)	2 横浜(須崎)	3 横浜(白浜)
[7] ●印の⑦に位置する海上保安庁の無線航行陸上局(ディファレンシャルGPSによるもの)の名称	1 金華山 4 尻屋崎	2 松前	3 酒田
[8] ●印の⑧に位置する海上保安庁の無線航行陸上局(ディファレンシャルGPSによるもの)の名称	1 若宮 4 大瀬崎	2 大浜	3 瀬戸
[9] ●印の⑨に位置する開港名	1 細島 4 喜入	2 名瀬	3 金武中城
[10] ⑩の水道名	1 中之島水道 4 諏訪之瀬水道	2 豊後水道	3 紀伊水道

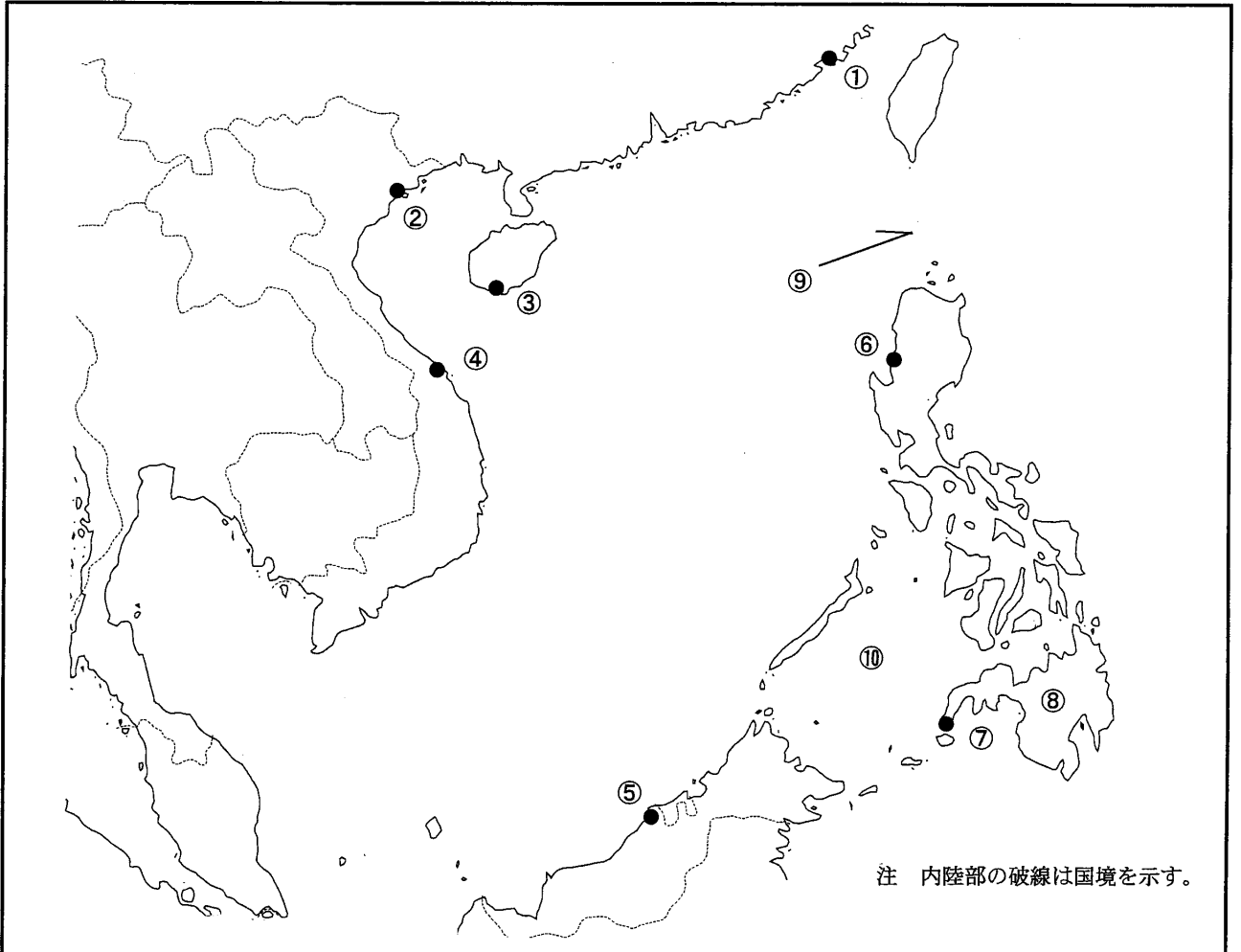
問Ⅱ 下図により、下表の左欄の事項のそれぞれに該当するものの名称を右欄の語群から一つ選び、その番号で答えよ。



注 内陸部の破線は国境を示す。

事 項	語 群	
[11] ●印の①に位置する公衆通信業務を取り扱う海岸局の名称	1 Nevelsk Radio 3 Vladivostok Radio	2 Poronaisk Radio 4 Novorossiysk Radio
[12] ●印の②に位置する公衆通信業務を取り扱う海岸局の名称	1 Yeosu Radio 3 Ulsan Radio	2 Incheon Radio 4 Pusan Radio
[13] ●印の③に位置するナブテックスで海上安全情報を送信する海岸局の名称	1 Magadan 3 Okhotsk	2 Kholmok 4 Petropavlovsk Kamchatskiy
[14] ●印の④に位置するナブテックスで海上安全情報を送信する海岸局の名称	1 Samsun 3 Jukbyeon	2 Dalian 4 Byeonsan
[15] ●印の⑤に位置するナブテックスで海上安全情報を送信する海岸局の名称	1 Veraval 3 Guangzhou	2 Fuzhou 4 Shanghai
[16] ●印の⑥に位置する我が国の船舶の寄港地の名称	1 Olga 3 Nakhodka	2 Okha 4 Nikolayevsk-na-Amure
[17] ●印の⑦に位置する我が国の船舶の寄港地の名称	1 Yantai(煙台) 3 Hong Kong(香港)	2 Qingdao(青島) 4 Lianyungang(連雲港)
[18] ⑧の島名	1 Jeju-do(濟州島) 3 Jindo(珍島)	2 Geojedo(巨濟島) 4 Ulleungdo(鬱陵島)
[19] ⑨の半島名	1 Leizhou Bandaο(雷州半島) 3 Liaodong Bandaο(遼東半島)	2 Kowloon Bandaο(九龍半島) 4 Shandong Bandaο(山東半島)
[20] ⑩の海名	1 Bohai 3 South China Sea	2 Yellow Sea 4 East China Sea

問Ⅲ 下図により、下表の左欄の事項のそれぞれに該当するものの名称を右欄の語群から一つ選び、その番号で答えよ。



注 内陸部の破線は国境を示す。

事 項	語 群
[21] ●印の①に位置する公衆通信業務を取り扱う海岸局の名称	1 Haikou Radio 2 Tianjin Radio 3 Cantho Radio 4 Xiamen Radio
[22] ●印の②に位置する公衆通信業務を取り扱う海岸局の名称	1 Ca Mau Radio 2 Kamranh Radio 3 Hai Phong Radio 4 Ben Thuy Radio
[23] ●印の③に位置するナブテックスで海上安全情報を送信する海岸局の名称	1 Sanya 2 Astoria 3 Linyuan 4 Guangzhou
[24] ●印の④に位置するナブテックスで海上安全情報を送信する海岸局の名称	1 Penang 2 Zhanjiang 3 Da Nang Radio 4 Nha Trang
[25] ●印の⑤に位置するナブテックスで海上安全情報を送信する海岸局の名称	1 Mahe 2 Miri 3 Vung Tau Radio 4 Ho Chi Minh Ville Radio
[26] ●印の⑥に位置する我が国の船舶の寄港地の名称	1 Iloilo 2 Manila 3 Cebu 4 San Fernando
[27] ●印の⑦に位置する我が国の船舶の寄港地の名称	1 Davao 2 Batangas 3 Balikpapan 4 Zamboanga
[28] ⑧の島名	1 Samar 2 Panay 3 Mindanao 4 Mindoro
[29] ⑨の海峡名	1 Polillo Str. 2 Luzon Str. 3 Makassar Str. 4 Linapacan Str.
[30] ⑩の海名	1 Sulu Sea 2 Bohol Sea 3 Sibuyan Sea 4 Celebes Sea

問IV 次の問いに答えよ。

1 次表のA群のそれぞれの国の首都名をB群の都市から一つ選び、その番号で答えよ。

A 群	B 群	
[31] Brunei Darussalam	1 Mukah 3 Kota Kinabalu	2 Sri Jayewardenepura Kotte 4 Bandar Seri Begawan
[32] Republic of the Union of Myanmar	1 Nay Pyi Taw 3 Phnom Penh	2 Dhka 4 Yangon
[33] Islamic Republic of Pakistan	1 Karachi 3 Islamabad	2 Kabul 4 Hyderabad
[34] Republic of Kenya	1 Nairobi 3 Mogadishu	2 Mombasa 4 Dar es Salaam
[35] Federative Republic of Brazil	1 Santos 3 Rio de Janeiro	2 Brasilia 4 Sao Paulo

2 次表のA群のそれぞれの都市は、我が国の船舶の寄港地であるが、それぞれの所属国名をB群から一つ選び、その番号で答えよ。

A 群	B 群	
[36] Halifax	1 Ireland 2 Canada 3 United States of America 4 United Kingdom of Great Britain and Northern Ireland	
[37] Sankt Peterburg	1 Republic of Finland 2 Republic of Estonia 3 Russian Federation 4 Federal Republic of Germany	
[38] Le Havre	1 Spain 2 Italian Republic 3 French Republic 4 Portuguese Republic	
[39] Casablanca	1 Libya 2 Kingdom of Morocco 3 Arab Republic of Egypt 4 People's Democratic Republic of Algeria	
[40] Callao	1 Republic of Ecuador 2 Republic of Chile 3 Republic of Panama 4 Republic of Peru	