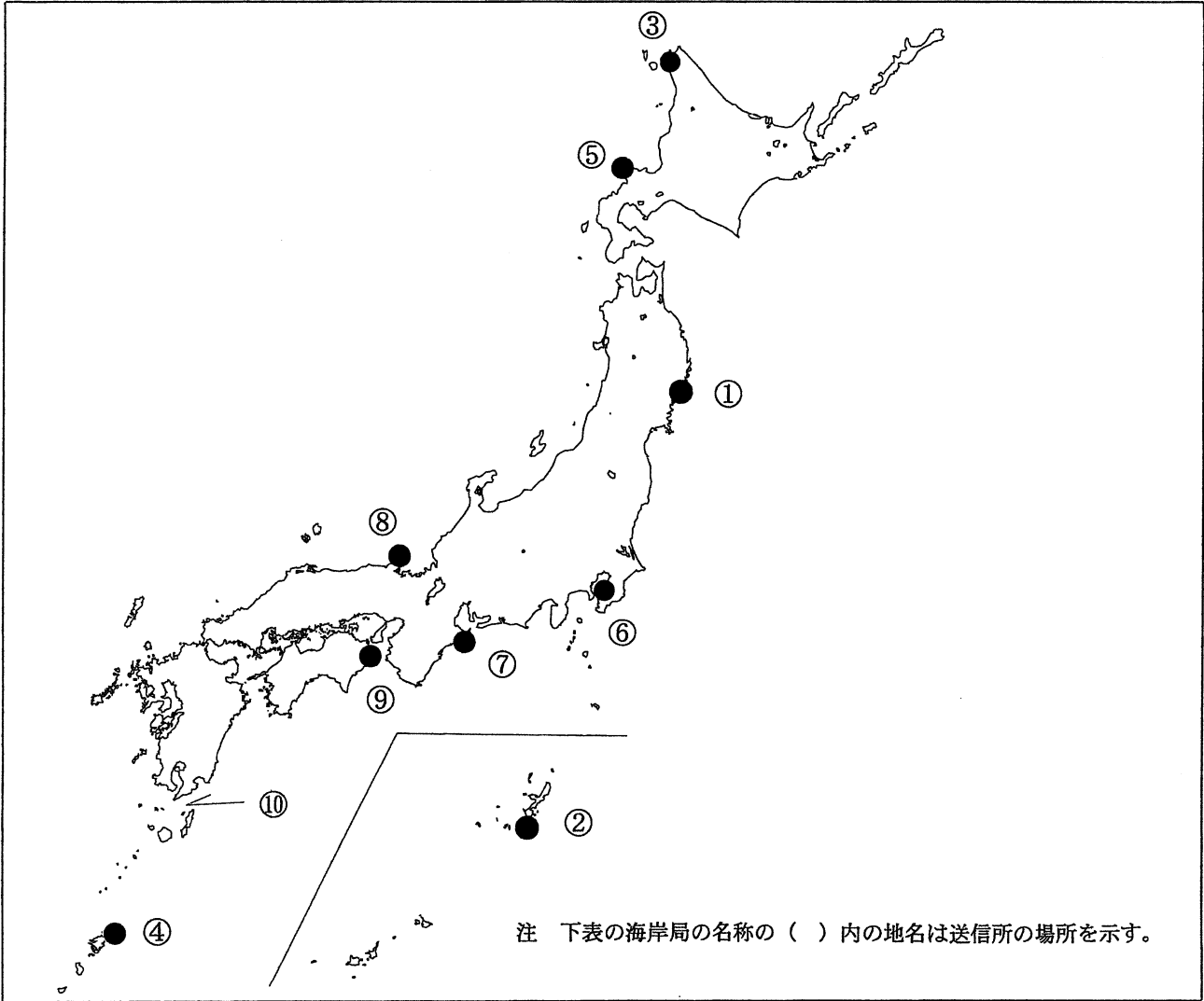


第二級総合無線通信士「地理」試験問題

40問 1時間

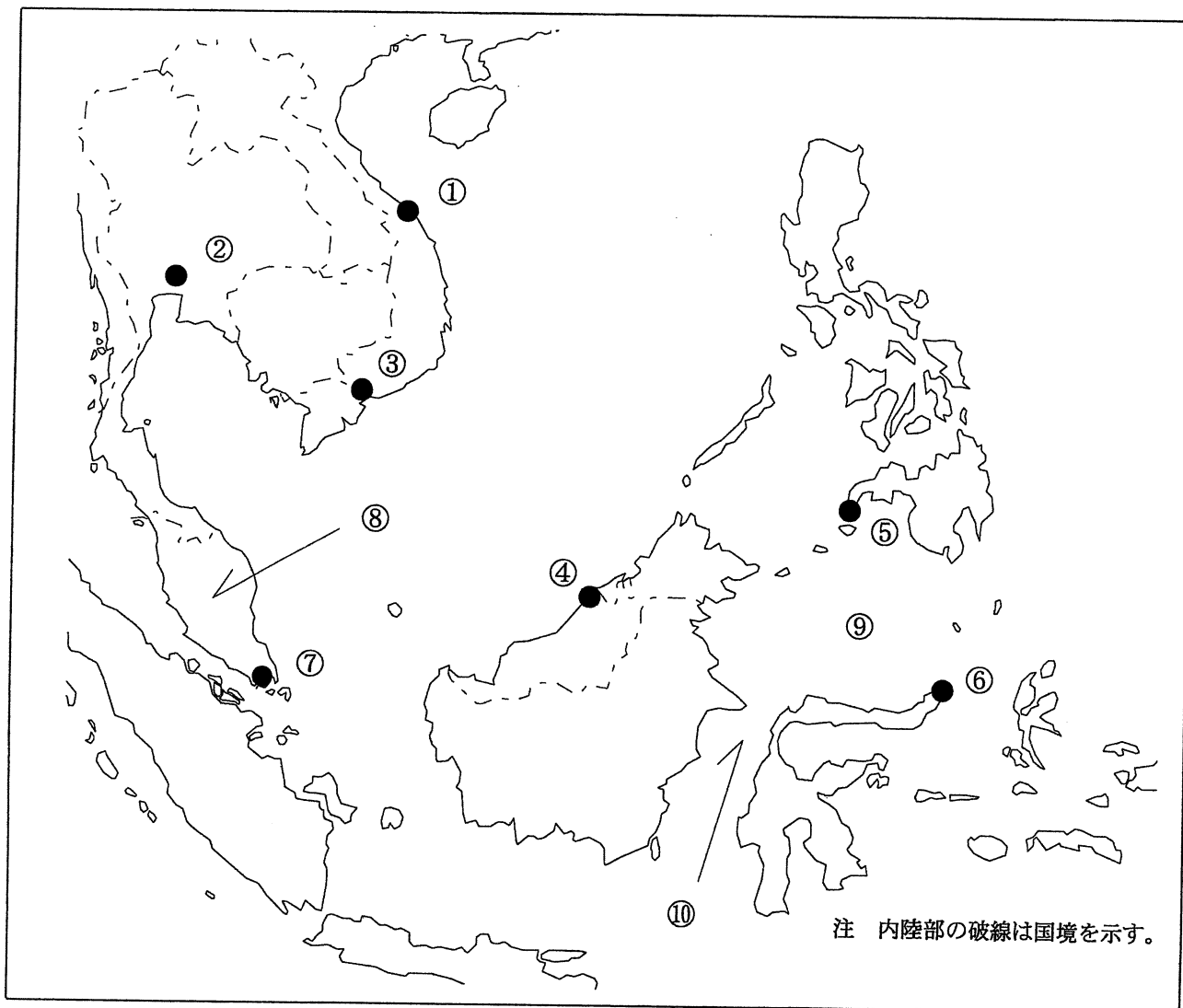
問I 下図により、下表の左欄の事項のそれぞれに該当するものの名称を右欄の語群から一つ選び、その番号で答えよ。



注 下表の海岸局の名称の（ ）内の地名は送信所の場所を示す。

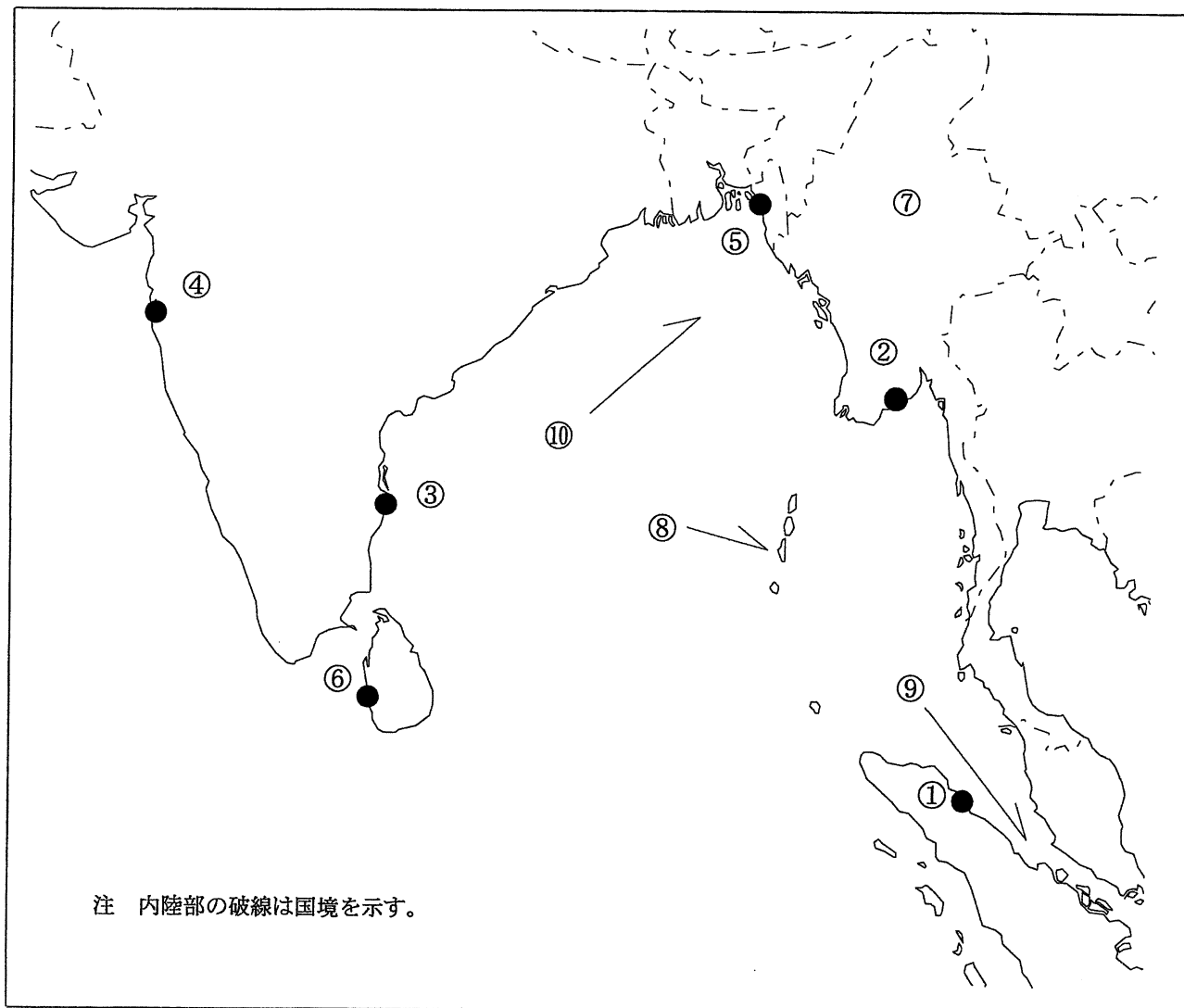
事 項	語 群
[1] ●印の①に位置する電気通信業務を取り扱う漁業用海岸局の名称	1 深浦 2 大畑 3 女川 4 釜石
[2] ●印の②に位置する電気通信業務を取り扱う漁業用海岸局の名称	1 八重山 2 与那国 3 沖縄県 4 久米島
[3] ●印の③に位置する海上保安庁の海岸局の名称	1 小樽(大野) 2 小樽(萩ヶ岡) 3 小樽(千望台) 4 小樽(赤岩)
[4] ●印の④に位置する海上保安庁の海岸局の名称	1 鹿児島(吉見山) 2 鹿児島(名瀬) 3 鹿児島(畑倉) 4 鹿児島(油津)
[5] ●印の⑤に位置するナブテックスで海上安全情報を送信する海上保安庁の海岸局の名称	1 小樽(十町瀬) 2 小樽(歌島) 3 小樽(稲穂) 4 小樽(積丹第2)
[6] ●印の⑥に位置するナブテックスで海上安全情報を送信する海上保安庁の海岸局の名称	1 横浜(須崎) 2 横浜(山原) 3 横浜(下田) 4 横浜(富津第2)
[7] ●印の⑦に位置する海上保安庁の無線航行陸上局(ディファレンシャルGPSによるもの)の名称	1 瀬戸 2 江崎 3 大王崎 4 大浜
[8] ●印の⑧に位置する海上保安庁の無線航行陸上局(ディファレンシャルGPSによるもの)の名称	1 丹後 2 浜田 3 舩倉島 4 若宮
[9] ●印の⑨に位置する開港名	1 松山 2 今治 3 福山 4 徳島小松島
[10] ⑩の海峡又は水道名	1 大隅海峡 2 来島海峡 3 中之島水道 4 諏訪之瀬水道

問II 下図により、下表の左欄の事項のそれぞれに該当するものの名称を右欄の語群から一つ選び、その番号で答えよ。



事 項	語 群	
[11] ●印の①に位置する公衆通信業務を取り扱う海岸局の名称	1 Da Nang Radio 3 Songkhla Radio	2 Hai Phong Radio 4 Surat Radio
[12] ●印の②に位置する公衆通信業務を取り扱う海岸局の名称	1 Ben Thuy Radio 3 Ca Mau Radio	2 Bangkok Radio 4 Hon Gai Radio
[13] ●印の③に位置するナブテックスで海上安全情報を送信する海岸局の名称	1 Penang 3 Sandakan	2 Fereydoon Kenar 4 Ho Chi Minh Ville Radio
[14] ●印の④に位置するナブテックスで海上安全情報を送信する海岸局の名称	1 Miri 3 Ambon	2 Magadan 4 Cape d'Aguilar Radio
[15] ●印の⑤に位置する我が国の船舶の寄港地の名称	1 Davao 3 Cebu	2 Zamboanga 4 San Fernando
[16] ●印の⑥に位置する我が国の船舶の寄港地の名称	1 Banjarmasin 3 Manado	2 Pontianak 4 Kota Kinabalu
[17] ●印の⑦に位置する海岸地球局の名称	1 Pune 3 Sentosa	2 Perth 4 Jatiluhur
[18] ⑧の半島名	1 Indo China Pen. 3 Minahassa Pen.	2 Malay Pen. 4 Eyre Pen.
[19] ⑨の海名	1 Banda Sea 3 Sibuyan Sea	2 Mindanao Sea 4 Celebes Sea
[20] ⑩の海峡名	1 Karimata Str. 3 Bohol Str.	2 Makassar Str. 4 Mindoro Str.

問Ⅲ 下図により、下表の左欄の事項のそれぞれに該当するものの名称を右欄の語群から一つ選び、その番号で答えよ。



事 項	語 群	
[21] ● 印の①に位置する公衆通信業務を取り扱う海岸局の名称	1 Balikpapan Radio 3 Cigading Radio	2 Belawan Radio 4 Palembang Radio
[22] ● 印の②に位置する公衆通信業務を取り扱う海岸局の名称	1 Cirebon Radio 3 Tarakan Radio	2 Dumai Radio 4 Yangon Radio
[23] ● 印の③に位置するナブテックスで海上安全情報を送信する海岸局の名称	1 Chennai 3 Ouessant	2 Walvis Bay 4 Mauritius Radio Cassis
[24] ● 印の④に位置するナブテックスで海上安全情報を送信する海岸局の名称	1 Kerch 3 Mumbai	2 Lattakia Radio 4 Karachi
[25] ● 印の⑤に位置する我が国の船舶の寄港地の名称	1 Kuching 3 Bintulu	2 Chittagong 4 Trincomalee
[26] ● 印の⑥に位置する我が国の船舶の寄港地の名称	1 Goa 3 Colombo	2 Jaffna 4 Kolkata(Calcutta)
[27] ⑦の国名	1 Kingdom of Thailand 3 Republic of the Union of Myanmar	2 Kingdom of Cambodia 4 Malaysia
[28] ⑧の島名	1 Madura 3 South Andaman	2 Sri Lanka 4 Great Nicobar
[29] ⑨の海峡名	1 Str. of Malacca 3 Str. of Hormz	2 Str. of Magellan 4 Str. of Singapore
[30] ⑩の湾名	1 Baler Bay 3 Bay of Bengal	2 Dingalan Bay 4 Bay of Biscay

問IV 次の問いに答えよ。

- 1 次表のA群のそれぞれの国の首都名をB群の都市から一つ選び、その番号で答えよ。

A 群	B 群
[31] Socialist Republic of Viet Nam	1 Bangkok 2 Hanoi 3 Kuala Lumpur 4 Phnom Penh
[32] Brunei Darussalam	1 Bangalore 2 Bandar Seri Begawan 3 Dhaka 4 Sri Jayawardanapura Kotte
[33] State of Qatar	1 Kuwait 2 Doha 3 Amman 4 Riyadh
[34] United Republic of Tanzania	1 Antananarivo 2 Nairobi 3 Pretoria 4 Dar es Salaam
[35] Federative Republic of Brazil	1 Brasilia 2 Caracas 3 Rio de Janeiro 4 Port Alegre

- 2 次表のA群のそれぞれの都市は、我が国の船舶の寄港地であるが、それぞれの所属国名をB群から一つ選び、その番号で答えよ。

A 群	B 群
[36] Montreal	1 Canada 2 New Zealand 3 United States of America 4 United Kingdom of Great Britain and Northern Ireland
[37] Rotterdam	1 Kingdom of Sweden 2 Kingdom of Belgium 3 Kingdom of Denmark 4 Kingdom of the Netherlands
[38] Genova	1 Italian Republic 2 French Republic 3 Republic of Albania 4 Republic of Slovenia
[39] Port Said	1 Republic of Tunisia 2 Kingdom of Morocco 3 Arab Republic of Egypt 4 Republic of South Africa
[40] Montevideo	1 Argentine Republic 2 Republic of Colombia 3 Oriental Republic of Uruguay 4 Bolivarian Republic of Venezuela