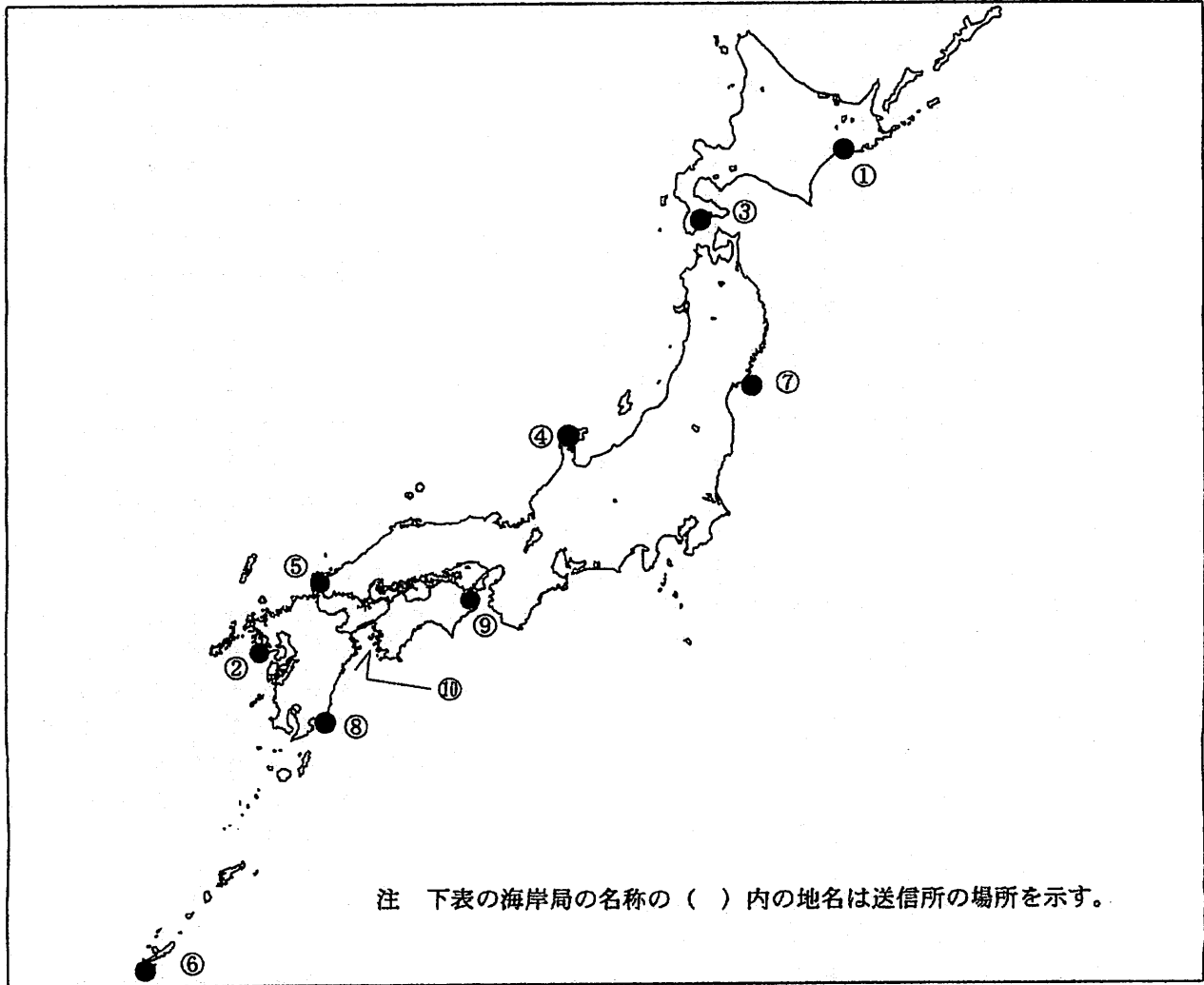


第二級総合無線通信士「地理」試験問題

40問 1時間

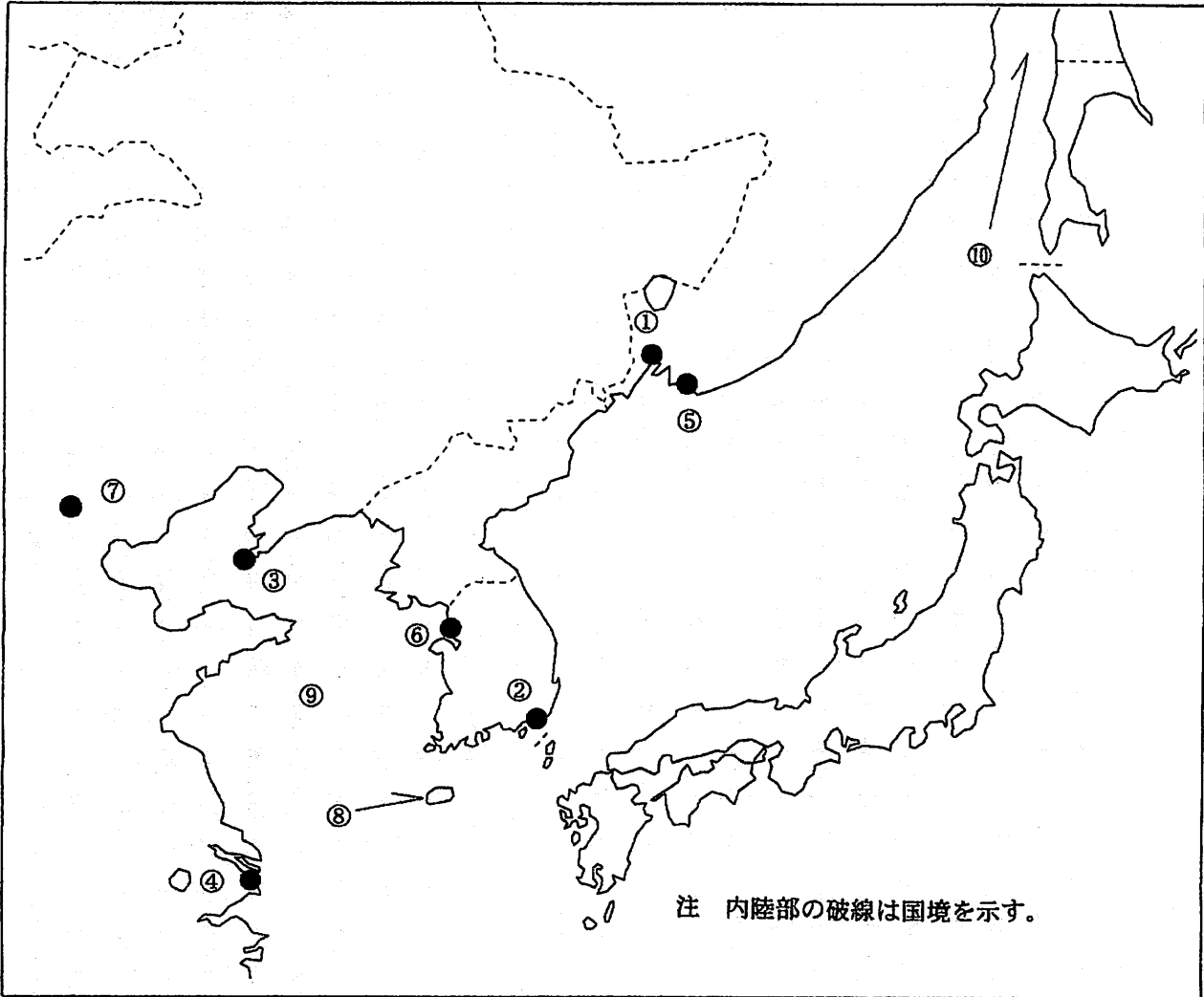
問I 下図により、下表の左欄の事項のそれぞれに該当するものの名称を右欄の語群から一つ選び、その番号で答えよ。



注 下表の海岸局の名称の()内の地名は送信所の場所を示す。

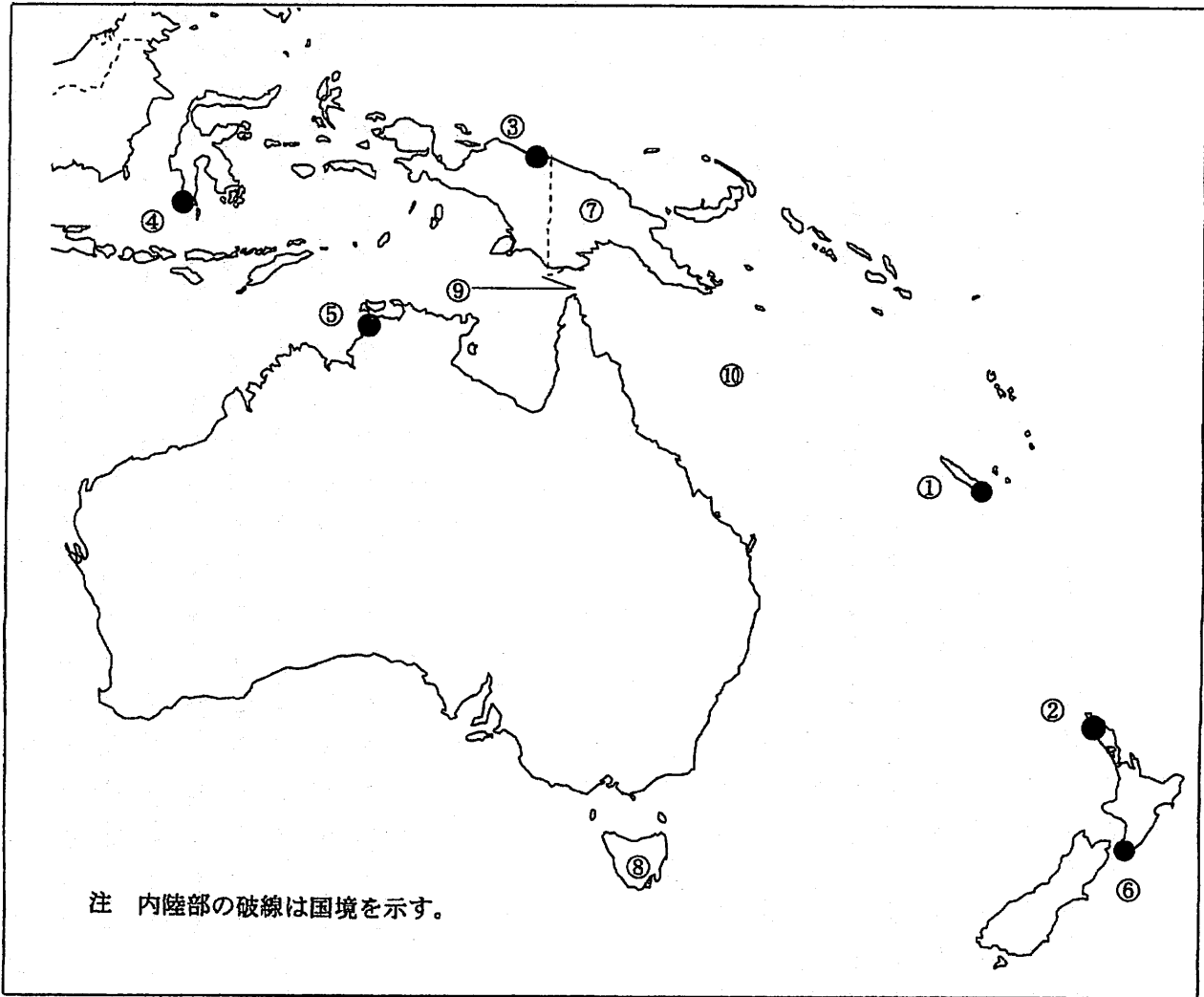
事 項	語 群		
[1] ●印の①に位置する電気通信業務を取り扱う漁業用海岸局の名称	1 宗谷 4 小樽	2 紋別	3 釧路
[2] ●印の②に位置する電気通信業務を取り扱う漁業用海岸局の名称	1 鹿児島県 4 対馬	2 長崎県	3 油津
[3] ●印の③に位置する海上保安庁の海岸局の名称	1 小樽(積丹) 4 小樽(秋ヶ岡)	2 小樽(大野)	3 小樽(昆布森)
[4] ●印の④に位置する海上保安庁の海岸局の名称	1 新潟(倉ヶ岳) 4 舞鶴(枕木山)	2 新潟(猫ヶ岳)	3 舞鶴(馬路)
[5] ●印の⑤に位置するナブテックスで海上安全情報を送信する海上保安庁の海岸局の名称	1 広島(嘉納第1) 4 門司(延行第2)	2 広島(瀬戸)	3 門司(上県)
[6] ●印の⑥に位置するナブテックスで海上安全情報を送信する海上保安庁の海岸局の名称	1 那覇(國頭) 4 那覇(喜屋武)	2 那覇(浜崎)	3 那覇(宮良)
[7] ●印の⑦に位置する海上保安庁の無線航行陸上局(ディファレンシャルGPSによるもの)の名称	1 金華山 4 触倉島	2 尻屋崎	3 酒田
[8] ●印の⑧に位置する海上保安庁の無線航行陸上局(ディファレンシャルGPSによるもの)の名称	1 若宮 4 都井岬	2 大浜	3 大海崎
[9] ●印の⑨に位置する開港名	1 松山 4 高知	2 今治	3 徳島小松島
[10] ⑩の水道名	1 豊後水道 4 口之島水道	2 紀伊水道	3 中之島水道

問Ⅱ 下図により、下表の左欄の事項のそれぞれに該当するものの名称を右欄の語群から一つ選び、その番号で答えよ。



事 項	語 群	
[11] ●印の①に位置する公衆通信業務を取り扱う海岸局の名称	1 Nevelsk Radio 3 Novorossiysk Radio	2 Poronaisk Radio 4 Vladivostok Radio
[12] ●印の②に位置する公衆通信業務を取り扱う海岸局の名称	1 Gunsan(群山) Radio 3 Mokpo(木浦) Radio	2 Kangnung(江陵) Radio 4 Pusan(釜山) Radio
[13] ●印の③に位置するナプテックスで海上安全情報を送信する海岸局の名称	1 Dalian(大連) 3 Haikou(海口) Radio	2 Fuzhou(福州) 4 Xiamen(廈門) Radio
[14] ●印の④に位置するナプテックスで海上安全情報を送信する海岸局の名称	1 Guangzhou(広州) 3 Shanghai(上海)	2 Yantai(煙台) 4 Qingdao(青島) Radio
[15] ●印の⑤に位置する我が国の船舶の寄港地の名称	1 Nykolayevsk-na-Amur 3 Murmansk	2 Nakhodka 4 Tiksi
[16] ●印の⑥に位置する我が国の船舶の寄港地の名称	1 Incheon(仁川) 3 Yeosu(麗水)	2 Pohang(浦項) 4 Ulsan(蔚山)
[17] ●印の⑦に位置する海岸地球局の名称	1 Beijing(北京) 3 Hong Kong(香港)	2 Kumsan(錦山) 4 Sanya(三亚)
[18] ⑧の島名	1 Jin-do(珍島) 3 Ulleungdo(鬱陵島)	2 Jeju-do(济州島) 4 Udo(牛耳島)
[19] ⑨の海名	1 Bohai(渤海) 3 South China Sea(南シナ海)	2 East China Sea(東シナ海) 4 Yellow Sea(黄海)
[20] ⑩の海峡名	1 Hainan Str.(海南海峡) 3 First Kuril Str.(占守海峡)	2 Taiwan Str.(台湾海峡) 4 Tatarskiy Proliv(間宮海峡)

問Ⅲ 下図により、下表の左欄の事項のそれぞれに該当するものの名称を右欄の語群から一つ選び、その番号で答えよ。



事 項	語 群
[21] ●印の①に位置する公衆通信業務を取り扱う海岸局の名称	1 Ncumea Radio 2 Nunukan Radio 3 Tarakan Radio 4 Teluk Bayur Radio
[22] ●印の②に位置する公衆通信業務を取り扱う海岸局の名称	1 Awanui Radio 2 Mahina Radio 3 Taupo Maritime Radio 4 Tbbelo Radio
[23] ●印の③に位置するナブテックスで海上安全情報を送信する海岸局の名称	1 Miri 2 Jayapura 3 Ambon 4 Jatiluhur
[24] ●印の④に位置するナブテックスで海上安全情報を送信する海岸局の名称	1 Cambria 2 Makassar 3 Sandakan 4 Paita
[25] ●印の⑥に位置する我が国の船舶の寄港地の名称	1 Brisbane 2 Darwin 3 Sydney 4 Port Headland
[26] ●印の⑥に位置する我が国の船舶の寄港地の名称	1 Auckland 2 Dunedin 3 Lyttelton 4 Wellington
[27] ⑦の国名	1 Republic of Nauru 2 Independent State of Samoa 3 Independent State of Papua New Guinea 4 Republic of Palau
[28] ⑧の島名	1 New Hebrides 2 New Caledonia 3 Timor 4 Tasmania
[29] ⑨の海峡名	1 Banks Str. 2 Cook Str. 3 Palk Str. 4 Torres Str.
[30] ⑩の海名	1 Arafura Sea 2 Banda Sea 3 Coral Sea 4 Sulu Sea

問IV 次の問いに答えよ。

1 次表のA群のそれぞれの国の首都名をB群の都市から一つ選び、その番号で答えよ。

A 群	B 群	
[31] Republic of the Philippines	1 Davao 3 Iloilo	2 Cebu 4 Manila
[32] Kingdom of Thailand	1 Ayutthaya 3 Sukhothai	2 Bangkok 4 Nakhon Ratchasima
[33] United Arab Emirates	1 Abu Dhabi 3 Kuwait	2 Doha 4 Riyadh
[34] Republic of Italy	1 Genova 3 Napoli	2 Roma 4 Venezia
[35] Federative Republic of Brazil	1 Brasilia 3 Rio de Janeiro	2 Belem 4 Sao Paulo

2 次表のA群のそれぞれの都市は、我が国の船舶の寄港地であるが、それぞれの所属国名をB群から一つ選び、その番号で答えよ。

A 群	B 群	
[36] Vancouver	1 Australia 2 Canada 3 New Zealand 4 United States of America	
[37] Stockholm	1 Republic of Finland 2 Kingdom of Norway 3 Kingdom of Sweden 4 Kingdom of the Netherlands	
[38] Alexandria	1 Arab Republic of Egypt 2 The Republic of the Sudan 3 Republic of South Africa 4 United Republic of Tanzania	
[39] Istanbul	1 Republic of Bulgaria 2 Hellenic Republic 3 Republic of Turkey 4 Republic of Armenia	
[40] Antofagasta	1 Republic of Chile 2 Republic of Ecuador 3 Republic of Peru 4 Bolivarian Republic of Venezuela	