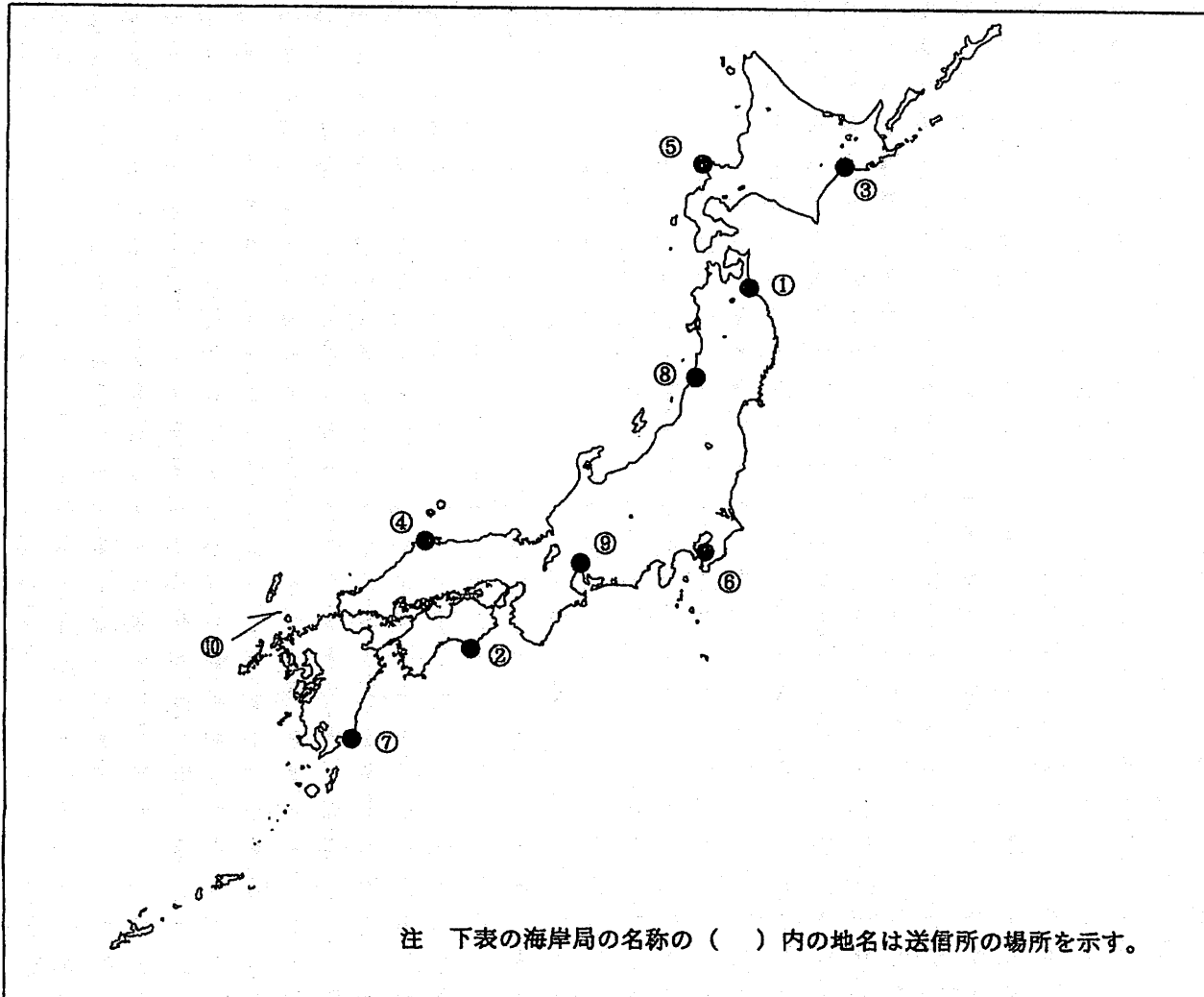


第二級総合無線通信士「地理」試験問題

40問 1時間

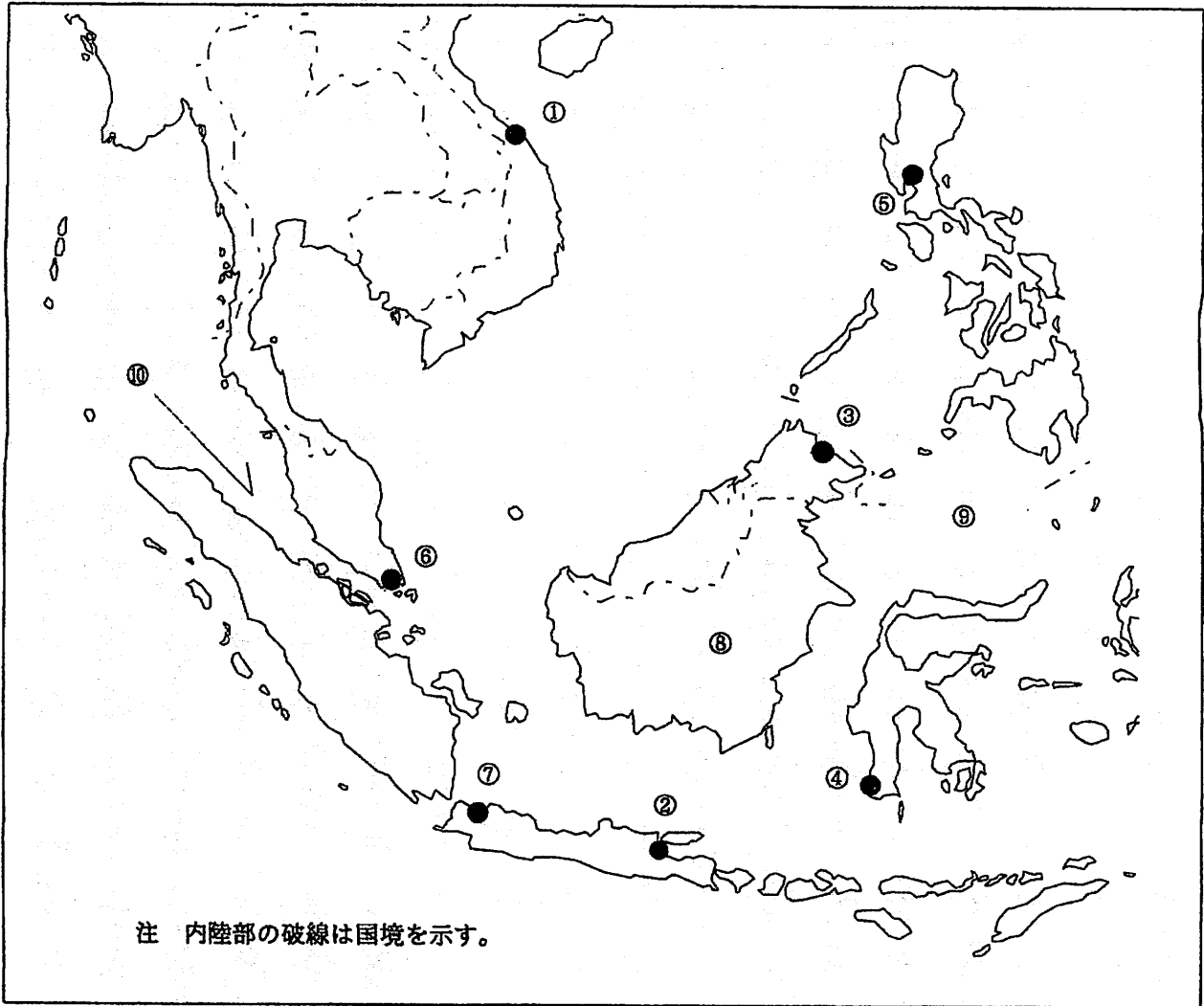
問I 下図により、下表の左欄の事項のそれぞれに該当するものの名称を右欄の語群から一つ選び、その番号で答えよ。



注 下表の海岸局の名称の () 内の地名は送信所の場所を示す。

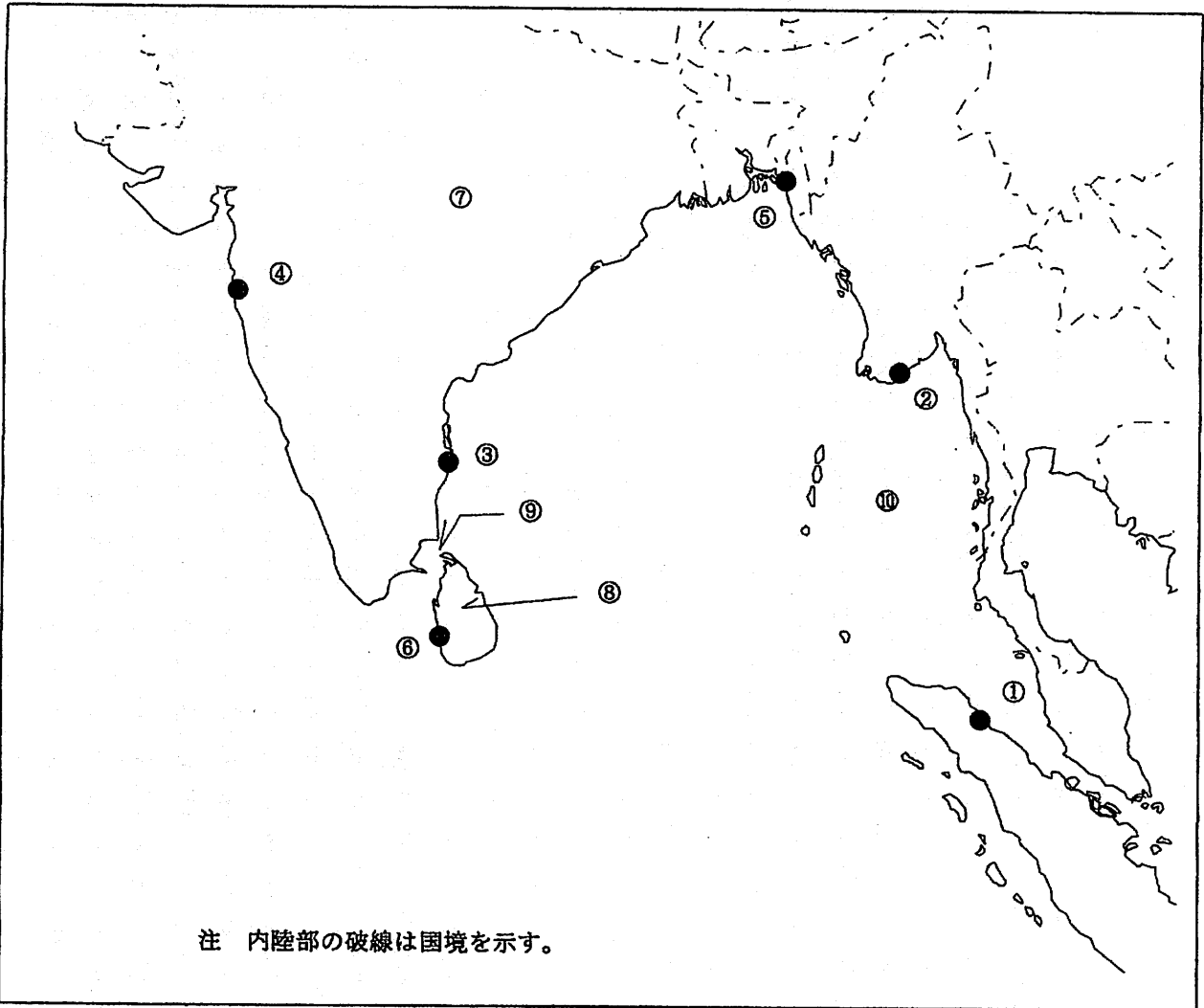
事 項	語 群		
[1] ●印の①に位置する電気通信業務を取り扱う漁業用海岸局の名称	1 青森県 4 深浦	2 宮城県	3 小泊
[2] ●印の②に位置する電気通信業務を取り扱う漁業用海岸局の名称	1 三重県 4 油津	2 室戸	3 仙崎
[3] ●印の③に位置する海上保安庁の海岸局の名称	1 小樽(秋ヶ岡) 4 小樽(昆布森)	2 小樽(大野)	3 小樽(積丹)
[4] ●印の④に位置する海上保安庁の海岸局の名称	1 舞鶴(越前) 4 舞鶴(横尾)	2 舞鶴(馬路)	3 舞鶴(枕木山)
[5] ●印の⑤に位置するナブテックスで海上安全情報を送信する海上保安庁の海岸局の名称	1 小樽(積丹第2) 4 小樽(十町瀬)	2 小樽(函館山)	3 小樽(羅臼)
[6] ●印の⑥に位置するナブテックスで海上安全情報を送信する海上保安庁の海岸局の名称	1 横浜(銚子) 4 横浜(富津第2)	2 横浜(白浜)	3 横浜(武山)
[7] ●印の⑦に位置する海上保安庁の無線航行陸上局(ディファレンシャルGPSによるもの)の名称	1 大瀬崎 4 若宮	2 都井岬	3 江崎
[8] ●印の⑧に位置する海上保安庁の無線航行陸上局(ディファレンシャルGPSによるもの)の名称	1 金華山 4 尻屋崎	2 大浜	3 酒田
[9] ●印の⑨に位置する開港名	1 沼水 4 田子の浦	2 田辺	3 名古屋
[10] ⑩の海峡名	1 大隅海峡 4 対馬海峡	2 明石海峡	3 関門海峡

問Ⅱ 下図により、下表の左欄の事項のそれぞれに該当するものの名称を右欄の語群から一つ選び、その番号で答えよ。



事 項	語 群	
[11] ●印の①に位置する公衆通信業務を取り扱う海岸局の名称	1 Cantho Radio 3 Danang Radio	2 Camau Radio 4 Haiphong Radio
[12] ●印の②に位置する公衆通信業務を取り扱う海岸局の名称	1 Jakarta Radio 3 Samarinda Radio	2 Surabaya Radio 4 Tapak Tuan Radio
[13] ●印の③に位置するナブテックスで海上安全情報を送信する海岸局の名称	1 Jayapura 3 Sandakan	2 Penang 4 Walvis Bay
[14] ●印の④に位置するナブテックスで海上安全情報を送信する海岸局の名称	1 Ambon 3 Miri	2 Hamala 4 Makassar
[15] ●印の⑤に位置する我が国の船舶の寄港地の名称	1 Davao 3 Iloilo	2 Manila 4 Zamboanga
[16] ●印の⑥に位置する我が国の船舶の寄港地の名称	1 Manado 3 Kupang	2 Bandar Seri Begawan 4 Singapore
[17] ●印の⑦に位置する海岸地球局の名称	1 Jatiluhur 3 Perth	2 Nonthaburi 4 Pune
[18] ⑧の島名	1 Bali 3 Kalimantan(Borneo)	2 Jawa 4 Sumatera
[19] ⑨の海名	1 Arafura Sea 3 Celebes Sea	2 Banda Sea 4 Coral Sea
[20] ⑩の海峡名	1 Karimata Str. 3 Makassar Str.	2 Sunda Str. 4 Str. of Malacca

問Ⅲ 下図により、下表の左欄の事項のそれぞれに該当するものの名称を右欄の語群から一つ選び、その番号で答えよ。



事 項	語 群	
[21] ●印の①に位置する公衆通信業務を取り扱う海岸局の名称	1 Belawan Radio 3 Palembang Radio	2 Pontianak Radio 4 Tarakan Radio
[22] ●印の②に位置する公衆通信業務を取り扱う海岸局の名称	1 Bengkulu Radio 3 Surat Radio	2 Songkhla Radio 4 Yangon Radio
[23] ●印の③に位置するナプテックスで海上安全情報を送信する海岸局の名称	1 Chennai 3 Karachi	2 Cambria 4 Mauritius Radio, Cassis
[24] ●印の④に位置するナプテックスで海上安全情報を送信する海岸局の名称	1 Bandare Abbas 3 Muscat	2 Bushehr 4 Mumbai
[25] ●印の⑤に位置する我が国の船舶の寄港地の名称	1 Banjarmasin 3 Goa	2 Chittagong 4 Kolkata(Calcutta)
[26] ●印の⑥に位置する我が国の船舶の寄港地の名称	1 Colombo 3 Kuching	2 Jaffna 4 Trincomalee
[27] ⑦の国名	1 Kingdom of Thailand 3 People's Republic of Bangladesh	2 Islamic Republic of Pakistan 4 India
[28] ⑧の島名	1 Halmahera 3 Sri Lanka	2 Madura 4 Sumbawa
[29] ⑨の海峡名	1 Banks Str. 3 Palk Str.	2 Cook Str. 4 Torres Str.
[30] ⑩の海名	1 Andaman Sea 3 Sulu Sea	2 Flores Sea 4 Sibuyan Sea

問IV 次の問いに答えよ。

1 次表のA群のそれぞれの国の首都名をB群の都市から一つ選び、その番号で答えよ。

A 群	B 群	
[31] Socialist Republic of Viet Nam	1 Hanoi 3 Hai Phong	2 Ho Chi Minh 4 Vinh
[32] India	1 Bangalore 3 Goa	2 Chennai(Madras) 4 New Delhi
[33] Kingdom of Saudi Arabia	1 Abu Dhabi 3 Kuwait	2 Doha 4 Riyadh
[34] Arab Republic of Egypt	1 Alexandria 3 Port Said	2 Cairo 4 Suez
[35] Republic of Chile	1 Lima 3 Montevideo	2 Buenos Aires 4 Santiago

2 次表のA群のそれぞれの都市は、我が国の船舶の寄港地であるが、それぞれの所属国名をB群から一つ選び、その番号で答えよ。

A 群	B 群
[36] New Orleans	1 French Republic 2 Kingdom of Belgium 3 United Mexican States 4 United States of America
[37] Barcelona	1 Spain 2 Republic of Italy 3 Republic of Slovenia 4 Portuguese Republic
[38] Cape Town	1 Republic of Kenya 2 Republic of Malawi 3 Republic of South Africa 4 United Republic of Tanzania
[39] Sao Paulo	1 Republic of Peru 2 Argentine Republic 3 Federative Republic of Brazil 4 Bolivarian Republic of Venezuela
[40] Darwin	1 Australia 2 New Zealand 3 Republic of Indonesia 4 Republic of the Philippines