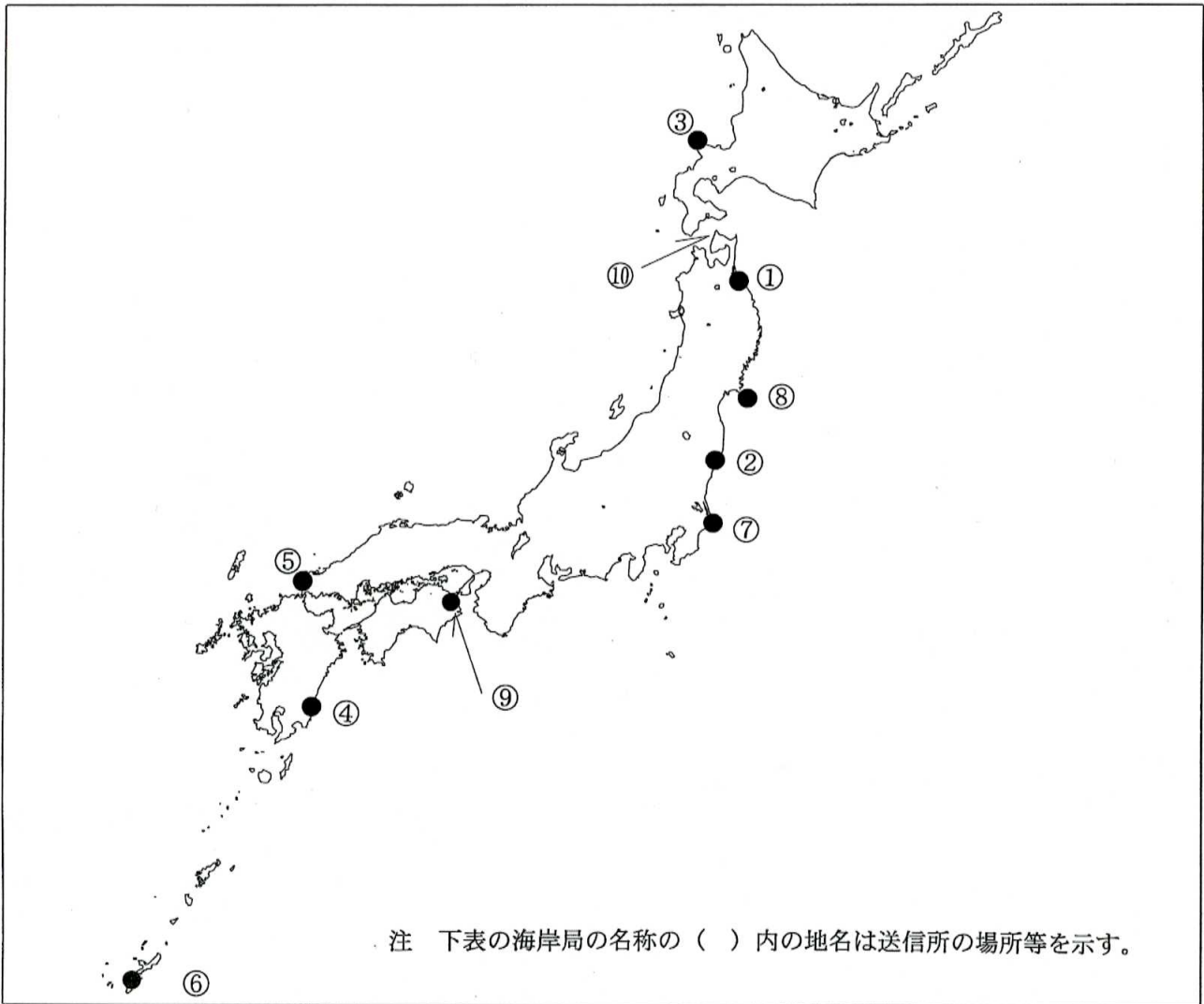


第二級総合無線通信士「地理」試験問題

40問 1時間

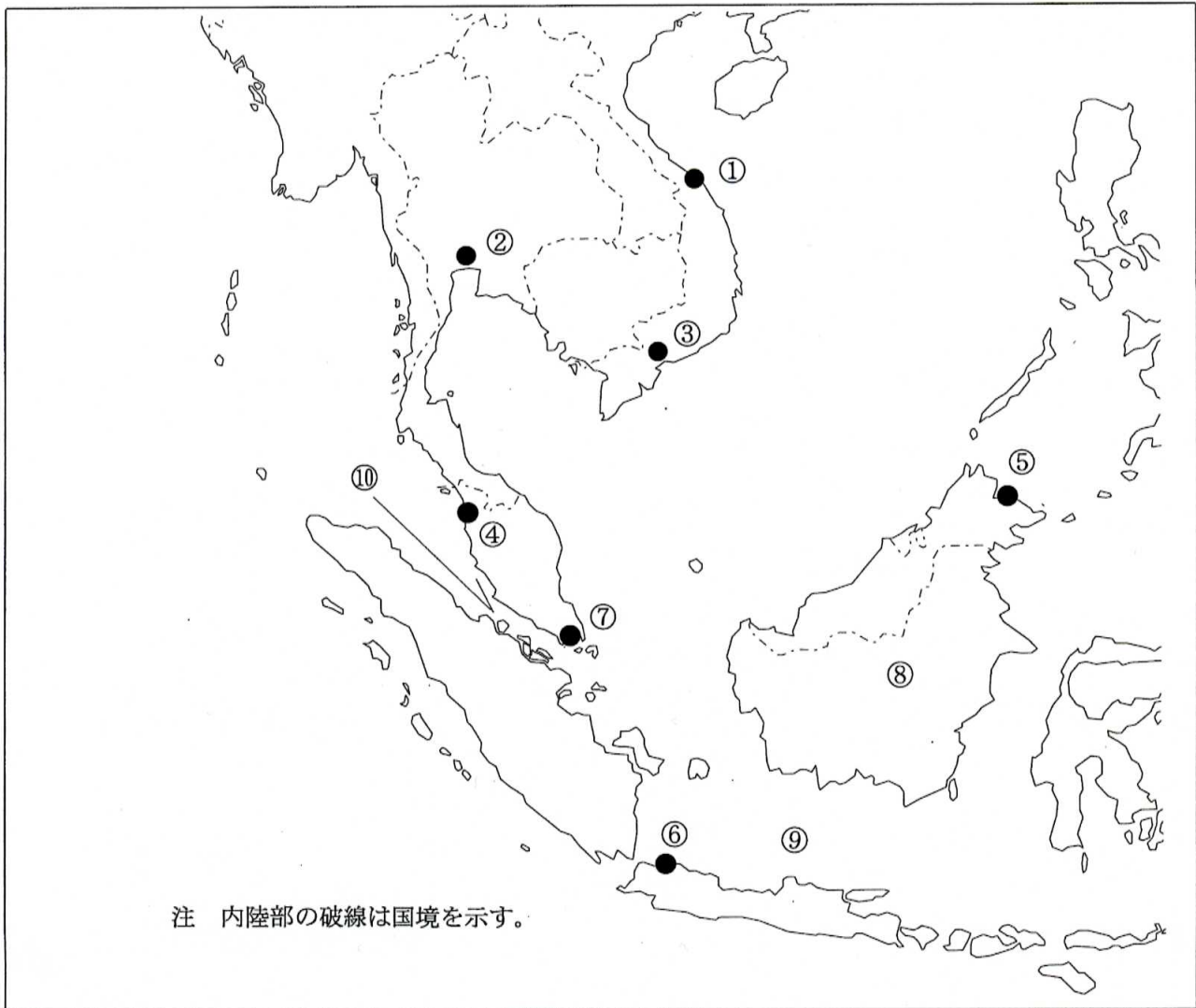
問I 下図により、下表の左欄の事項のそれぞれに該当するものの名称を右欄の語群から一つ選び、その番号で答えよ。



注 下表の海岸局の名称の（ ）内の地名は送信所の場所等を示す。

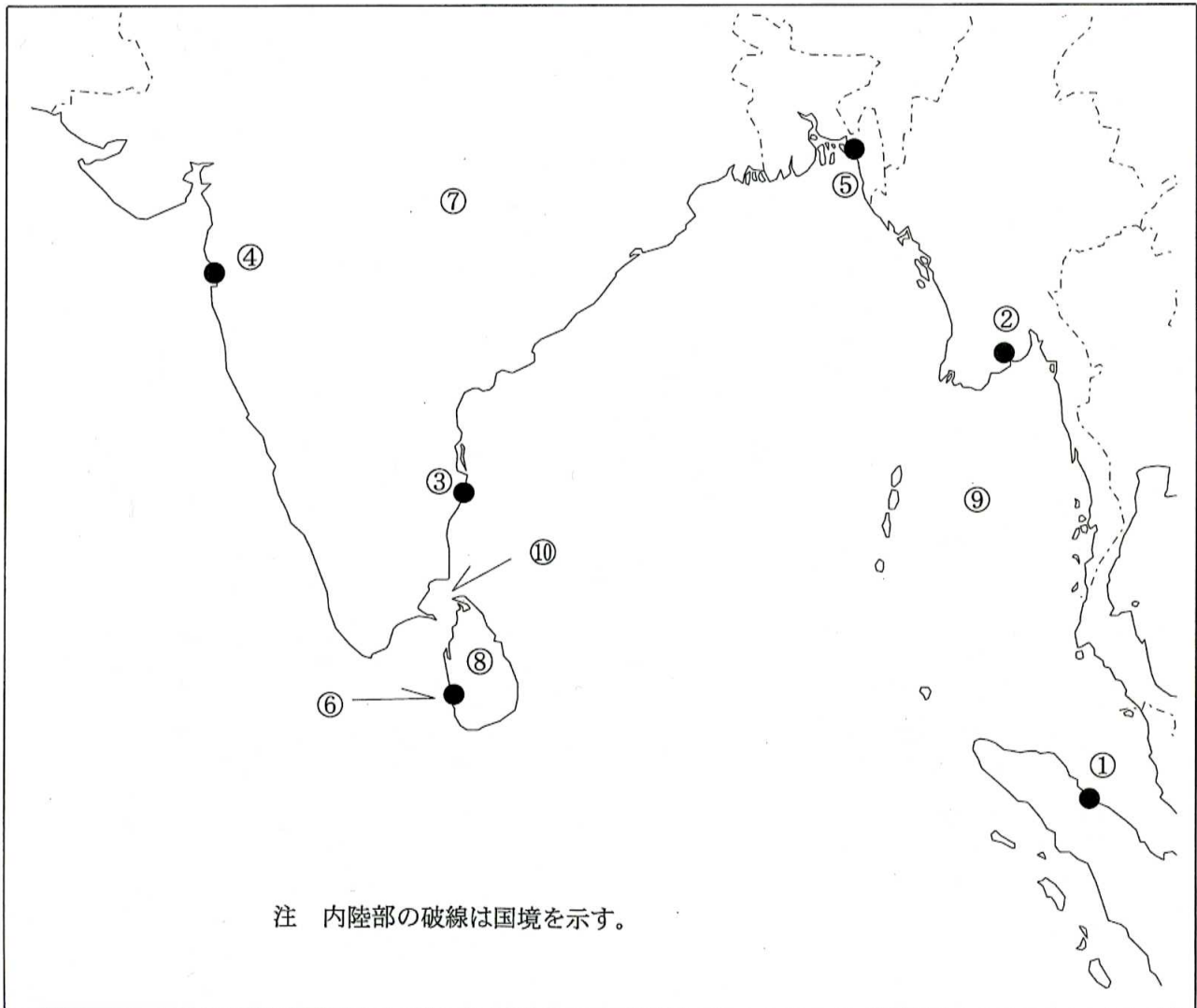
事 項	語 群		
[1] ●印の①に位置する電気通信業務を取り扱う漁業用海岸局の名称	1 青森県 4 釧路	2 釜石	3 宮城県
[2] ●印の②に位置する電気通信業務を取り扱う漁業用海岸局の名称	1 千葉県 4 仙崎	2 神奈川県	3 福島県
[3] ●印の③に位置する海上保安庁の海岸局の名称	1 小樽（大野） 4 小樽（萩ヶ岡）	2 小樽（積丹）	3 小樽（昆布森）
[4] ●印の④に位置する海上保安庁の海岸局の名称	1 鹿児島（油津） 4 鹿児島（中之島）	2 鹿児島（名瀬）	3 鹿児島（朝戸）
[5] ●印の⑤に位置するナブテックスで海上安全情報を送信する海上保安庁の海岸局の名称	1 舞鶴（枕木山） 4 門司（延行第2）	2 神戸（先山）	3 神戸（津名）
[6] ●印の⑥に位置するナブテックスで海上安全情報を送信する海上保安庁の海岸局の名称	1 鹿児島（高畑） 4 那覇（喜屋武）	2 鹿児島（大浦）	3 鹿児島（油井）
[7] ●印の⑦に位置する海上保安庁の無線航行陸上局（ディファレンシャルGPSによるもの）の名称	1 犬吠埼 4 大王崎	2 剣崎	3 浦安
[8] ●印の⑧に位置する海上保安庁の無線航行陸上局（ディファレンシャルGPSによるもの）の名称	1 若宮 4 大浜	2 酒田	3 金華山
[9] ●印の⑨に位置する開港名	1 徳山下松 4 三島川之江	2 徳島小松島	3 三田尻中関
[10] ⑩の海峡名	1 津軽海峡 4 宗谷海峡	2 根室海峡	3 平館海峡

問II 下図により、下表の左欄の事項のそれぞれに該当するものの名称を右欄の語群から一つ選び、その番号で答えよ。



事 項	語 群	
[11] ● 印の①に位置する公衆通信業務を取り扱う海岸局の名称	1 Danang Radio 3 Thanhhoa Radio	2 Kasang Radio 4 Kendari Radio
[12] ● 印の②に位置する公衆通信業務を取り扱う海岸局の名称	1 Surat Radio 3 Songkhla Radio	2 Hue Radio 4 Bangkok Radio
[13] ● 印の③に位置するナプテックスで海上安全情報を送信する海岸局の名称	1 Amboina 3 Jayapura	2 Pontianak Radio 4 Ho Chi Minh Ville Radio
[14] ● 印の④に位置するナプテックスで海上安全情報を送信する海岸局の名称	1 Linyuan 3 Penang	2 Mauritius Cassis 4 Miri
[15] ● 印の⑤に位置する我が国の船舶の寄港地の名称	1 Sandakan 3 San Fernando	2 Davao 4 Makassar
[16] ● 印の⑥に位置する我が国の船舶の寄港地の名称	1 Zamboanga 3 Jakarta	2 Belawan(Medan) 4 Kupang
[17] ● 印の⑦に位置する海岸地球局の名称	1 Jatiluhur 3 Nonthaburi	2 Pune 4 Sentosa
[18] ⑧の島名	1 Sulawesi 3 Jawa	2 Kalimantan(Borneo) 4 Sumatera
[19] ⑨の海名	1 Coral Sea 3 Java Sea	2 Banda Sea 4 Celebes Sea
[20] ⑩の海峡名	1 Str. of Magellan 3 Sunda Str.	2 Str. of Malacca 4 Karimata Str.

問Ⅲ 下図により、下表の左欄の事項のそれぞれに該当するものの名称を右欄の語群から一つ選び、その番号で答えよ。



事 項	語 群
[21] ●印の①に位置する公衆通信業務を取り扱う海岸局の名称	1 Belawan Radio                      2 Benoa Radio 3 Palembang Radio                  4 Ende Radio
[22] ●印の②に位置する公衆通信業務を取り扱う海岸局の名称	1 Yangon Radio                        2 Nukualofa Radio 3 Tapak Tuan Radio                  4 Phuket Radio
[23] ●印の③に位置するナプテックスで海上安全情報を送信する海岸局の名称	1 Bushehr                                2 Walvis Bay 3 Chennai                               4 Muscat
[24] ●印の④に位置するナプテックスで海上安全情報を送信する海岸局の名称	1 Mumbai                               2 Bandar Abbas 3 Damman                               4 Jeddah
[25] ●印の⑤に位置する我が国の船舶の寄港地の名称	1 Kolkata(Calcutta)                  2 Chennai(Madras) 3 Mangalore                            4 Chittagong
[26] ●印の⑥に位置する我が国の船舶の寄港地の名称	1 Jaffna                                  2 Port Blair 3 Colombo                              4 Trincomalee
[27] ⑦の国名	1 Islamic Republic of Pakistan      2 Republic of Indonesia 3 People's Republic of Bangladesh 4 India
[28] ⑧の島名	1 South Andaman                      2 Little Nicobar 3 Great Nicobar                        4 Sri Lanka
[29] ⑨の海名	1 Andaman Sea                         2 Floress Sea 3 Arabian Sea                          4 Sibuyan Sea
[30] ⑩の海峡名	1 Torres Str.                            2 Foveaux Str. 3 Palk Str.                               4 Lombok Str.

問Ⅳ 次の問いに答えよ。

1 次表のA群のそれぞれの国の首都名をB群の都市から一つ選び、その番号で答えよ。

A 群	B 群	
[31] Socialist Republic of Viet Nam	1 Semarang 3 Hanoi	2 Phnom Penh 4 Bangkok
[32] Republic of the Philippines	1 Kuala Lumpur 3 Manila	2 Port Moresby 4 Manado
[33] Kingdom of Saudi Arabia	1 Amman 3 Riyadh	2 Abu Dhabi 4 Doha
[34] Republic of Chile	1 Buenos Aires 3 La Paz	2 Santiago 4 Lima
[35] Australia	1 Canberra 3 Perth	2 Melbourne 4 Sydney

2 次表のA群のそれぞれの都市は、我が国の船舶の寄港地であるが、それぞれの所属国名をB群から一つ選び、その番号で答えよ。

A 群	B 群
[36] Montreal	1 United Kingdom of Great Britain and Northern Ireland 2 United States of America 3 United Mexican States 4 Canada
[37] Santos	1 Bolivarian Republic of Venezuela 2 Oriental Republic of Uruguay 3 Federative Republic of Brazil 4 Republic of Peru
[38] Mombasa	1 United Republic of Tanzania 2 Republic of South Africa 3 Republic of Angola 4 Republic of Kenya
[39] Napoli	1 Republic of Croatia 2 Hellenic Republic 3 French Republic 4 Republic of Italy
[40] Wellington	1 Republic of the Fiji Islands 2 Republic of Vanuatu 3 New Zealand 4 Australia