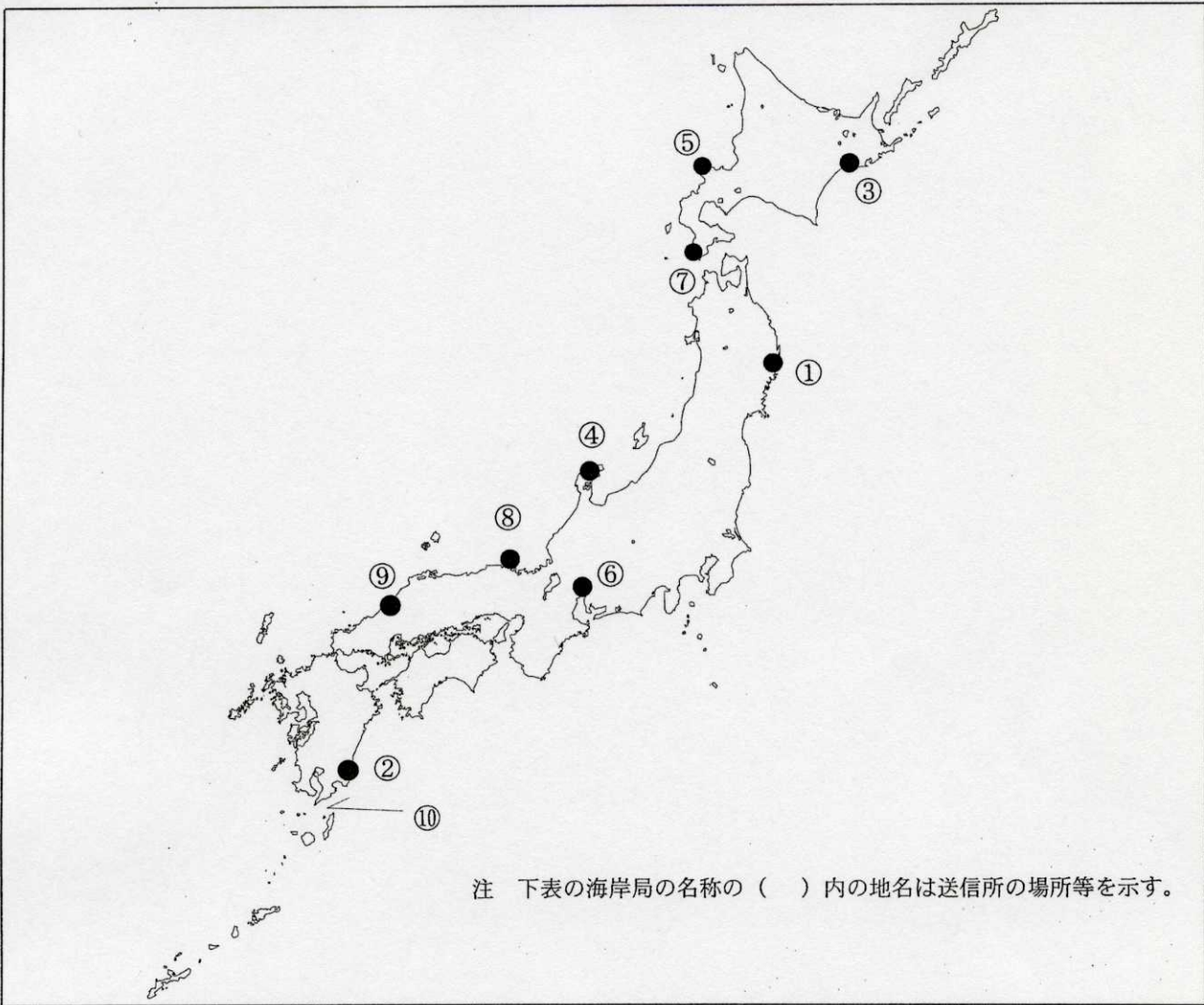


第二級総合無線通信士「地理」試験問題

40問 1時間

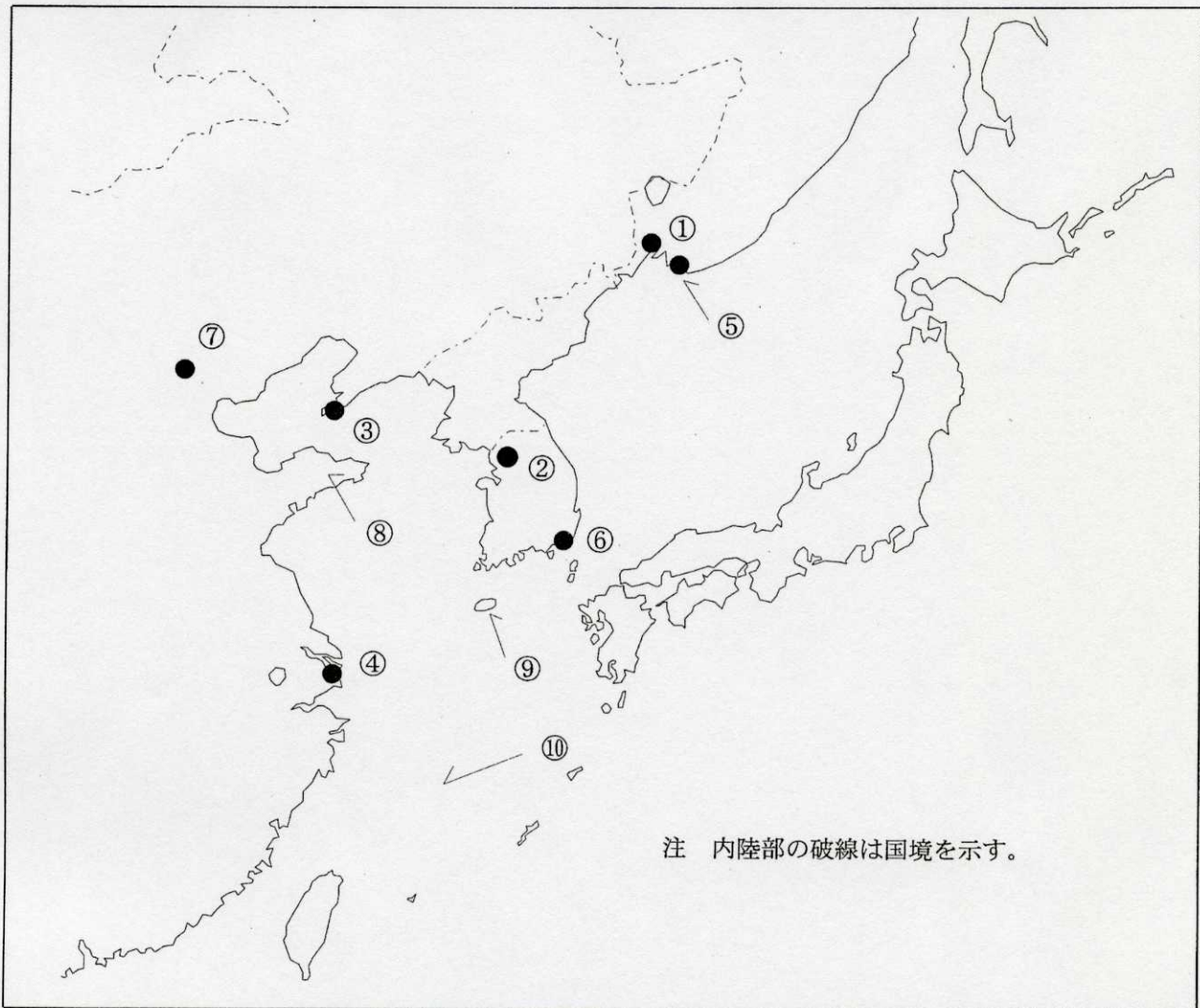
問I 下図により、下表の左欄の事項のそれぞれに該当するものの名称を右欄の語群から一つ選び、その番号で答えよ。



注 下表の海岸局の名称の () 内の地名は送信所の場所等を示す。

事 項	語 群		
[1] ●印の①に位置する電気通信業務を取り扱う漁業用海岸局の名称	1 福島県 4 茨城県	2 釜石	3 宮城県
[2] ●印の②に位置する電気通信業務を取り扱う漁業用海岸局の名称	1 長崎県 4 油津	2 鹿児島県	3 沖縄県
[3] ●印の③に位置する海上保安庁の海岸局の名称	1 小樽(積丹) 4 小樽(大野)	2 小樽(昆布森)	3 小樽(萩ヶ岡)
[4] ●印の④に位置する海上保安庁の海岸局の名称	1 舞鶴(越前) 4 新潟(荒川)	2 舞鶴(枕木山)	3 新潟(猫ヶ岳)
[5] ●印の⑤に位置するナブテックスで海上安全情報を送信する海上保安庁の海岸局の名称	1 小樽(積丹第2) 4 横浜(富津第2)	2 門司(延行第2)	3 釧路(十町瀬)
[6] ●印の⑥に位置する海上保安庁の無線航行陸上局(レーダーによるもの)の名称	1 名古屋 4 松原	2 江崎	3 伊良湖岬
[7] ●印の⑦に位置する海上保安庁の無線航行陸上局(ディファレンシャルGPSによるもの)の名称	1 松前 4 釧路埼	2 網走	3 積丹岬
[8] ●印の⑧に位置する海上保安庁の無線航行陸上局(ディファレンシャルGPSによるもの)の名称	1 浜田 4 若宮	2 丹後	3 大浜
[9] ●印の⑨に位置する開港名	1 浜田 4 敦賀	2 萩	3 舞鶴
[10] ⑩の海峡又は水道名	1 明石海峡 4 諏訪之瀬水道	2 大隅海峡	3 中之島水道

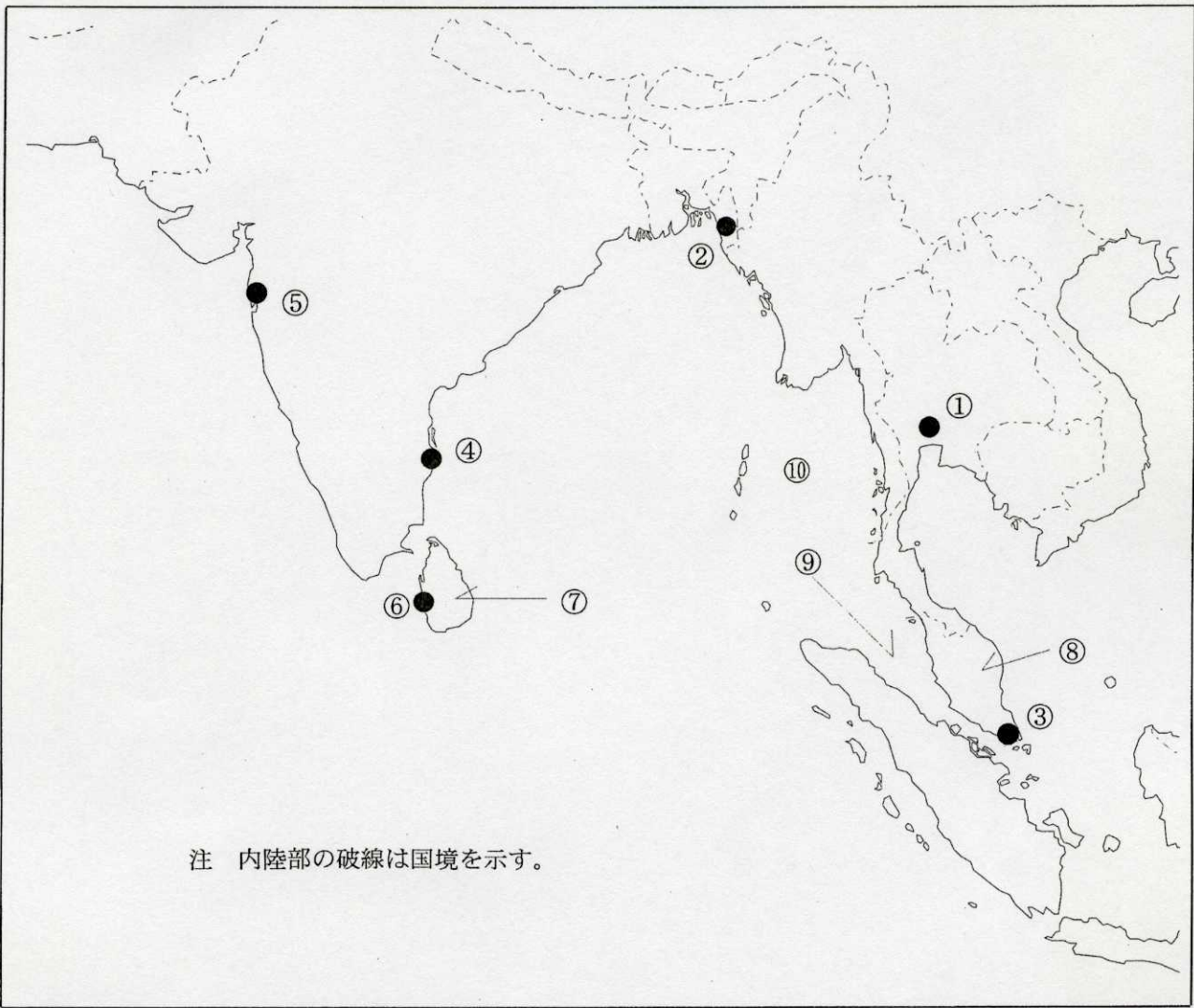
問II 下図により、下表の左欄の事項のそれぞれに該当するものの名称を右欄の語群から一つ選び、その番号で答えよ。



注 内陸部の破線は国境を示す。

事 項	語 群	
[11] ●印の①に位置する公衆通信業務を取り扱う海岸局の名称	1 Murmansk Radio 3 Petropavlovsk Radio	2 Vladivostok Radio 4 Aleksandrovsk Sakhalinskii Radio
[12] ●印の②に位置する公衆通信業務を取り扱う海岸局の名称	1 Gunsan (群山) Radio 3 Mokpo (木浦) Radio	2 Seoul (ソウル) Radio 4 Ulleung (鬱陵) Radio
[13] ●印の③に位置するナプテックスで海上安全情報を送信する海岸局の名称	1 Dalian (大連) 3 Hong Kong (香港)	2 Sanya (三亚) 4 Guangzhou (広州)
[14] ●印の④に位置するナプテックスで海上安全情報を送信する海岸局の名称	1 Haikou (海口) 3 Guangzhou (広州)	2 Fuzhou (福州) 4 Shanghai (上海)
[15] ●印の⑤に位置する我が国の船舶の寄港地の名称	1 Okhotsk 3 Nakhodka	2 Yamsk 4 Petropavlovsk-Kamchatskiy
[16] ●印の⑥に位置する我が国の船舶の寄港地の名称	1 Busan (釜山) 3 Pohang (浦項)	2 Yeosu (麗水) 4 Inchon (仁川)
[17] ●印の⑦に位置する海岸地球局の名称	1 Liaoning (遼寧) 3 Nanyang (南陽)	2 Liaoyang (遼陽) 4 Beijing (北京)
[18] ⑧の半島名	1 Kowloon Pantao (九龍半島) 3 Shantung Pantao (山東半島)	2 Leichou Pantao (雷州半島) 4 Liaotung Pantao (遼東半島)
[19] ⑨の島名	1 Jeju-do (済州島) 3 Jindo (珍島)	2 Geojedo (巨濟島) 4 Oenarodo (外羅老島)
[20] ⑩の海名	1 Bohai (渤海) 3 South China Sea (南シナ海)	2 Yellow Sea (黄海) 4 East China Sea (東シナ海)

問Ⅲ 下図により、下表の左欄の事項のそれぞれに該当するものの名称を右欄の語群から一つ選び、その番号で答えよ。



注 内陸部の破線は国境を示す。

事 項	語 群	
[21] ● 印の①に位置する公衆通信業務を取り扱う 海岸局の名称	1 Yangon Radio 3 Phuket Radio	2 Bangkok Radio 4 Songkhla Radio
[22] ● 印の②に位置する公衆通信業務を取り扱う 海岸局の名称	1 Surat Radio 3 Prachaup Radio	2 Hochiminh Ville Radio 4 Chittagong Radio
[23] ● 印の③に位置するナプテックスで海上安全 情報を送信する海岸局の名称	1 Penang 3 Singapore	2 Da Nang 4 Miri
[24] ● 印の④に位置するナプテックスで海上安全 情報を送信する海岸局の名称	1 Chennai (Madras) 3 Kosseir	2 Bushehr 4 Karachi
[25] ● 印の⑤に位置するナプテックスで海上安全 情報を送信する海岸局の名称	1 Mumbai (Bombay) 3 Mascat	2 Karach Radio 4 Mauritius Radio
[26] ● 印の⑥に位置する我が国の船舶の寄港地の 名称	1 Goa 3 George Town	2 Medan 4 Colombo
[27] ⑦の国名	1 Kingdom of Thailand 3 Democratic Socialist Republic of Sri Lanka	2 Republic of Palau 4 India
[28] ⑧の半島名	1 Indo China Pen. 3 Malay Pen.	2 Minahasea Pen. 4 Cape York Pen.
[29] ⑨の海峡名	1 Str. of Lombok 3 Str. of Hormuz	2 Str. of Molucca 4 Str. of Malacca
[30] ⑩の海名	1 Java Sea 3 Solomon Sea	2 Sulu Sea 4 Andaman Sea

問IV 次の問いに答えよ。

1 次表のA群のそれぞれの国の首都名をB群の都市から一つ選び、その番号で答えよ。

A 群	B 群	
[31] Republic of the Philippines	1 Manila 3 Zamboanga	2 Iloilo 4 Davao
[32] Malaysia	1 Hanoi 3 Phnom Penh	2 Johor Baru 4 Kuala Lumpur
[33] Kingdom of Thailand	1 Yangon 3 Port Moresby	2 Bangkok 4 Bandar Seri Begawan
[34] Kingdom of Saudi Arabia	1 Amman 3 Abu Dhabi	2 Riyadh 4 Hyderabad
[35] Republic of Peru	1 Lima 3 Caracas	2 Quito 4 Santiago

2 次表のA群のそれぞれの都市は、我が国の船舶の寄港地であるが、それぞれの所属国名をB群から一つ選び、その番号で答えよ。

A 群	B 群
[36] Vancouver	1 Canada 2 Kingdom of Denmark 3 United States of America 4 United Kingdom of Great Britain and Northern Ireland
[37] Lisbon	1 French Republic 2 Kingdom of Spain 3 Portuguese Republic 4 People's Democratic Republic of Algeria
[38] Cape Town	1 Republic of Kenya 2 Republic of Namibia 3 Republic of South Africa 4 United Republic of Tanzania
[39] Santos	1 Argentine Republic 2 Republic of Ecuador 3 Republic of Colombia 4 Federative Republic of Brazil
[40] Darwin	1 Australia 2 New Zealand 3 Republic of Chile 4 Republic of Palau