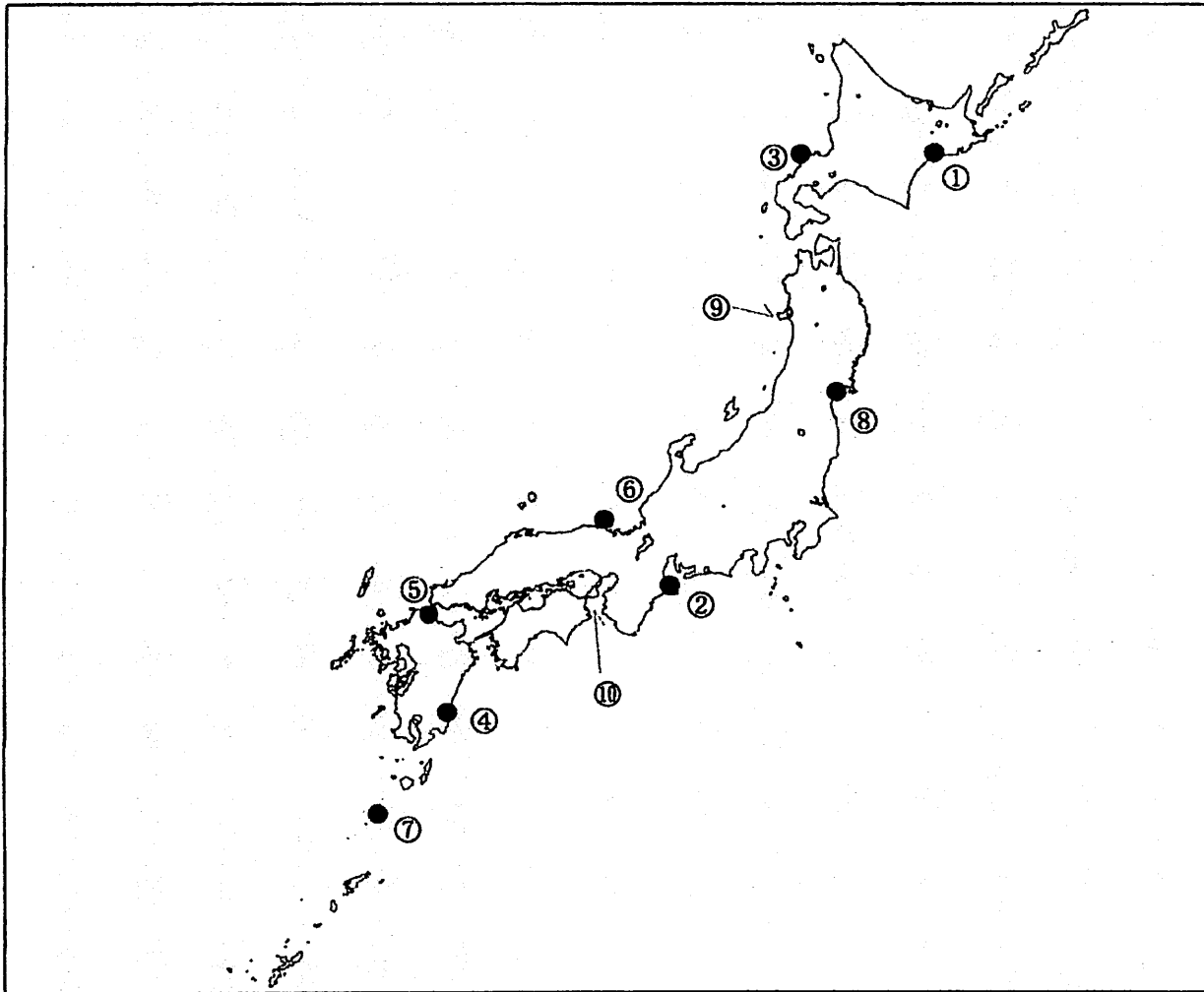


第二級総合無線通信士「地理」試験問題

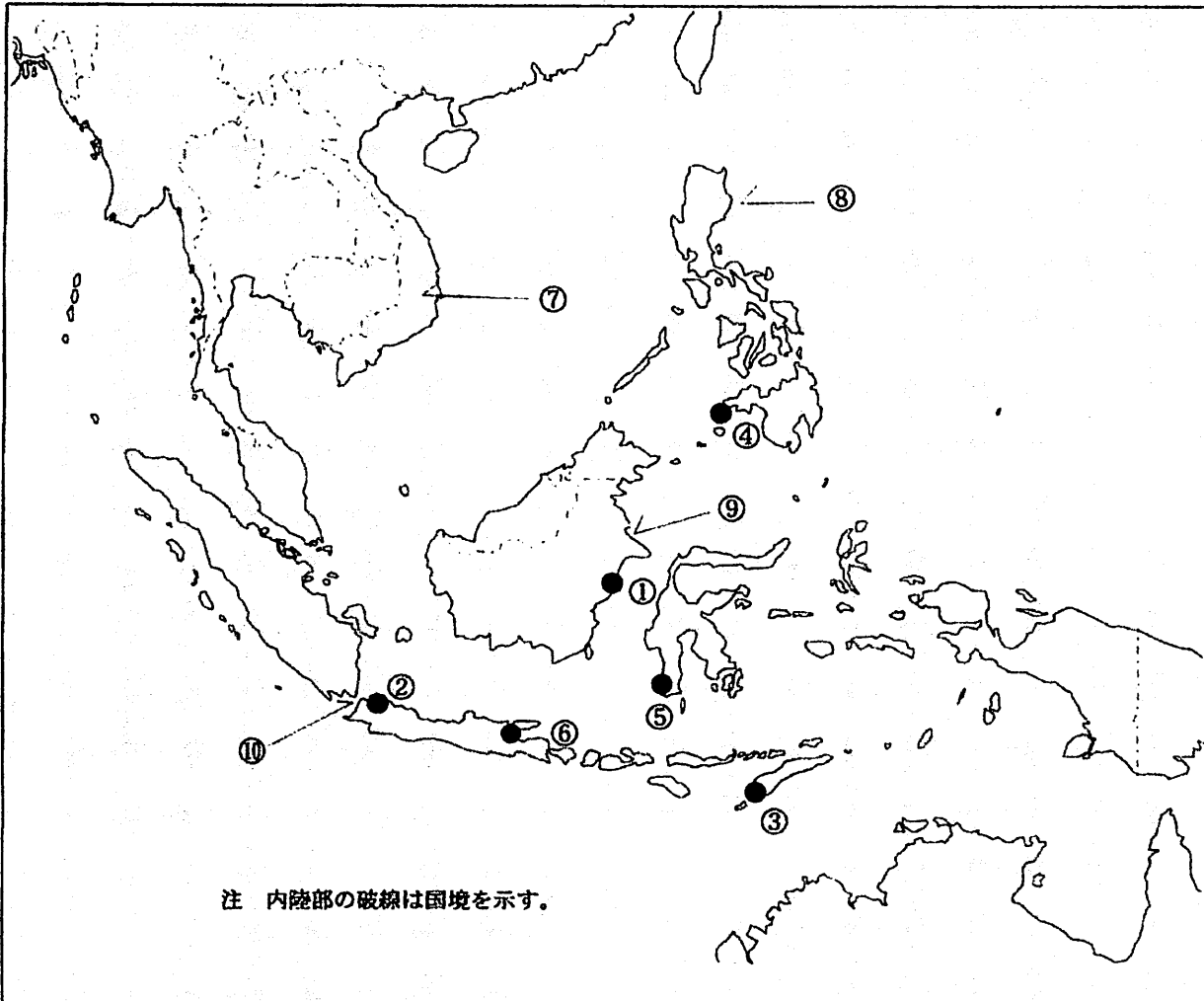
40問 1時間

問1 下図により、下表の左欄の事項のそれぞれに該当するものの名称を右欄の語群から一つ選び、その番号で答えよ。



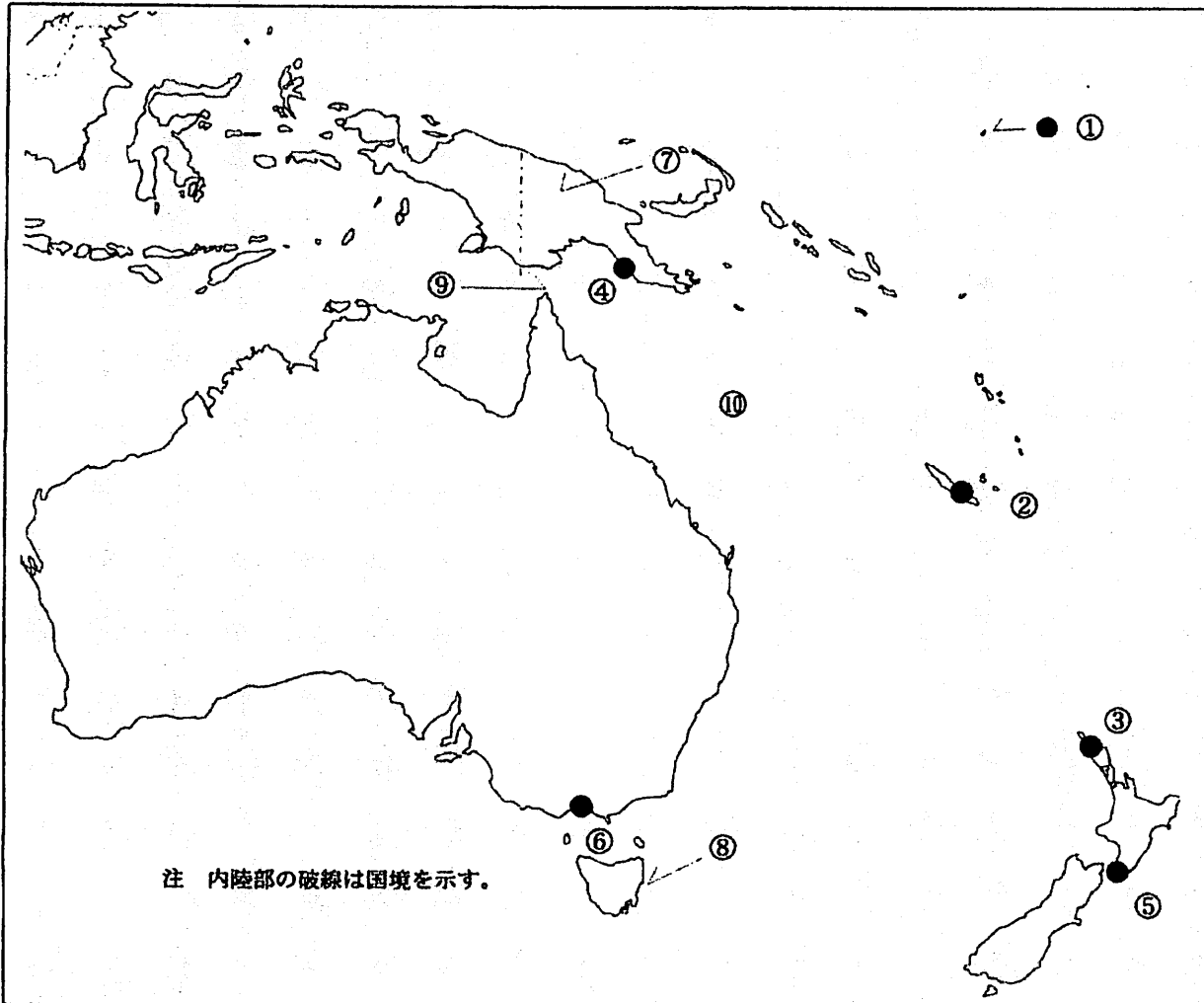
事 項	語 群		
[1] ●印の①に位置する電気通信業務を取り扱う漁業用海岸局の名称	1 釧路 4 釜石	2 青森県	3 宮城県
[2] ●印の②に位置する電気通信業務を取り扱う漁業用海岸局の名称	1 三崎 4 仙崎	2 静岡県	3 三重県
[3] ●印の③に位置する海上保安庁の海岸局の名称 注( )内の地名は遠征所の場所を示す。以下同じ。	1 小樽(萩ヶ岡) 4 小樽(大野)	2 小樽(昆布森)	3 小樽(積丹)
[4] ●印の④に位置する海上保安庁の海岸局の名称	1 鹿児島(中之島) 4 鹿児島(油津)	2 鹿児島(吉見山)	3 鹿児島(名瀬)
[5] ●印の⑤に位置する海上保安庁の無線航行陸上局(レーダーによるもの)の名称	1 江塔 4 伊良湖岬	2 門司	3 今治
[6] ●印の⑥に位置する海上保安庁の無線航行陸上局(ディファレンシャルGPSによるもの)の名称	1 大浜 4 丹後	2 浜田	3 船倉島
[7] ●印の⑦に位置する海上保安庁の無線航行陸上局(ディファレンシャルGPSによるもの)の名称	1 宮古島 4 吐噶喇中之島	2 慶佐次	3 若宮
[8] ●印の⑧に位置する開港名	1 石巻 4 能代	2 八戸	3 気仙沼
[9] ⑨の半島名	1 牡鹿半島 4 津軽半島	2 下北半島	3 男鹿半島
[10] ⑩の海峡又は水道名	1 明石海峡 4 紀伊水道	2 鳴門海峡	3 豊後水道

問Ⅱ 下図により、下表の左欄の事項のそれぞれに該当するものの名称を右欄の語群から一つ選び、その番号で答えよ。



事 項	語 群	
[11] ●印の①に位置する公衆通信業務を取り扱う海岸局の名称	1 Sibolga Radio 3 Samarinda Radio	2 Sorong Radio 4 Merak Radio
[12] ●印の②に位置する公衆通信業務を取り扱う海岸局の名称	1 Sinteta Radio 3 Banjarmasin Radio	2 Jakarta Radio 4 Jambi Radio
[13] ●印の③に位置する公衆通信業務を取り扱う海岸局の名称	1 Singkel Radio 3 Tanjung Pinang Radio	2 Tarakan Radio 4 Kupang Radio
[14] ●印の④に位置する我が国の船舶の寄港地の名称	1 Davao 3 Iloilo	2 Manila 4 Zamboanga
[15] ●印の⑤に位置する我が国の船舶の寄港地の名称	1 Manado 3 Pontianak	2 Balikpapan 4 Makassar(Ujung Pandang)
[16] ●印の⑥に位置する我が国の船舶の寄港地の名称	1 Medan 3 Semarang	2 Pontianak 4 Surabaya
[17] ⑦の国名	1 Malaysia 3 Socialist Republic of Viet Nam	2 Kingdom of Cambodia 4 Kingdom of Thailand
[18] ⑧の島名	1 Luzon 3 Mindanao	2 Samar 4 Cebu
[19] ⑨の島名	1 Jawa 3 Kalimantan (Borneo)	2 Sumatera 4 Sulawesi
[20] ⑩の海峡名	1 Strait of Sunda 3 Strait of Lombok	2 Strait of Bali 4 Molucca Strait

問Ⅲ 下図により、下表の左欄の事項のそれぞれに該当するものの名称を右欄の語群から一つ選び、その番号で答えよ。



事 項	語 群	
[21] ● ①に位置する公衆通信業務を取り扱う海岸局の名称	1 Nauru Radio 3 Pago Pago Radio	2 Ponape Radio 4 Taupo Maritime Radio
[22] ● ②に位置する公衆通信業務を取り扱う海岸局の名称	1 Apia Radio 3 Noumea Radio	2 Nukualofa Radio 4 Swains Island, Samoa Radio
[23] ● ③に位置する公衆通信業務を取り扱う海岸局の名称	1 Awanui Radio 3 Mahina Radio	2 Susoh Radio 4 Terante Radio
[24] ● ④に位置する我が国の船舶の寄港地の名称	1 Lae 3 Suva	2 Dili 4 Port Moresby
[25] ● ⑤に位置する我が国の船舶の寄港地の名称	1 Napier 3 Wellington	2 Hobart 4 Auckland
[26] ● ⑥に位置する我が国の船舶の寄港地の名称	1 Adelaide 3 Sydney	2 Melbourne 4 Fremantle
[27] ⑦の国名	1 Republic of Indonesia 3 Independent State of Papua New Guinea	2 Republic of Vanuatu 4 Republic of Palau
[28] ⑧の島名	1 Tasmania Island 3 New Caledonia Island	2 South Island 4 New Britain Island
[29] ⑨の海峡名	1 Torres Strait 3 Molucca Strait	2 Bass Strait 4 Strait of Lombok
[30] ⑩の海名	1 Coral Sea 3 Sulu Sea	2 Arafura Sea 4 Flores Sea

問IV 次の問いに答えよ。

1 次表のA群のそれぞれの国の首都名をB群の都市から一つ選び、その番号で答えよ。

A 群	B 群
[31] Republic of Indonesia	1 Bogor                      2 Bandung 3 Surabaya                  4 Jakarta
[32] India	1 New Delhi                  2 Chennai (Madras) 3 Mumbai                   4 Hyderabad
[33] Kingdom of the Netherlands	1 Rotterdam                  2 Leiden 3 Amsterdam                4 Bruxelles
[34] Australia	1 Sydney                      2 Melbourne 3 Canberra                   4 Brisbane
[35] Republic of Chile	1 Santiago                    2 Valparaiso 3 Antofagasta                4 Lima

2 次表のA群のそれぞれの都市は、我が国の船舶の寄港地であるが、それぞれの所属国名をB群から一つ選び、その番号で答えよ。

A 群	B 群
[36] Jiddah	1 State of Qatar 2 Sultanate of Oman 3 United Arab Emirates 4 Kingdom of Saudi Arabia
[37] Copenhagen	1 Ukraine 2 Republic of Bulgaria 3 Kingdom of Denmark 4 United Kingdom of Great Britain and Northern Ireland
[38] Buenos Aires	1 Argentine Republic 2 Republic of Ecuador 3 Bolivarian Republic of Venezuela 4 Federative Republic of Brazil
[39] Montreal	1 Canada 2 Australia 3 French Republic 4 United States of America
[40] Dar es Salaam	1 Republic of Kenya 2 Republic of Liberia 3 Republic of Sierra Leone 4 United Republic of Tanzania