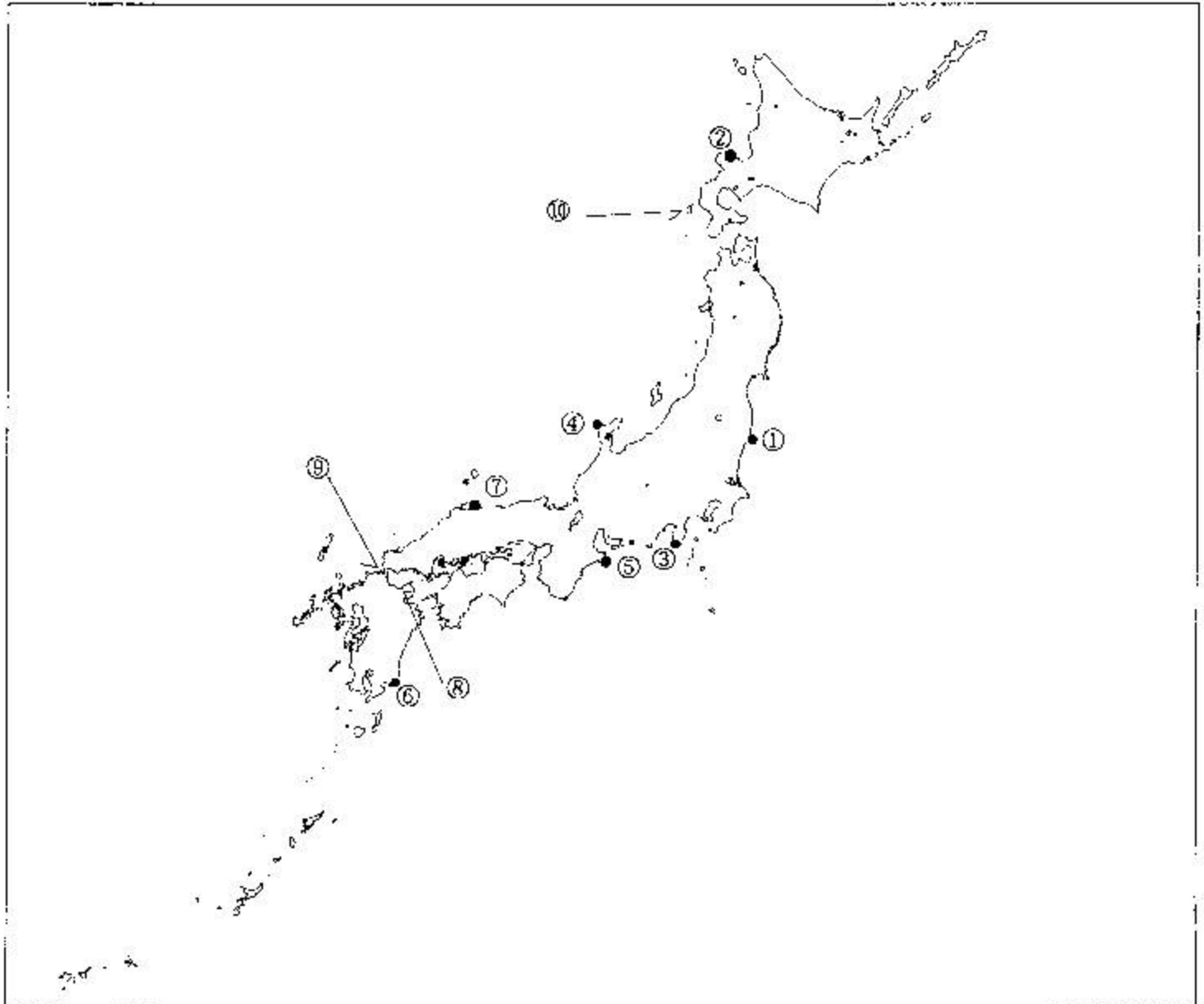


## 第二級総合無線通信士「地理」試験問題

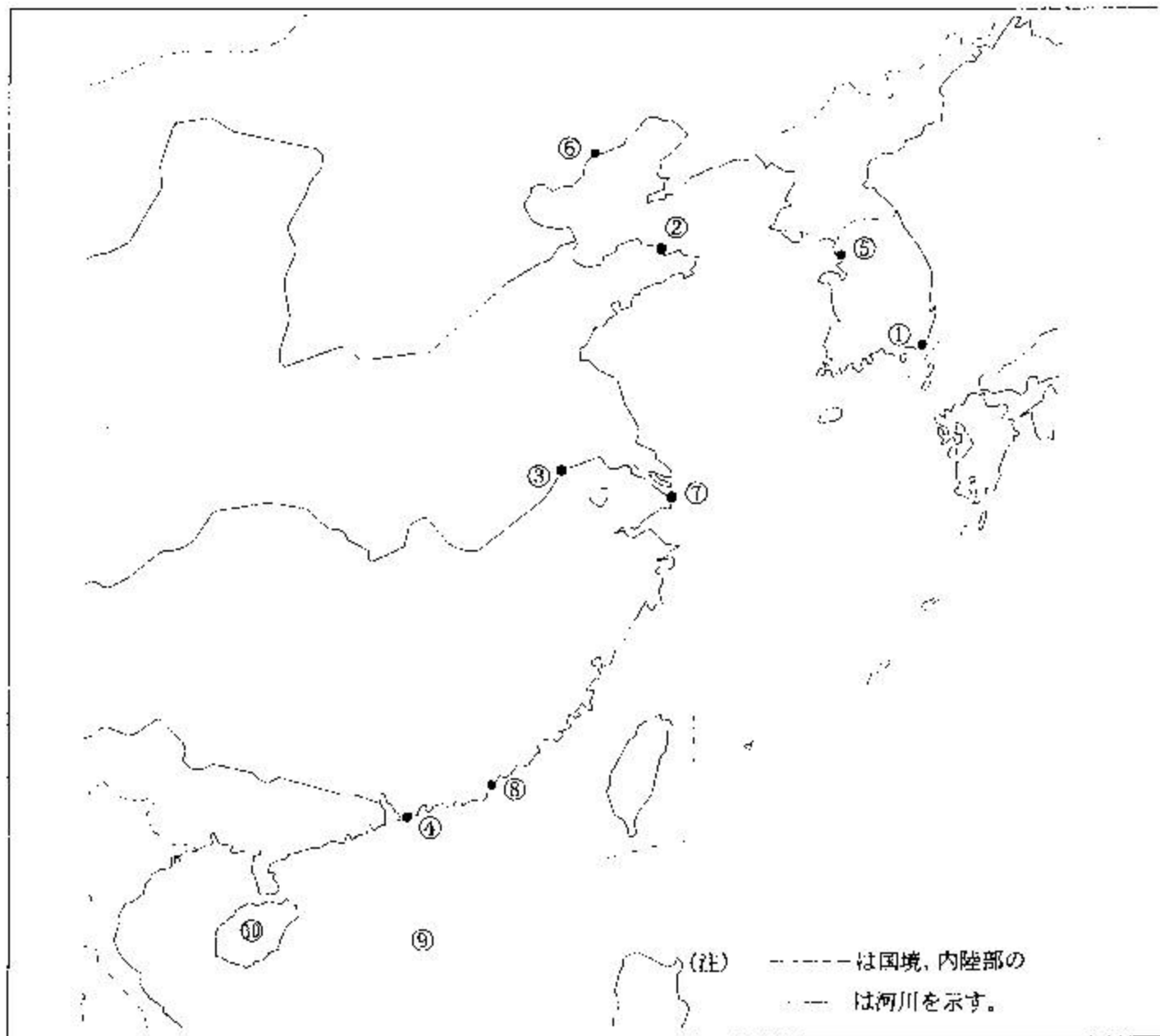
40問 1時間

問I 下図により、下表の左欄の事項のそれぞれに該当するものの名称を右欄の語群から一つ選び、その番号で答えよ。



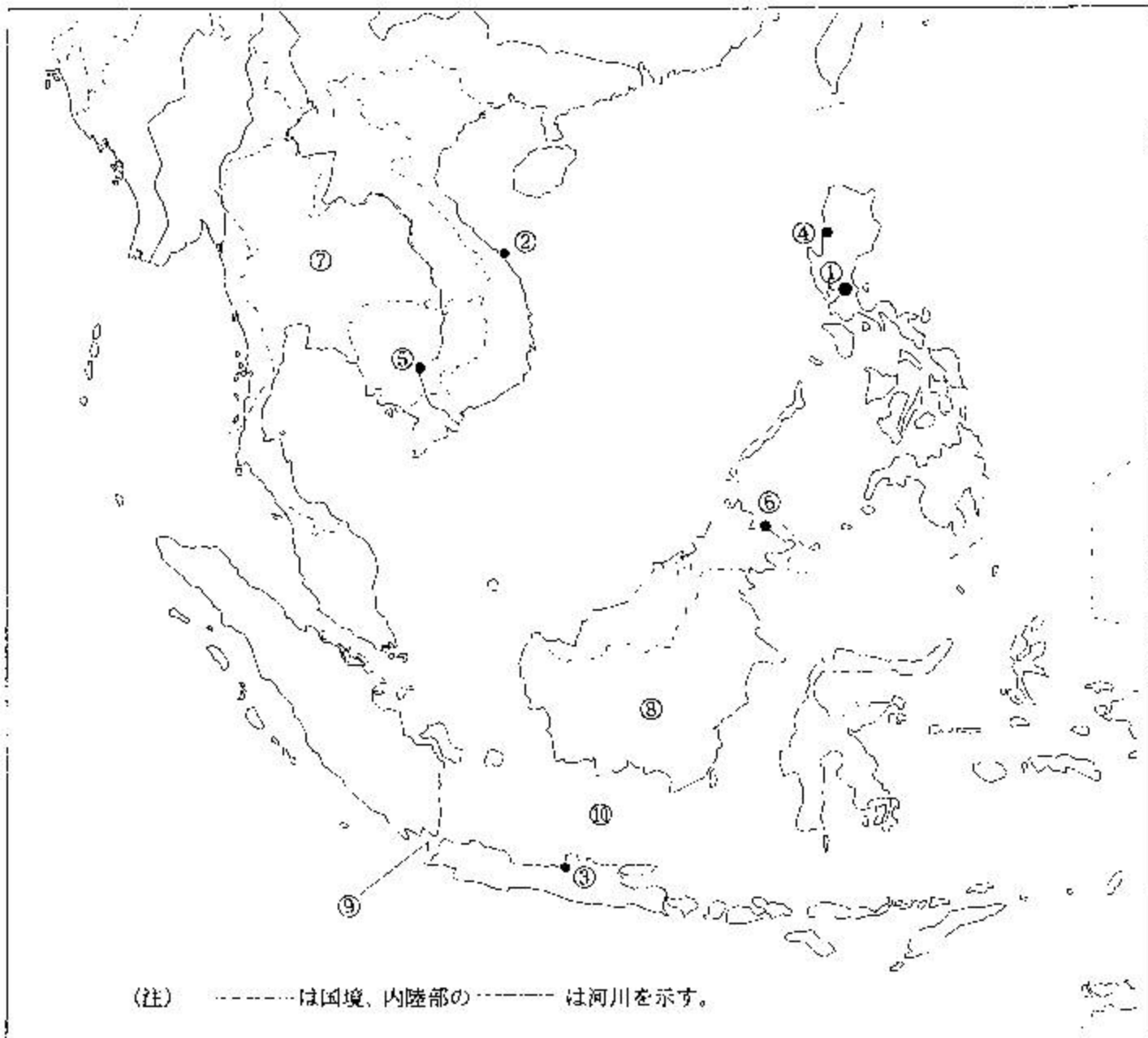
事 項	語 群			
[1] ●印の①に位置する電気通信業務を取り扱う漁業用の海岸局の名称	1 青森県	2 釜石	3 宮城県	4 いわぎ
[2] ●印の②に位置する海上保安庁の海岸局の名称	1 小樽(萩ヶ岡)	2 小樽(昆布森)	3 小樽(大野)	4 小樽(積丹)
[3] ●印の③に位置する海上保安庁の海岸局の名称	1 横浜(銚子)	2 東京(富津)	3 横浜(白浜)	4 横浜(下田)
[4] ●印の④に位置する海上保安庁の無線標識局の名称	1 磯崎	2 禄野崎	3 横山岬	4 経ヶ岬
[5] ●印の⑤に位置する海上保安庁の無線航行陸上局(ディファレンシャルGPSによるもの)の名称	1 名古屋	2 大王崎	3 江崎	4 丹後
[6] ●印の⑥に位置する海上保安庁の無線航行陸上局(ディファレンシャルGPSによるもの)の名称	1 都井岬	2 大瀬崎	3 若宮	4 瀬戸
[7] ●印の⑦に位置する開港名	1 萩	2 浜田	3 境	4 舞鶴
[8] ⑧の半島名	1 大隅半島	2 島原半島	3 国東半島	4 西彼杵半島
[9] ⑨の海峡名	1 豊予海峡	2 関門海峡	3 大隅海峡	4 米島海峡
[10] ⑩の島名	1 奥尻島	2 礼文島	3 利尻島	4 焼尻島

問Ⅱ 下図により、下表の左欄の事項のそれぞれに該当するものの名称を右欄の語群から一つ選び、その番号で答えよ。



事 項	語	群
[11] ● 印の①に位置する公衆通信業務を取り扱う海岸局の名称	1 Kangnung (江陵) Radio 3 Pusan (釜山) Radio	2 Mokpo (木浦) Radio 4 Seoul Radio
[12] ● 印の②に位置する公衆通信業務を取り扱う海岸局の名称	1 Dalian (大連) Radio 3 Tianjin (天津) Radio	2 Qinhuangdao (秦皇島) Radio 4 Yantai (煙台) Radio
[13] ● 印の③に位置する公衆通信業務を取り扱う海岸局の名称	1 Nanjing (南京) Radio 3 Shanghai (上海) Radio	2 Lianyungang (連雲港) Radio 4 Qingdao (青島) Radio
[14] ● 印の④に位置する公衆通信業務を取り扱う海岸局の名称	1 Fuzhou (福州) Radio 3 Shantou (汕頭) Radio	2 Xiamen (廈門) Radio 4 Hong Kong (香港) Radio
[15] ● 印の⑤に位置する我が国の船舶の寄港地の名称	1 Inchon (仁川) 3 Gunsan (蔚山)	2 Mokpo (木浦) 4 Pusan (釜山)
[16] ● 印の⑥に位置する我が国の船舶の寄港地の名称	1 Dalian (大連) 3 Tianjin (天津)	2 Qinhuangdao (秦皇島) 4 Yantai (煙台)
[17] ● 印の⑦に位置する我が国の船舶の寄港地の名称	1 Qingdao (青島) 3 Shanghai (上海)	2 Lianyungang (連雲港) 4 Nanjing (南京)
[18] ● 印の⑧に位置する我が国の船舶の寄港地の名称	1 Fuzhou (福州) 3 Amoy (Xiamen) (廈門)	2 Guangzhou (広州) 4 Swatow (Shantou) (汕頭)
[19] ⑨の海名	1 East China Sea (東シナ海) 3 Yellow Sea (黄海)	2 South China Sea (南シナ海) 4 Bo Hai (Bohai) (渤海)
[20] ⑩の島名	1 Luzon Island 3 Hainan Island (海南島)	2 Cheju Island (濟州島) 4 Hong Kong Island (香港島)

問四 下図により下表の左欄の事項のそれぞれに該当するものの名称を右欄の語群から一つ選び、その番号で答えよ。



事 項	語	群
[21] ● 印の①に位置する公衆通信業務を取り扱う海岸局の名称	1 Manila Radio 3 Davao Radio	2 Cebu Radio 4 Kota Kinabalu Radio
[22] ● 印の②に位置する公衆通信業務を取り扱う海岸局の名称	1 Hai Phong Radio 3 Nha Trang Radio	2 Danang Radio 4 Ho Chi Minh-Ville Radio
[23] ● 印の③に位置する公衆通信業務を取り扱う海岸局の名称	1 Makassar Radio 3 Kupang Radio	2 Jakarta Radio 4 Semarang Radio
[24] ● 印の④に位置する我が国の船舶の寄港地の名称	1 Cebu 3 San Fernando	2 Manila 4 Batangas
[25] ● 印の⑤に位置する我が国の船舶の寄港地の名称	1 Phnom Penh 3 Bangkok	2 Kampong Saom 4 Yangon
[26] ● 印の⑥に位置する我が国の船舶の寄港地の名称	1 Sandakan 3 Makassar	2 Samarinda 4 Kuching
[27] ⑦の国名	1 Kingdom of Cambodia 3 Kingdom of Thailand	2 Union of Myanmar 4 Lao People's Democratic Republic
[28] ⑧の島名	1 Java Island 3 Timor Island	2 Sumatra Island 4 Kalimantan (Borneo) Island
[29] ⑨の海峡名	1 Makassar Strait 3 Strait of Malacca	2 Sunda Strait 4 Strait of Lombok
[30] ⑩の海名	1 Banda Sea 3 Java Sea	2 Arafura Sea 4 Celebes Sea

問Ⅳ 次の問いに答えよ。

1 次表のA群のそれぞれの国の首都名をB群の都市から一つ選び、その番号で答えよ。

A 群	B 群
[31] Islamic Republic of Iran	1 Dhaka 3 Baghdad 2 Teheran 4 Kabul
[32] Kingdom of Morocco	1 Rabat 3 Dakar 2 Tripoli 4 Khartoum
[33] New Zealand	1 Auckland 3 Christchurch 2 Canberra 4 Wellington
[34] Oriental Republic of Uruguay	1 Quito 3 Montevideo 2 Buenos Aires 4 La Paz
[35] Kingdom of the Netherlands	1 Rotterdam 3 Bruxelles 2 Amsterdam 4 Den Haag

2 次表のA群のそれぞれの都市は、我が国の船舶の寄港地であるが、それぞれの所属国名をB群から一つ選び、その番号で答えよ。

A 群	B 群
[36] Cape Town	1 Republic of Angola 2 Republic of Namibia 3 Republic of Madagascar 4 Republic of South Africa
[37] Vancouver	1 United States of America 2 United Mexican States 3 Canada 4 New Zealand
[38] Mumbai	1 Islamic Republic of Pakistan 2 India 3 Kingdom of Thailand 4 People's Republic of Bangladesh
[39] Hamburg	1 Federal Republic of Germany 2 Kingdom of Denmark 3 United Kingdom of Great Britain and Northern Ireland 4 French Republic
[40] Santos	1 Oriental Republic of Uruguay 2 Federative Republic of Brazil 3 Republic of Bolivia 4 Republic of Chile