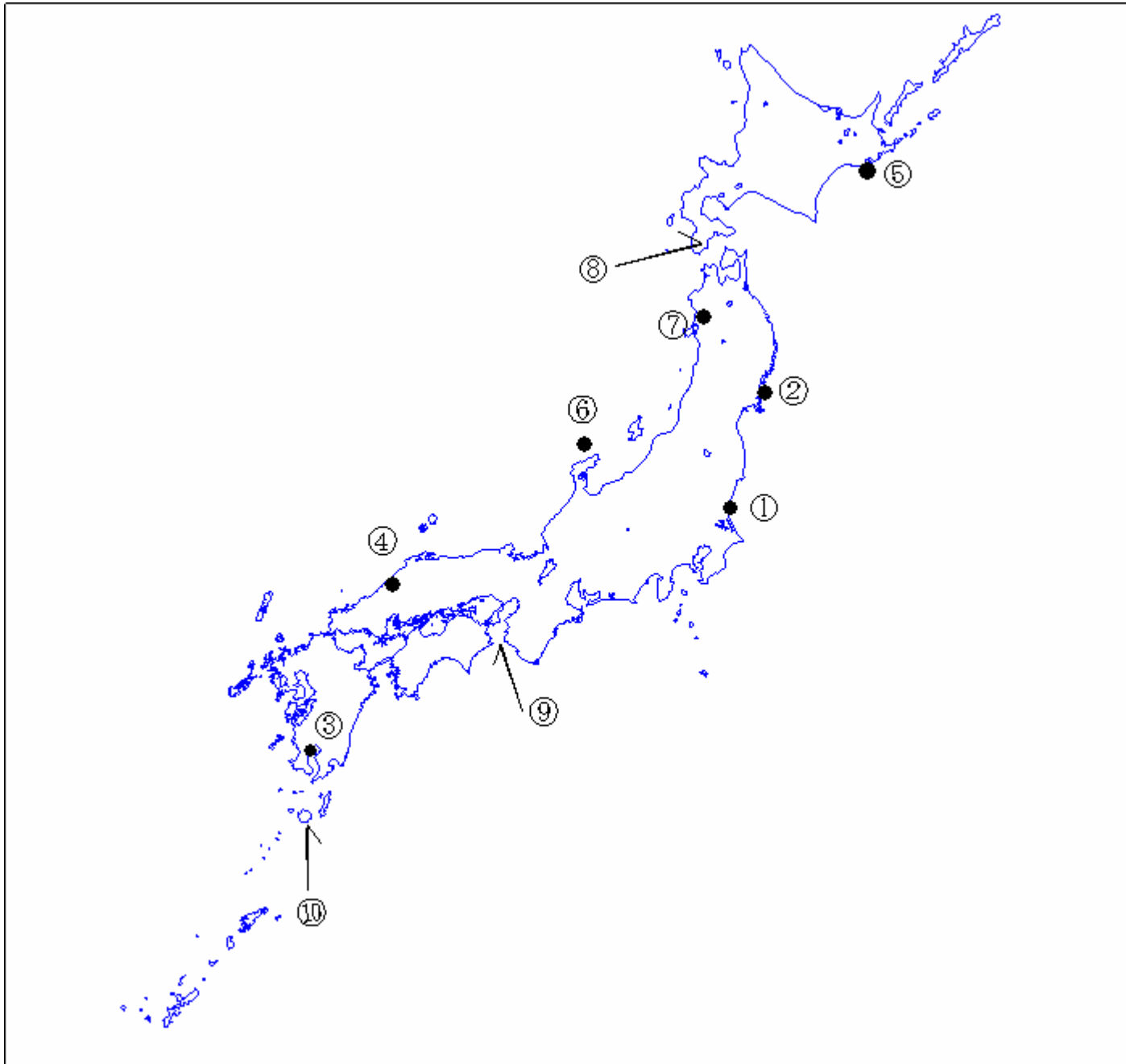


第二級総合無線通信士「地理」試験問題

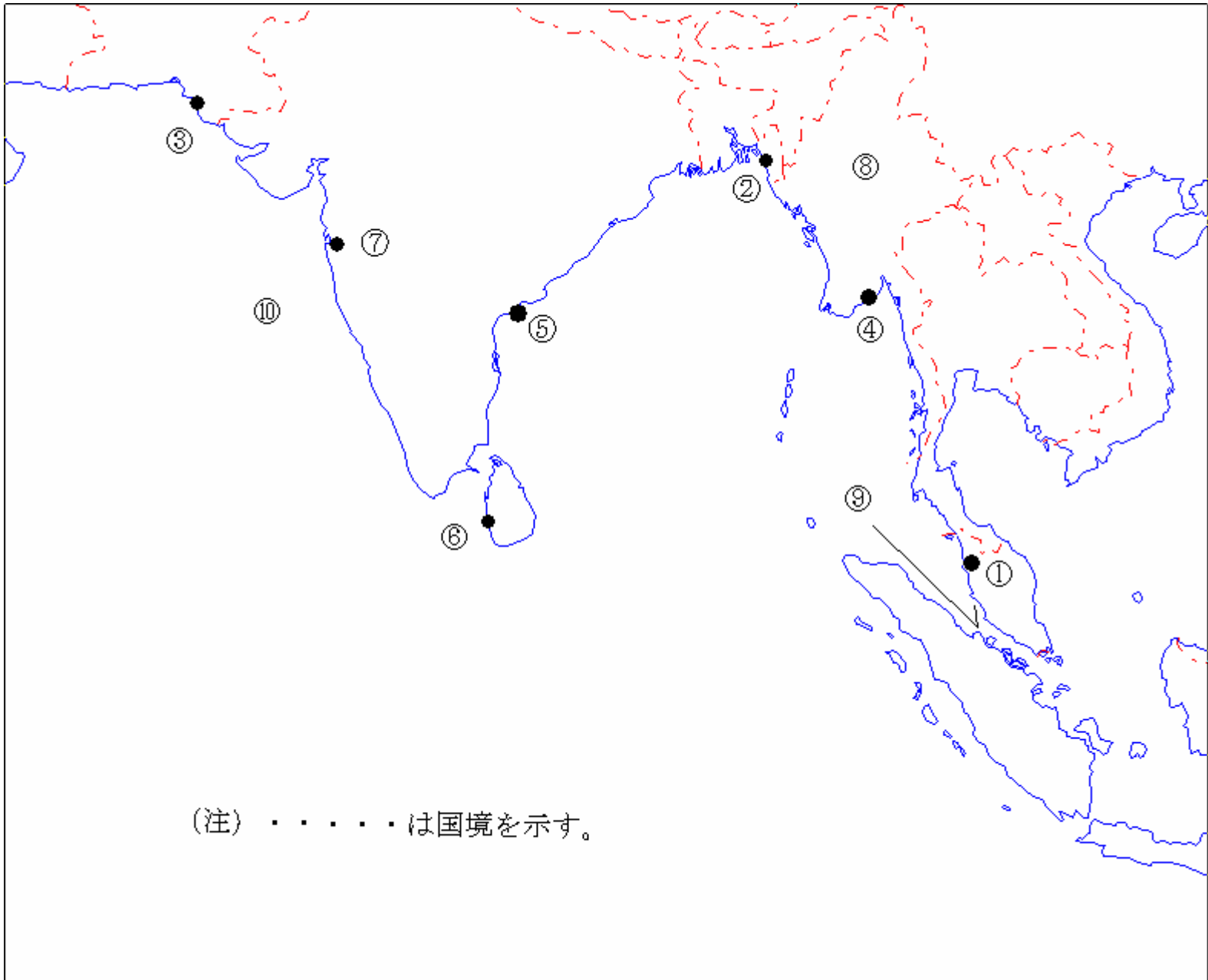
40問 1時間

問I 下図により、下表の左欄の事項のそれぞれに該当するものの名称を右欄の語群から一つ選び、その番号で答えよ。



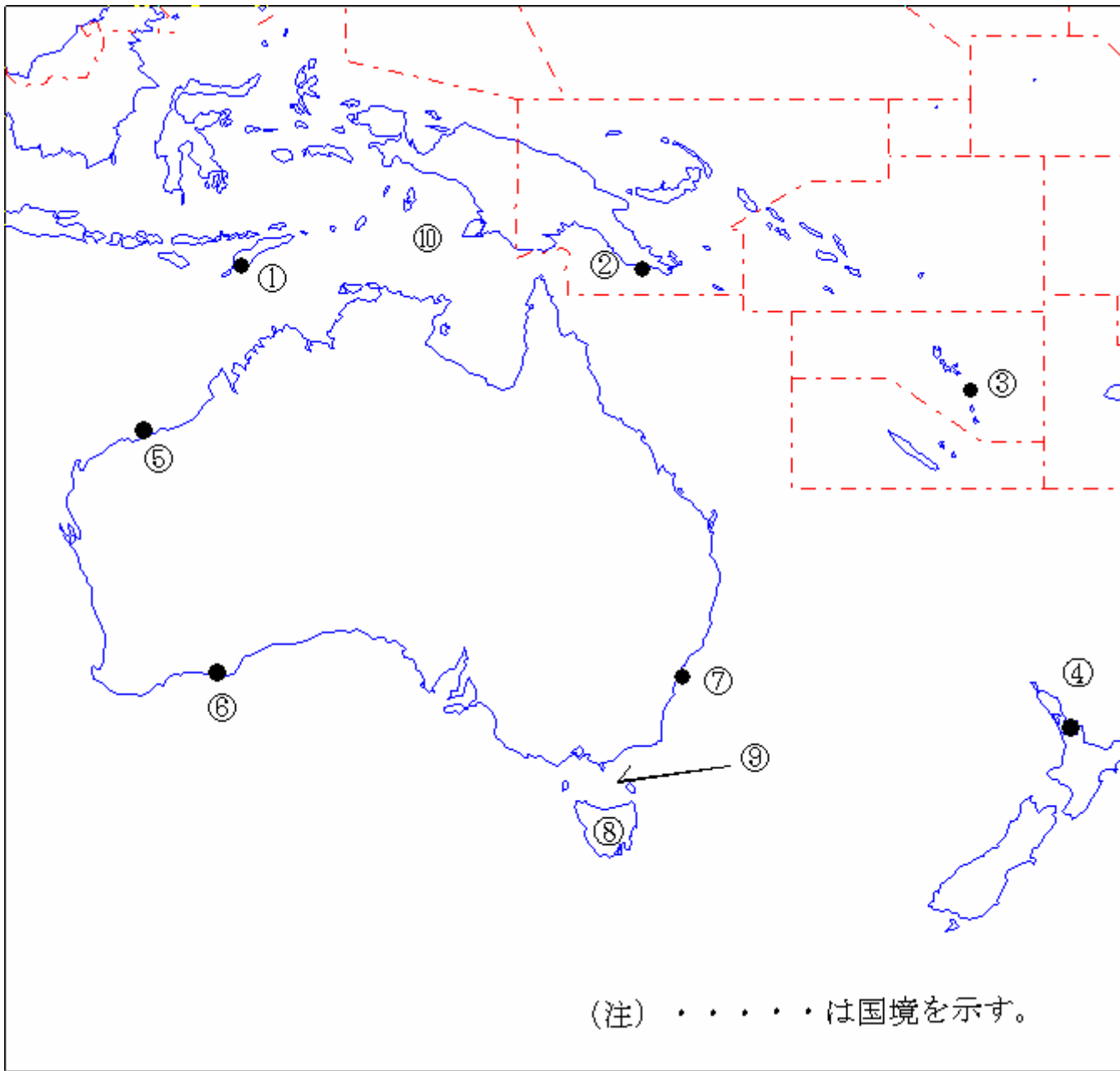
事 項	語 群			
[1] ●印の①に位置する電気通信業務を取り扱う漁業用の海岸局の名称	1 宮城県	2 いわき	3 茨城県	4 千葉県
[2] ●印の②に位置する海上保安庁の海岸局の名称	1 塩釜 (鮫)	2 塩釜 (歌津)	3 塩釜 (釜石)	4 塩釜 (秋田)
[3] ●印の③に位置する海上保安庁の海岸局の名称	1 鹿児島 (油津)	2 鹿児島 (名瀬)	3 那覇 (東風平)	4 鹿児島 (吉見山)
[4] ●印の④に位置する海上保安庁の無線標識局の名称	1 経ヶ岬	2 浜田	3 猿山岬	4 美保関
[5] ●印の⑤に位置する海上保安庁の無線航行陸上局 (ディファレンシャルGPSによるもの) の名称	1 宗谷岬	2 積丹岬	3 釧路埼	4 網走
[6] ●印の⑥に位置する海上保安庁の無線航行陸上局 (ディファレンシャルGPSによるもの) の名称	1 舩倉島	2 酒田	3 金華山	4 丹後
[7] ●印の⑦に位置する開港名	1 新潟	2 酒田	3 能代	4 青森
[8] ⑧の半島名	1 亀田半島	2 積丹半島	3 下北半島	4 松前半島
[9] ⑨の海峡又は水道名	1 紀伊水道	2 明石海峡	3 鳴門海峡	4 来島海峡
[10] ⑩の島名	1 種子島	2 屋久島	3 徳之島	4 奄美大島

問Ⅱ 下図により、下表の左欄の事項のそれぞれに該当するものの名称を右欄の語群から一つ選び、その番号で答えよ。



事 項	語 群
[11] ● 印の①に位置する公衆通信業務を取り扱う海岸局の名称	1 Belawan Radio 2 Palembang Radio 3 Yangon Radio 4 Penang Radio
[12] ● 印の②に位置する公衆通信業務を取り扱う海岸局の名称	1 Bangkok Radio 2 Penang Radio 3 Yangon Radio 4 Chittagong Radio
[13] ● 印の③に位置する公衆通信業務を取り扱う海岸局の名称	1 Chittagong Radio 2 Khulna Radio 3 Karachi Radio 4 Colombo Radio
[14] ● 印の④に位置する我が国の船舶の寄港地の名称	1 Yangon 2 Khulna 3 Chittagong 4 Calcutta
[15] ● 印の⑤に位置する我が国の船舶の寄港地の名称	1 Machilipatnam 2 Vishakhapatnam 3 Chennai (Madras) 4 Cochin
[16] ● 印の⑥に位置する我が国の船舶の寄港地の名称	1 Kakinada 2 Cuddalore 3 Trincomalee 4 Colombo
[17] ● 印の⑦に位置する我が国の船舶の寄港地の名称	1 Goa 2 Mumbai (Bombay) 3 Jamnagar 4 Karachi
[18] ⑧の国名	1 Union of Myanmar 2 People's Republic of Bangladesh 3 Kingdom of Cambodia 4 Islamic Republic of Pakistan
[19] ⑨の海峡名	1 Strait of Hormuz 2 Strait of Malacca 3 Ten Degree Strait 4 Palk Strait
[20] ⑩の海名又は湾名	1 Gulf of Aden 2 Bay of Bengal 3 Arabian Sea 4 Andaman Sea

問Ⅲ 下図により下表の左欄の事項のそれぞれに該当するものの名称を右欄の語群から一つ選び、その番号で答えよ。



事 項	語 群
[21] ● 印の①に位置する公衆通信業務を取り扱う海岸局の名称	1 Kupang Radio 2 Jakarta Radio 3 Surabaya Radio 4 Balikpapan Radio
[22] ● 印の②に位置する公衆通信業務を取り扱う海岸局の名称	1 Rabaul Radio 2 Port Moresby Radio 3 Sorong Radio 4 Wewak Radio
[23] ● 印の③に位置する公衆通信業務を取り扱う海岸局の名称	1 Awanui Radio 2 Honiara Radio 3 Noumea Radio 4 Port-Vila Radio
[24] ● 印の④に位置する我が国の船舶の寄港地の名称	1 Wellington 2 Auckland 3 Napier 4 Hobart
[25] ● 印の⑤に位置する我が国の船舶の寄港地の名称	1 Port Hedland 2 Darwin 3 Cairns 4 Townsville
[26] ● 印の⑥に位置する我が国の船舶の寄港地の名称	1 Esperance 2 Fremantle 3 Geraldton 4 Port Hedland
[27] ● 印の⑦に位置する我が国の船舶の寄港地の名称	1 Adelaide 2 Melbourne 3 Sydney 4 Brisbane
[28] ⑧の島名	1 New Caledonia Island 2 New Britain Island 3 New Guinea Island 4 Tasmania Island
[29] ⑨の海峡名	1 Torres Strait 2 Cook Strait 3 Bass Strait 4 Strait of Lombok
[30] ⑩の海名	1 Coral Sea 2 Arafura Sea 3 Tasman Sea 4 Solomon Sea

問IV 次の問いに答えよ。

1 次表のA群のそれぞれの国の首都名をB群の都市から一つ選び、その番号で答えよ。

A 群	B 群
[31] Republic of Turkey	1 Damascus 2 Teheran 3 Beirut (Beyruth) 4 Ankara
[32] Republic of Kenya	1 Mogadiscio 2 Dar es Salaam (Daressalam) 3 Addis Abeba (Addis Ababa) 4 Nairobi
[33] Republic of Cuba	1 Kingston 2 Ottawa 3 Havana 4 San Jose
[34] Argentine Republic	1 Lima 2 Buenos Aires 3 Montevideo 4 La Paz
[35] Kingdom of Denmark	1 Copenhagen 2 Stockholm 3 Oslo 4 Helsinki

2 次表のA群のそれぞれの都市は、我が国の船舶の寄港地であるが、それぞれの所属国名をB群から一つ選び、その番号で答えよ。

A 群	B 群
[36] Dakar	1 Kingdom of Morocco 2 Republic of Senegal 3 Federal Republic of Nigeria 4 Islamic Republic of Mauritania
[37] New Orleans	1 United States of America 2 Dominican Republic 3 United Mexican States 4 Canada
[38] Hai Phong	1 Kingdom of Cambodia 2 Kingdom of Thailand 3 Socialist Republic of Viet Nam 4 Malaysia
[39] Marseille	1 Spain 2 Kingdom of Belgium 3 United Kingdom of Great Britain and Northern Ireland 4 French Republic
[40] Rio de Janeiro	1 Oriental Republic of Uruguay 2 Federative Republic of Brazil 3 Republic of Bolivia 4 Republic of Chile