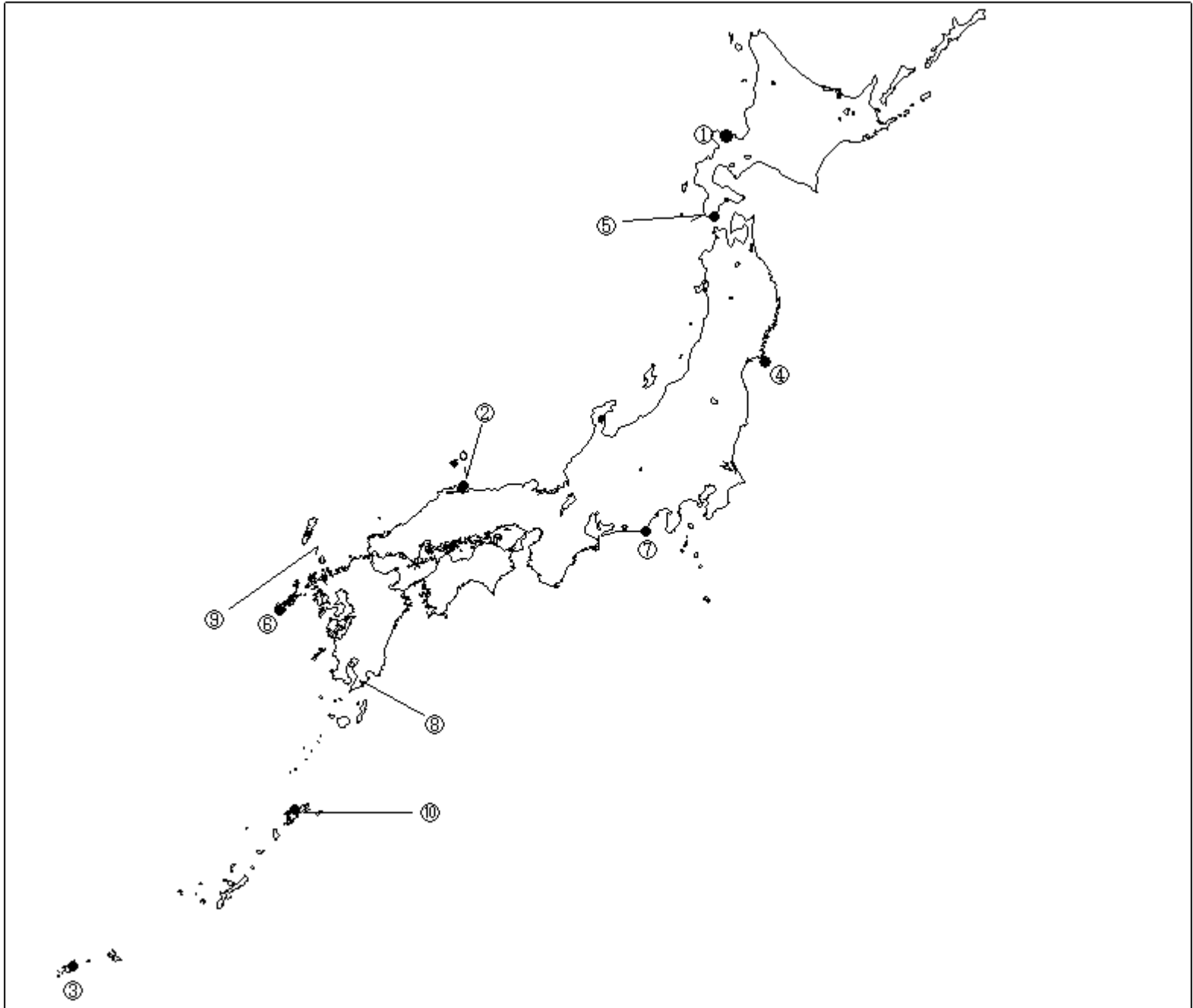


第二級総合無線通信士「地理」試験問題

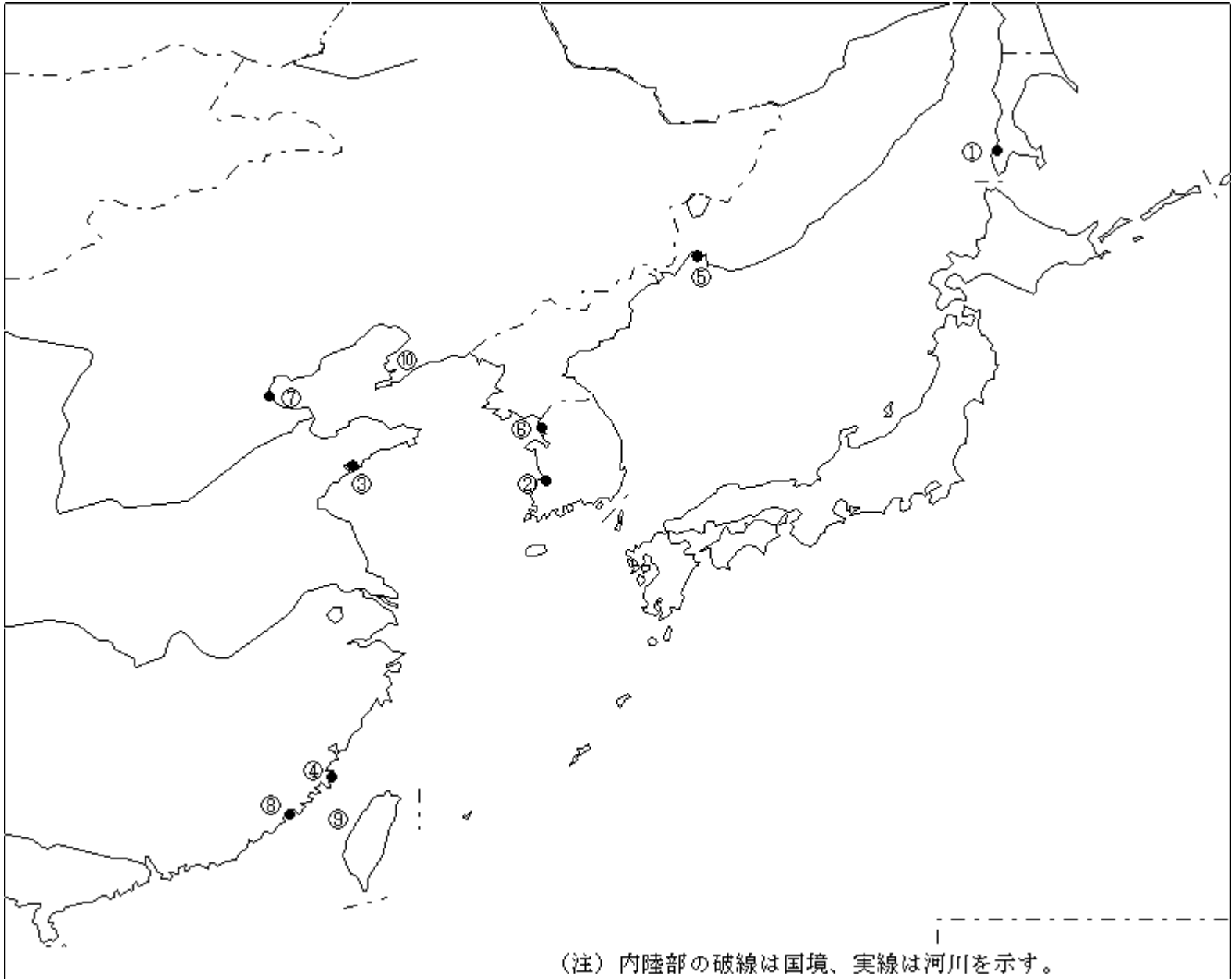
40問 1時間

問 下図により、下表の左欄の事項のそれぞれに該当するものの名称を右欄の語群から一つ選び、その番号で答えよ。



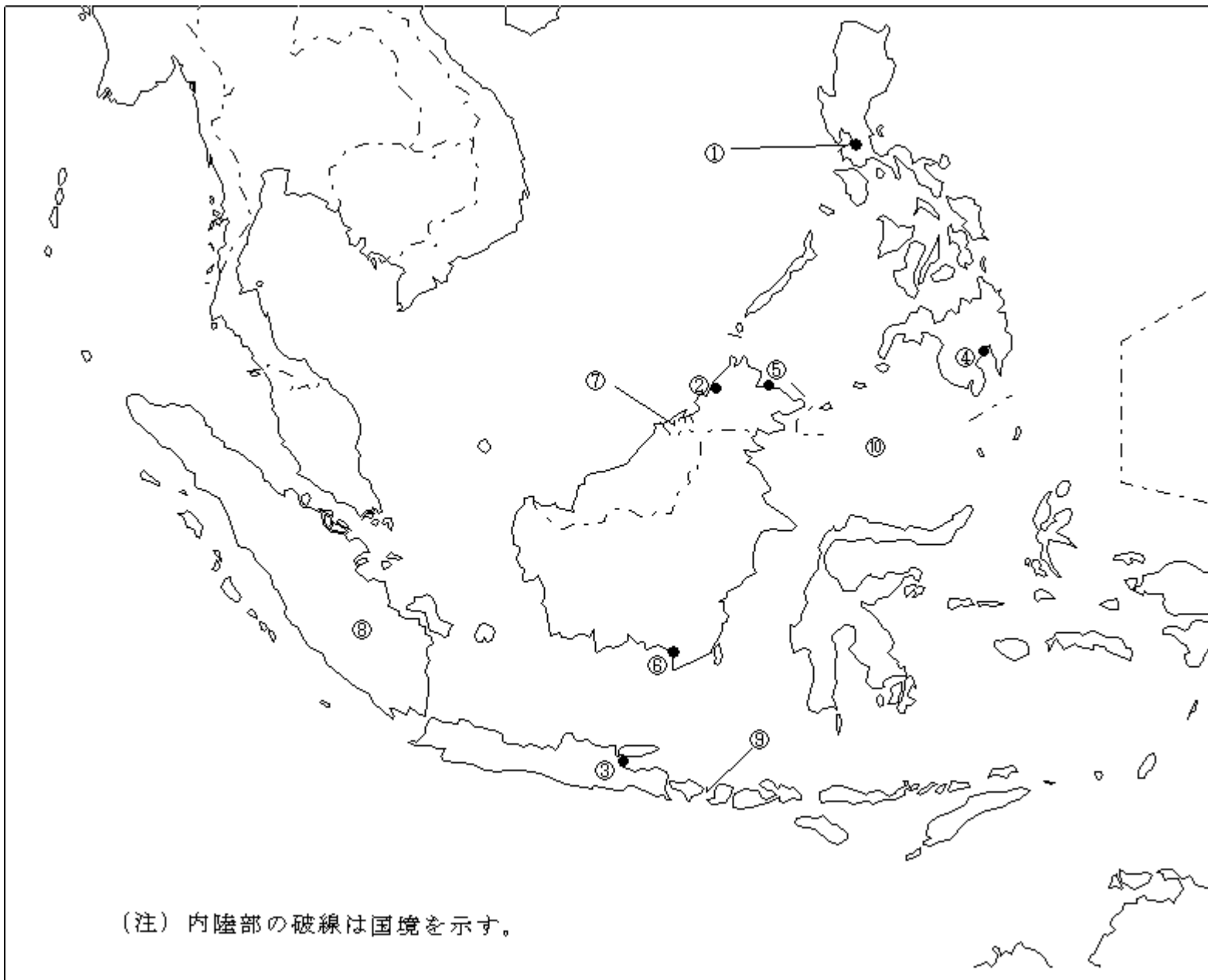
事 項	語 群
[ 1 ] 印の に位置する海上保安庁の海岸局の名称	1 小樽(萩ヶ岡)      2 小樽(紋別) 3 小樽(昆布森)      4 小樽(積丹)
[ 2 ] 印の に位置する海上保安庁の海岸局の名称	1 舞鶴(枕木山)      2 神戸(津名) 3 新潟(猫ヶ岳)      4 舞鶴(越前)
[ 3 ] 印の に位置する海上保安庁の海岸局の名称	1 鹿児島(吉見山)      2 那覇(東風平) 3 鹿児島(名瀬)      4 那覇(浜崎)
[ 4 ] 印の に位置する海上保安庁の無線標識局の名称	1 塩屋崎      2 尻屋崎 3 金華山      4 入道崎
[ 5 ] 印の に位置する海上保安庁の無線航行陸上局(ディファレンシャルGPSによるもの)の名称	1 尻屋崎      2 松前 3 金華山      4 積丹岬
[ 6 ] 印の に位置する海上保安庁の無線航行陸上局(ディファレンシャルGPSによるもの)の名称	1 大瀬崎      2 大浜 3 若宮      4 浜田
[ 7 ] 印の に位置する開港名	1 豊橋      2 横須賀 3 御前崎      4 清水
[ 8 ] の半島名	1 大隈半島      2 薩摩半島 3 国東半島      4 島原半島
[ 9 ] の海峡名	1 関門海峡      2 対馬海峡 3 大隈海峡      4 豊予海峡
[ 10 ] の島名	1 種子島      2 徳之島 3 奄美大島      4 屋久島

問 下図により、下表の左欄の事項のそれぞれに該当するものの名称を各右欄の語群から一つ選び、その番号で答えよ。



事 項	語 群
[ 11 ] 印の に位置する公衆通信業務を取り扱う海岸局の名称	1 Petropavlovsk Radio 2 Murmansk Radio 3 Kholmsk Radio 4 Vladivostok Radio
[ 12 ] 印の に位置する公衆通信業務を取り扱う海岸局の名称	1 Gunsan ( 群 山 ) Radio 2 Pusan ( 釜 山 ) Radio 3 Mokpo ( 木 浦 ) Radio 4 Kangnung ( 江 陵 ) Radio
[ 13 ] 印の に位置する公衆通信業務を取り扱う海岸局の名称	1 Dalian ( 大 連 ) Radio 2 Qinhuangdao ( 秦 皇 島 ) Radio 3 Tianjin ( 天 津 ) Radio 4 Qingdao ( 青 島 ) Radio
[ 14 ] 印の に位置する我が国の船舶の寄港地の名称	1 Xiamen ( 厦 門 ) 2 Hongkong ( 香 港 ) 3 Shantou ( 汕 頭 ) 4 Fuzhou ( 福 州 )
[ 15 ] 印の に位置する我が国の船舶の寄港地の名称	1 Korsakov 2 Vladivostok 3 Lazarev 4 Vostochnyy
[ 16 ] 印の に位置する我が国の船舶の寄港地の名称	1 Inch'on ( 仁 川 ) 2 Pusan ( 釜 山 ) 3 Gunsan ( 群 山 ) 4 Mokpo ( 木 浦 )
[ 17 ] 印の に位置する我が国の船舶の寄港地の名称	1 Dalian ( 大 連 ) 2 Qinhuangdao ( 秦 皇 島 ) 3 Tianjin ( 天 津 ) 4 Qingdao ( 青 島 )
[ 18 ] 印の に位置する我が国の船舶の寄港地の名称	1 Amoy ( Xiamen ) ( 厦 門 ) 2 Swatow ( Shantou ) ( 汕 頭 ) 3 Fuzhou ( 福 州 ) 4 Guangzhou ( 広 州 )
[ 19 ] の海峡名	1 Balabac Strait 2 Taiwan Strait 3 Bashi Channel 4 Palk Strait
[ 20 ] の半島名	1 Shantung Peninsula ( 山 東 半 島 ) 2 Leizhou Peninsula ( 雷 州 半 島 ) 3 Liaotung Peninsula ( 遼 東 半 島 )

問 下図により、下表の左欄の事項のそれぞれに該当するものの名称を右欄の語群から一つ選び、その番号で答えよ。



事 項	語 群
[ 21 ] 印の に位置する公衆通信業務を取り扱う 海岸局の名称	1 Davao Radio                      2 Sandakan Radio 3 Manila Radio                      4 Cebu Radio
[ 22 ] 印の に位置する公衆通信業務を取り扱う 海岸局の名称	1 Kota Kinabalu Radio              2 Belawan Radio 3 Penang Radio                      4 Sabang Radio
[ 23 ] 印の に位置する公衆通信業務を取り扱う 海岸局の名称	1 Jakarta Radio                      2 Surabaya Radio 3 Semarang Radio                      4 Makassar Radio
[ 24 ] 印の に位置する我が国の船舶の寄港地の 名称	1 Batangas                              2 San Fernando 3 Cebu                                      4 Davao
[ 25 ] 印の に位置する我が国の船舶の寄港地の 名称	1 Sandakan                              2 Samarinda 3 Miri                                      4 Tarakan
[ 26 ] 印の に位置する我が国の船舶の寄港地の 名称	1 Pontianak                              2 Samarinda 3 Banjarmasin                              4 Semarang
[ 27 ] の国名	1 Republic of Indonesia              2 Brunei Darussalam 3 Republic of the Philippines              4 The Democratic Republic of Timor-Leste
[ 28 ] の島名	1 Sumatra Island                      2 Java Island 3 Timor Island                              4 Kalimantan ( Borneo ) Island
[ 29 ] の海峡名	1 Strait of Malacca                      2 Sunda Strait 3 Makassar Strait                              4 Lombok Strait
[ 30 ] の海名	1 Timor Sea                              2 Celebes Sea 3 Arafura Sea                              4 Banda Sea

問 次の問いに答えよ。

1 次表のA群のそれぞれの国の首都名をB群の都市から一つ選び、その番号で答えよ。

A 群	B 群	
[ 31 ] Kingdom of Cambodia	1 Vientiane 3 Phnom Penh	2 Yangon 4 Hanoi
[ 32 ] Kingdom of Saudi Arabia	1 Tehran 3 Damascus	2 Mecca 4 Riyadh
[ 33 ] Federal Republic of Germany	1 Bonn 3 Frankfurt	2 Berlin 4 Hamburg
[ 34 ] Republic of South Africa	1 Pretoria 3 Harare	2 Kinshasa 4 Cape Town
[ 35 ] Federative Republic of Brazil	1 Rio de Janeiro 3 Sao Paulo	2 Buenos Aires 4 Brasilia

2 次表のA群のそれぞれの都市は、我が国の船舶の寄港地であるが、それぞれの所属国名をB群から一つ選び、その番号で答えよ。

A 群	B 群	
[ 36 ] Abu Dhabi	1 State of Qatar 2 Kingdom of Saudi Arabia 3 United Arab Emirates 4 Kingdom of Bahrain	
[ 37 ] Liverpool	1 Kingdom of Belgium 2 Kingdom of the Netherlands 3 Kingdom of Denmark 4 United Kingdom of Great Britain and Northern Ireland	
[ 38 ] Philadelphia	1 Australia 2 United Kingdom of Great Britain and Northern Ireland 3 Federative Republic of Brazil 4 United States of America	
[ 39 ] Brisbane	1 Australia 2 Republic of South Africa 3 Canada 4 New Zealand	
[ 40 ] Mombasa	1 Republic of Madagascar 2 Republic of Kenya 3 United Republic of Tanzania 4 Republic of Mozambique	