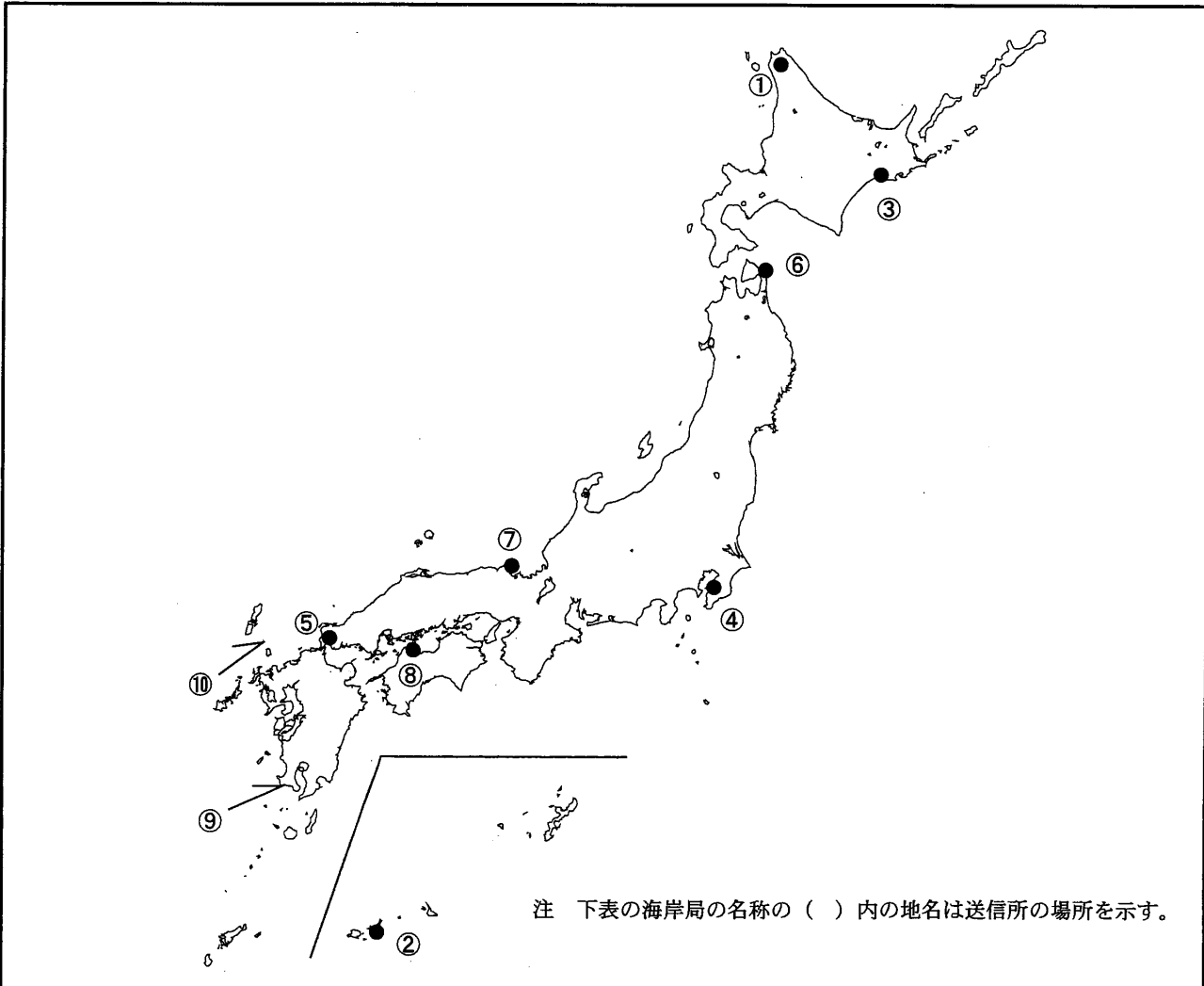


第一級総合無線通信士「地理」試験問題

40問 1時間

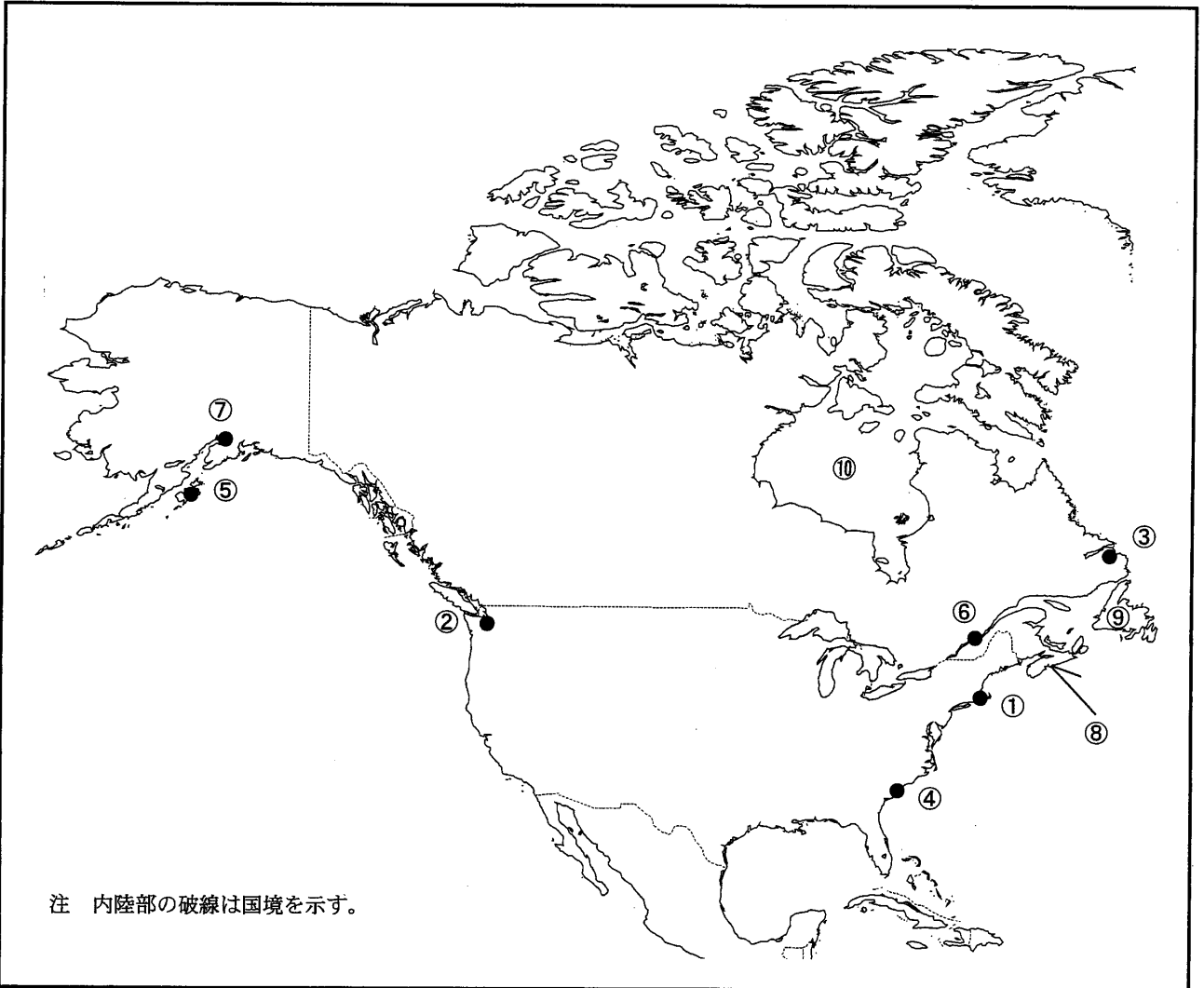
問I 下図より、下表の左欄の事項のそれぞれに該当するものの名称を右欄の語群から一つ選び、その番号で答えよ。



注 下表の海岸局の名称の（ ）内の地名は送信所の場所を示す。

事 項	語 群		
[1] ●印の①に位置する海上保安庁の海岸局の名称	1 小樽(萩ヶ岡)	2 小樽(赤岩)	3 小樽(昆布森)
[2] ●印の②に位置する海上保安庁の海岸局の名称	1 那覇(浜崎)	2 那覇(玉城)	3 那覇(国頭)
[3] ●印の③に位置するナブテックスで海上安全情報を送信する海上保安庁の海岸局の名称	4 那覇(多野)	5 那覇(東風平)	
[4] ●印の④に位置するナブテックスで海上安全情報を送信する海上保安庁の海岸局の名称	1 小樽(笹山)	2 小樽(稲穂)	3 小樽(羅臼)
[5] ●印の⑤に位置するナブテックスで海上安全情報を送信する海上保安庁の海岸局の名称	4 小樽(十町瀬)	5 小樽(積丹第2)	
[6] ●印の⑥に位置する海上保安庁の無線航行陸上局(ディファレンシャルGPSによるもの)の名称	1 横浜(白浜)	2 横浜(下田)	3 横浜(山原)
[7] ●印の⑦に位置する海上保安庁の無線航行陸上局(ディファレンシャルGPSによるもの)の名称	4 横浜(武山)	5 横浜(富津第2)	
[8] ●印の⑧に位置する開港名	1 門司(雲仙)	2 門司(上県)	3 門司(前原)
[9] ⑨の半島名	4 門司(幸崎)	5 門司(延行第2)	
[10] ⑩の海峡又は水道名	1 八重瀬	2 松前	3 酒田
	4 尻屋埼	5 金華山	
	1 浜田	2 若宮	3 丹後
	4 大浜	5 触倉島	
	1 高松	2 今治	3 水島
	4 徳山下松	5 徳島小松島	
	1 薩摩半島	2 国東半島	3 佐多岬半島
	4 大隅半島	5 東松浦半島	
	1 関門海峡	2 対馬海峡	3 平館海峡
	4 中之島水道	5 諏訪之瀬水道	

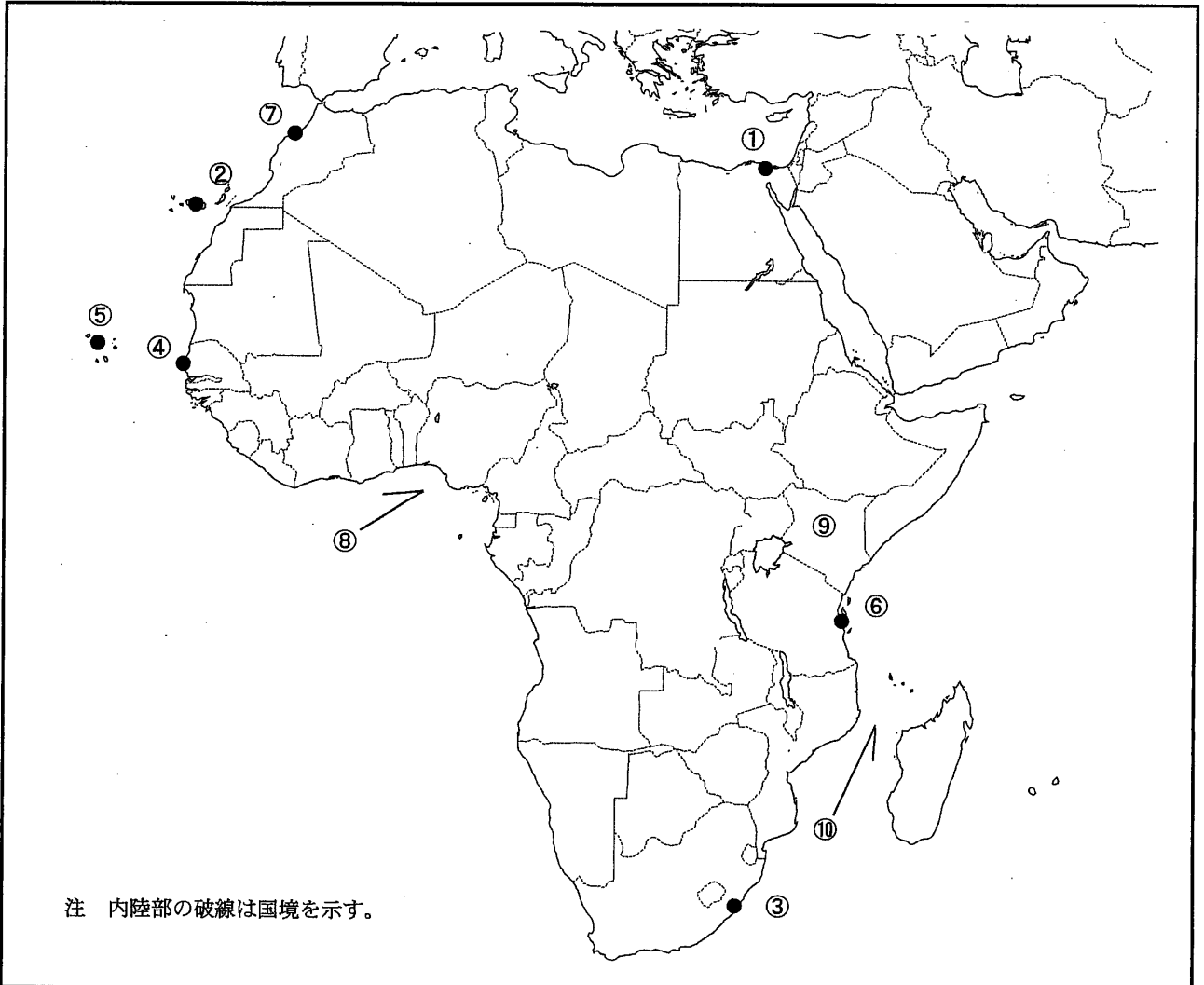
問II 下図により、下表の左欄の事項のそれぞれに該当するものの名称を右欄の語群から一つ選び、その番号で答えよ。



注 内陸部の破線は国境を示す。

事 項	語 群				
[11] ●印の①に位置する公衆通信業務を取り扱う海岸局の名称	1 Achao Radio	2 Pajaritos Radio	3 Tortola Radio	4 Slidell, Louisiana Radio	5 South Chatham, Massachusetts Radio
[12] ●印の②に位置する公衆通信業務を取り扱う海岸局の名称	1 Ancud Radio	2 Arica Radio	3 Salina Cruz Radio	4 Mazatlan, Sinaloa Radio	5 Seattle, Washington Radio
[13] ●印の③に位置するナブテックスで海上安全情報を送信する海岸局の名称	1 St. John's	2 Prescott	3 Saint John	4 Labrador	5 Portsmouth
[14] ●印の④に位置するナブテックスで海上安全情報を送信する海岸局の名称	1 Charleston	2 Santa Marta	3 Iqaluit	4 Thunder Bay	5 Riviere-au-Renard
[15] ●印の⑤に位置するナブテックスで海上安全情報を送信する海岸局の名称	1 Cambria	2 Kodiak	3 Punta Arenas	4 Manzanillo	5 Astoria
[16] ●印の⑥に位置する我が国の船舶の寄港地の名称	1 Quebec	2 Tronto	3 Montreal	4 Milwaukee	5 Superior
[17] ●印の⑦に位置する我が国の船舶の寄港地の名称	1 Portland	2 Sitka	3 Valdez	4 Anchorage	5 Port Angels
[18] ⑧の半島名	1 Foxe Pen.	2 Seward Pen.	3 Prince Albert Pen.	4 Pen. de Gaspe	5 Nova Scotia Pen.
[19] ⑨の島名	1 Ambrym	2 Jersey	3 Guadeloupe	4 New Britain	5 Newfoundland
[20] ⑩の湾名	1 Ungava Bay	2 Hudson Bay	3 Delaware Bay	4 Apalachee Bay	5 Chesapeake Bay

問Ⅲ 下図により、下表の左欄の事項のそれぞれに該当するものの名称を右欄の語群から一つ選び、その番号で答えよ。



注 内陸部の破線は国境を示す。

事 項	語 群		
[21] ●印の①に位置する公衆通信業務を取り扱う海岸局の名称	1 Jijel Radio 4 Port Said Radio	2 Skikda Radio 5 Alexandria Radio	3 Kosseir Radio
[22] ●印の②に位置する公衆通信業務を取り扱う海岸局の名称	1 Annaba Radio 4 Cabo la Nao Radio	2 Coruna Radio 5 Las Palmas Radio	3 Tanger Radio
[23] ●印の③に位置するナプテックスで海上安全情報を送信する海岸局の名称	1 Walvis Bay 4 Durban Radio	2 Mahe 5 Cape Town Radio	3 Hamala
[24] ●印の④に位置するナプテックスで海上安全情報を送信する海岸局の名称	1 Tarifa 4 Mollendo	2 Dakar 5 Port Elizabeth	3 Izmir
[25] ●印の⑤に位置するナプテックスで海上安全情報を送信する海岸局の名称	1 Porto Novo 4 Cape Columbine	2 Mauritius 5 Abidjan Radio	3 Sao Vicente Radio
[26] ●印の⑥に位置する我が国の船舶の寄港地の名称	1 Mombasa 4 Mogadishu	2 Maputo 5 Dar es Salaam	3 Djibouti
[27] ●印の⑦に位置する我が国の船舶の寄港地の名称	1 Lagos 4 Monrovia	2 Accra 5 Port Harcourt	3 Casablanca
[28] ⑧の湾名	1 Gulf of Guinea 4 Gulf of Mannar	2 Gulf of Martaban 5 Gulf of Khambhat	3 Gulf of Kachchh
[29] ⑨の国名	1 Republic of Namibia 3 Republic of Madagascar 5 United Republic of Tanzania	2 Republic of Kenya 4 Federal Republic of Somalia	
[30] ⑩の海峡名	1 Kaulakahi Ch. 3 Ten Degree Ch. 5 Mozambique Ch.	2 St. George's Ch. 4 M'Clintock Ch.	

問IV 次の問いに答えよ。

1 次表のA群のそれぞれの都市は、我が国の船舶の寄港地であるが、それぞれの所属国名をB群から一つ選び、その番号で答えよ。

A 群	B 群
[31] Zamboanga	1 Republic of the Philippines 2 Socialist Republic of Viet Nam 3 People's Republic of Bangladesh 4 Republic of the Union of Myanmar 5 Democratic Socialist Republic of Sri Lanka
[32] Sandakan	1 Malaysia 2 Brunei Darussalam 3 Republic of Indonesia 4 The Democratic Republic of Timor-Leste 5 Independent State of Papua New Guinea
[33] Odessa	1 Romania 2 Ukraine 3 Hellenic Republic 4 Republic of Croatia 5 United Kingdom of Great Britain and Northern Ireland
[34] Guayaquil	1 Republic of Chile 2 Republic of Peru 3 Republic of Ecuador 4 Republic of Colombia 5 Federative Republic of Brazil
[35] Auckland	1 Canada 2 Ireland 3 Australia 4 United States of America 5 New Zealand

2 次表の左欄のそれぞれの事項に該当するものの名称を右欄の語群から一つ選び、その番号で答えよ。

事 項	語 群
[36] 中国の華北地区、山東半島の南海岸にある港湾都市。港は広く水深があり、大型船の入出港に適した良港。内陸部へ向かう鉄道の起点でもあり、海運と陸運とを繋ぐ交通の要衝となっている。	1 Hong Kong(香港) 2 Shanghai(上海) 3 Qingdao(青島) 4 Dalian(大連) 5 Haikou(海口)
[37] インドの南端とスリランカの北端との間にある海峡。この海峡は、インド洋とベンガル湾とを繋ぐ海上交通上の重要な水路となっている。	1 Karimata Str. 2 Madura Str. 3 Sunda Str. 4 Palk Str. 5 Alas Str.
[38] ユラン半島とその東側の島々によって構成される王国。半島の北東部はカテガット海峡に、北西部はスカゲラック海峡に面し、二つの海峡はバルト海と北海とを繋ぐ海上交通上の重要な水路となっている。	1 Kingdom of the Netherlands 2 Kingdom of Denmark 3 Kingdom of Sweden 4 Kingdom of Belgium 5 Kingdom of Norway
[39] 東南アジア最大の国際河川。この河川は、タイやラオスなどの国々の国境を流れてカンボジアを貫流し、ベトナムを通過して南シナ海に注ぐ。3000トン級の航洋船がブノンベンなどの内陸部の港まで遡ることができる。	1 Chao Phraya 2 Ayeyarwady 3 Thanlwin 4 Sittoung 5 Mekong
[40] 南太平洋のメラネシアに位置するフランス領の島。細長い地形の島で、ニッケル、コバルト、マンガンなどの地下資源が豊富で、これらが島の東南部にあるヌーメアの港から輸出されている。	1 New Providence 2 New Caledonia 3 New Guinea 4 New Ireland 5 New Georgia