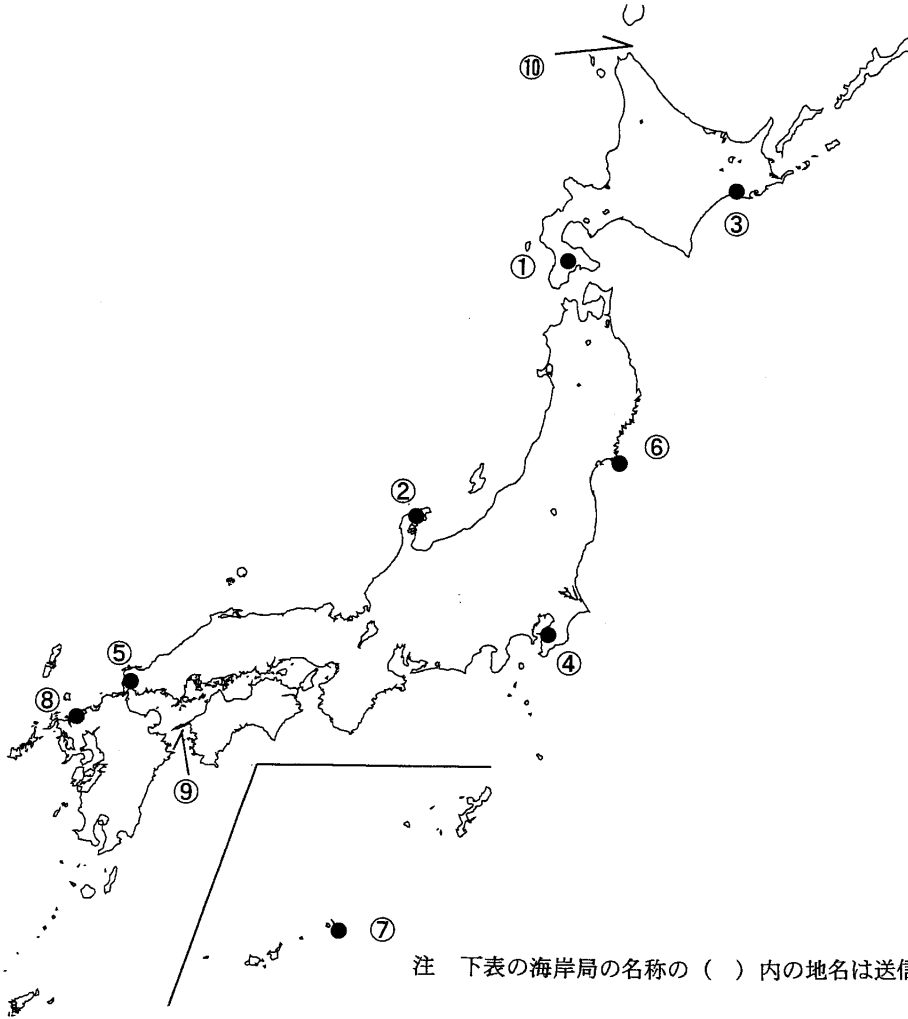


第一級総合無線通信士「地理」試験問題

40問 1時間

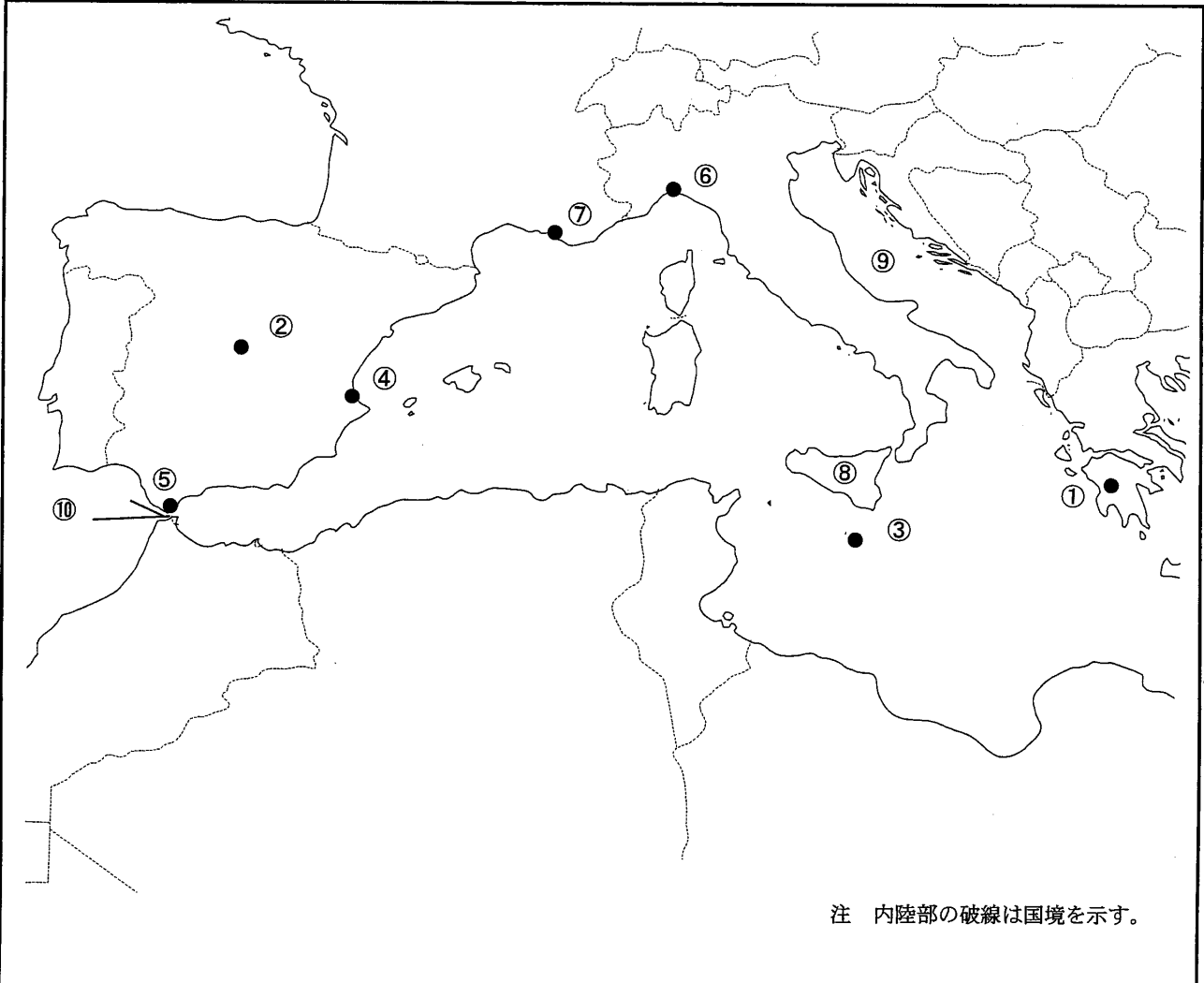
問I 下図により、下表の左欄の事項のそれぞれに該当するものの名称を右欄の語群から一つ選び、その番号で答えよ。



注 下表の海岸局の名称の（ ）内の地名は送信所の場所を示す。

事 項	語 群
[1] ●印の①に位置する海上保安庁の海岸局の名称	1 小樽 (大野)      2 小樽 (笹山)      3 小樽 (昆布森) 4 小樽 (知駒)      5 小樽 (萩ヶ岡)
[2] ●印の②に位置する海上保安庁の海岸局の名称	1 新潟 (荒川)      2 新潟 (女神)      3 新潟 (平根崎) 4 新潟 (倉ヶ岳)      5 新潟 (猫ヶ岳)
[3] ●印の③に位置するナブテックスで海上安全情報を送信する海上保安庁の海岸局の名称	1 小樽 (赤岩)      2 小樽 (羅臼)      3 小樽 (歌島) 4 小樽 (十町瀬)      5 小樽 (積丹第2)
[4] ●印の④に位置するナブテックスで海上安全情報を送信する海上保安庁の海岸局の名称	1 横浜 (武山)      2 横浜 (山原)      3 横浜 (須崎) 4 横浜 (鮎子)      5 横浜 (富津第2)
[5] ●印の⑤に位置するナブテックスで海上安全情報を送信する海上保安庁の海岸局の名称	1 門司 (幸崎)      2 門司 (前原)      3 門司 (上県) 4 門司 (隠蔵寺)      5 門司 (延行第2)
[6] ●印の⑥に位置する海上保安庁の無線航行陸上局 (ディファレンシャルGPSによるもの)の名称	1 尻屋埼      2 松前      3 劔崎 4 金華山      5 舩倉島
[7] ●印の⑦に位置する海上保安庁の無線航行陸上局 (ディファレンシャルGPSによるもの)の名称	1 大浜      2 若宮      3 大瀬崎 4 宮古島      5 八重瀬
[8] ●印の⑧に位置する開港名	1 巖原      2 長崎      3 唐津 4 八代      5 三角
[9] ⑨の半島名	1 企救半島      2 国東半島      3 糸島半島 4 佐田岬半島      5 佐賀関半島
[10] ⑩の海峡又は水道名	1 根室海峡      2 宗谷海峡      3 奥尻海峡 4 利尻水道      5 国後水道

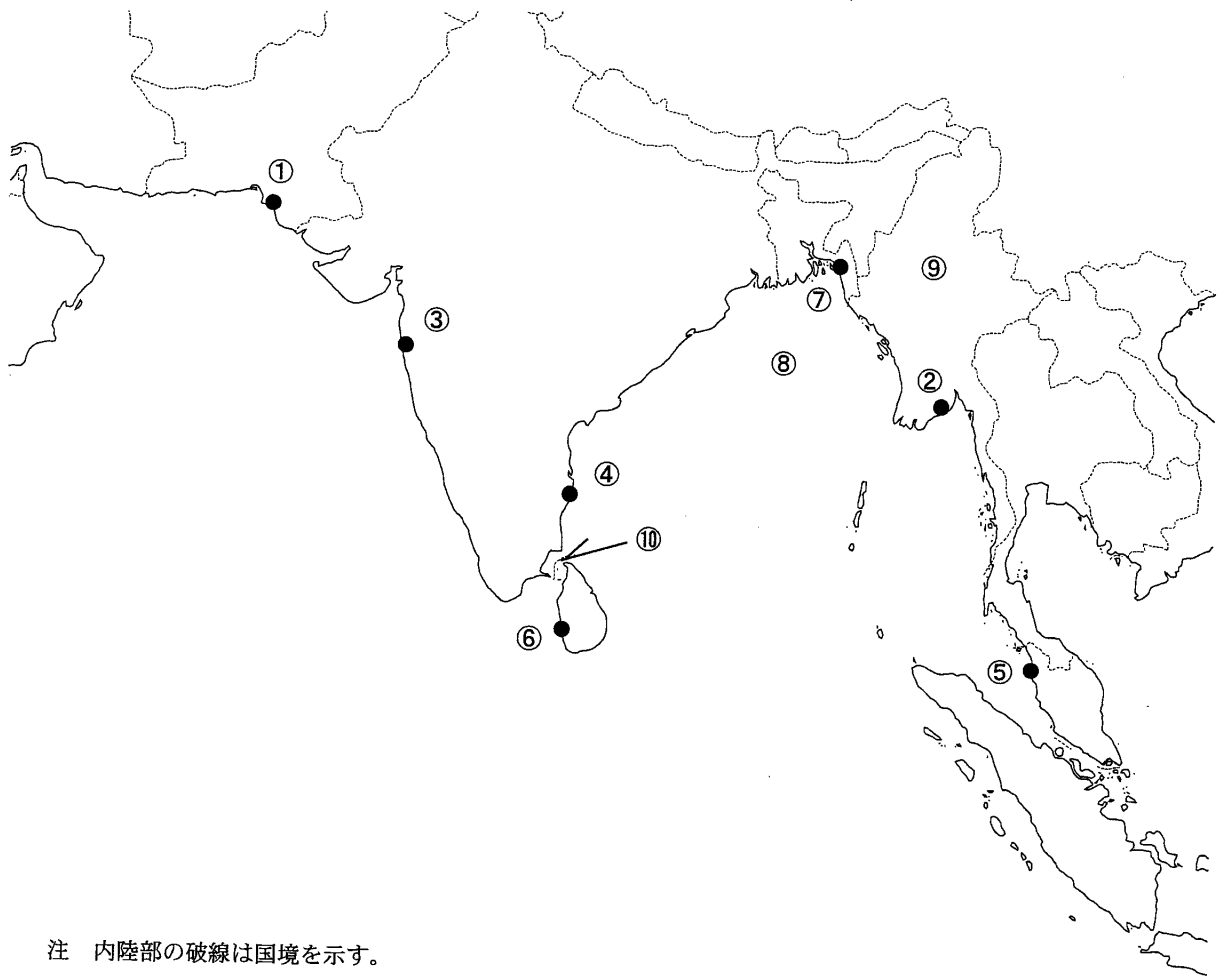
問II 下図により、下表左欄の事項のそれぞれに該当するものの名称を右欄の語群から一つ選び、その番号で答えよ。



注 内陸部の破線は国境を示す。

事 項	語 群		
[11] ●印の①に位置する公衆通信業務を取り扱う海岸局の名称	1 Augusta Radio 4 Olympia Radio	2 Ancona Radio 5 Civitavecchia Radio	3 Cyprus Radio
[12] ●印の②に位置する公衆通信業務を取り扱う海岸局の名称	1 Madrid Radio 4 Arestal Radio	2 Livorno Radio 5 Lampedusa Radio	3 Crotone Radio
[13] ●印の③に位置するナブテックスで海上安全情報を送信する海岸局の名称	1 Izmir 4 Sellia Marina	2 Kelibia 5 Malta Radio	3 Split(Hvar Is)
[14] ●印の④に位置するナブテックスで海上安全情報を送信する海岸局の名称	1 Dakar 4 Cabo La Nao	2 Surt 5 Las Palmas	3 Cross La Grade
[15] ●印の⑤に位置するナブテックスで海上安全情報を送信する海岸局の名称	1 Irakleio 4 La Maddalena	2 Douala 5 Nouadhibou Radio	3 Tarifa
[16] ●印の⑥に位置する我が国の船舶の寄港地の名称	1 Trieste 4 Rijeka	2 Genova 5 Dubrovnik	3 Venezia
[17] ●印の⑦に位置する我が国の船舶の寄港地の名称	1 Catania 4 Almeria	2 Marseille 5 Barcelona	3 Le Havre
[18] ⑧の島名	1 Corse 4 Sicilia	2 Menorca 5 Sardegna	3 Mallorca
[19] ⑨の海名	1 Aegean Sea 3 Ligurian Sea 5 Tyrrhenian Sea	2 Adriatic Sea 4 Marmara Sea	
[20] ⑩の海峡名	1 Str. of Messina 3 Str. of Otranto 5 Str. of Georgia	2 Str. of Dover 4 Str. of Gibraltar	

問Ⅲ 下図により、下表左欄の事項のそれぞれに該当するものの名称を右欄の語群から一つ選び、その番号で答えよ。



注 内陸部の破線は国境を示す。

事 項	語 群		
[21] ●印の①に位置する公衆通信業務を取り扱う海岸局の名称	1 Abomusa Radio 4 Salalah Radio	2 Khark Radio 5 Bahonar Radio	3 Karachi Radio
[22] ●印の②に位置する公衆通信業務を取り扱う海岸局の名称	1 Rabigh Radio 4 Yangon Radio	2 Cua Ong Radio 5 Kien Giang Radio	3 Bac Lieu Radio
[23] ●印の③に位置するナプテックスで海上安全情報を送信する海岸局の名称	1 Mahe 4 Mauritius	2 Mumbai 5 Porto Novo	3 Jeloya
[24] ●印の④に位置するナプテックスで海上安全情報を送信する海岸局の名称	1 Jeddah 4 Abidjan Radio	2 Walvis Bay 5 Cape Columbine	3 Chennai
[25] ●印の⑤に位置するナプテックスで海上安全情報を送信する海岸局の名称	1 Balasore 4 Penang	2 Muttan 5 Jayapura	3 Veraval
[26] ●印の⑥に位置する我が国の船舶の寄港地の名称	1 Goa 4 Trincomalee	2 Colombo 5 Kolkata(Calcutta)	3 Jaffina
[27] ●印の⑦に位置する我が国の船舶の寄港地の名称	1 Belawan 4 Pontianak	2 Bintulu 5 Chittagong	3 Kota Kinabalu
[28] ⑧の湾名	1 Bay of Fundy 4 Gulf of Mannar	2 Bay of Plenty 5 Gulf of Kachchh	3 Bay of Bengal
[29] ⑨の国名	1 India 3 Malaysia 5 Republic of the Union of Myanmar	2 People's Republic of Bangladesh 4 Lao People's Democratic Republic	
[30] ⑩の海峡名	1 Palk Str. 3 Polillo Str. 5 San Bernardino Str.	2 Victoria Str. 4 Fury and Hecla Str.	

問IV 次の問いに答えよ。

1 次表のA群のそれぞれの都市は、我が国の船舶の寄港地であるが、それぞれの所属国名をB群から一つ選び、その番号で答えよ。

A 群	B 群
[31] Surabaya	1 Republic of Indonesia                      2 Brunei Darussalam 3 Socialist Republic of Viet Nam            4 Republic of the Philippines 5 The Democratic Republic of Timor-Leste
[32] Sandakan	1 Republic of Maldives                        2 Malaysia 3 Kingdom of Cambodia                      4 Kingdom of Thailand 5 Democratic Socialist Republic of Sri Lanka
[33] Rotterdam	1 Kingdom of Belgium                        2 Kingdom of Norway 3 Kingdom of Denmark                      4 Kingdom of the Netherlands 5 United Kingdom of Great Britain and Northern Ireland
[34] Sitka	1 Canada                                         2 United Mexican States 3 Republic of Cuba                            4 Russian Federation 5 United States of America
[35] Auckland	1 Australia                                      2 Ireland 3 New Zealand                                4 Republic of South Africa 5 Independent State of Papua New Guinea

2 次表の左欄のそれぞれの事項に該当するものの名称を右欄の語群から一つ選び、その番号で答えよ。

事 項	語 群
[36] 中国の華東地区北部の中央直轄の商業・港湾都市。 長江デルタに位置し、内港と外港の二つから成る港は、世界最大級の港の一つである。 造船、鉄鋼、電機などの工業が発達し、大学や高等専門学校などの教育機関も多い。	1 Hong Kong(香港) 2 Shanghai(上海) 3 Qingdao(青島) 4 Haikou(海口) 5 Macau(澳門)
[37] フィリピン共和国北部に位置する島。 海岸線が複雑でマニラやサンフェルナンドなどの良港が多い。 島では米、砂糖キビ、ココナッツ、マニラ麻などが栽培されている。	1 Leyte 2 Luzon 3 Mindoro 4 Palawan 5 Mindanao
[38] エジプト北東部に位置し、紅海に突き出た半島。 半島の東はアカバ湾に、西はスエズ湾に面し、スエズ湾は運河により地中海と結ばれている。	1 Sinai 2 Kintyre 3 Jylland 4 Cornwall 5 Peloponissos
[39] アフリカ西部に位置し、大西洋に臨む共和国。 東はコートジボアール共和国、西はシエラレオネ共和国に、南は大西洋に接する。 パナマ共和国などと並び世界有数の船舶の置籍国である。	1 Republic of Kenya 2 Republic of Angola 3 Republic of Liberia 4 Federal Republic of Nigeria 5 United Republic of Tanzania
[40] オーストラリア大陸の北東部に接する海。 海域の北はニューギニア島に接し、北西はトレス海峡によりアラフラ海と結ばれている。 シドニーなどオーストラリア東部の港と東南アジアの港とを結ぶ船舶の航路となっている。	1 Coral Sea 2 Timor Sea 3 Celebes Sea 4 Sibuyan Sea 5 Mindanao Sea