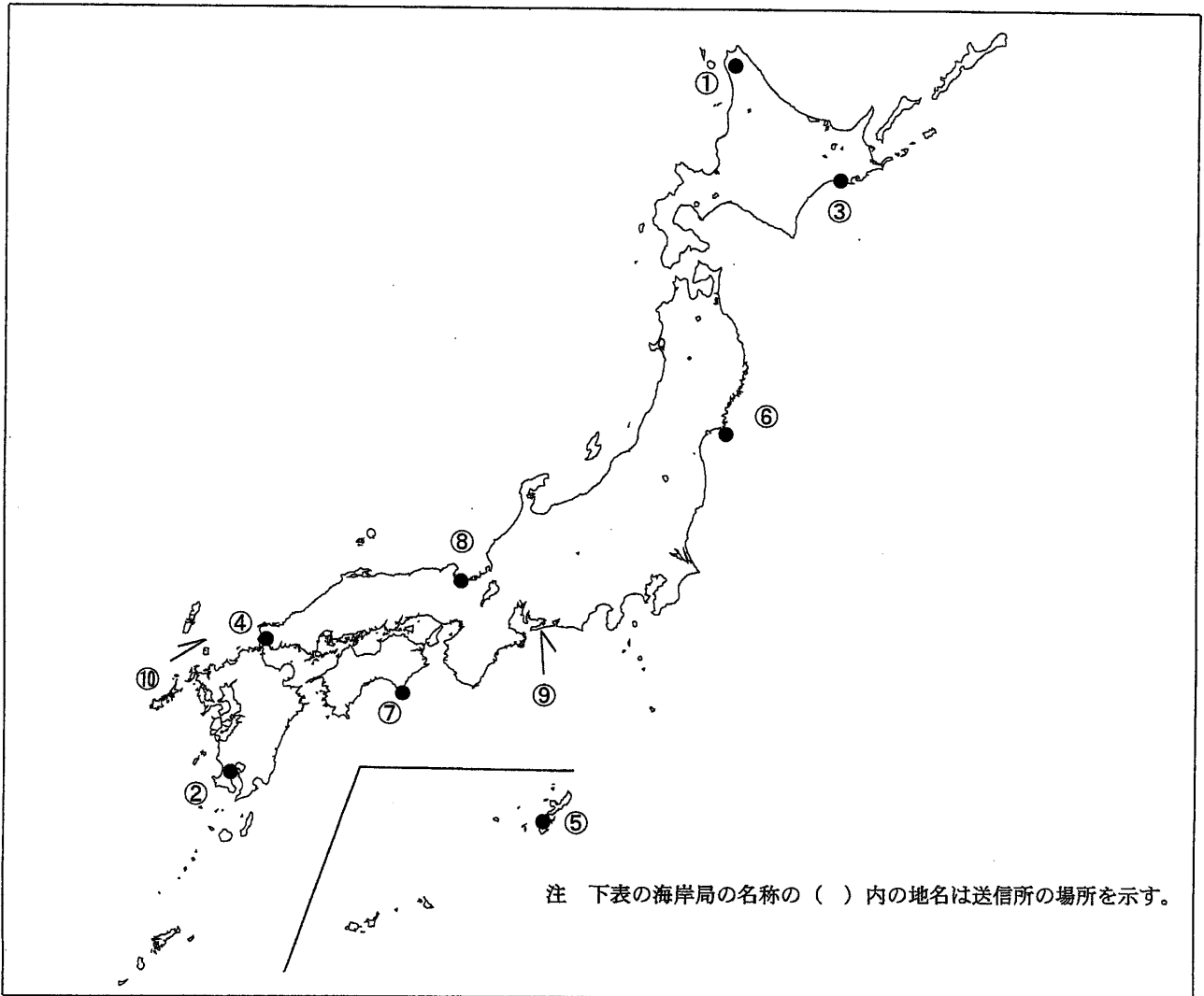


第一級総合無線通信士「地理」試験問題

40問 1時間

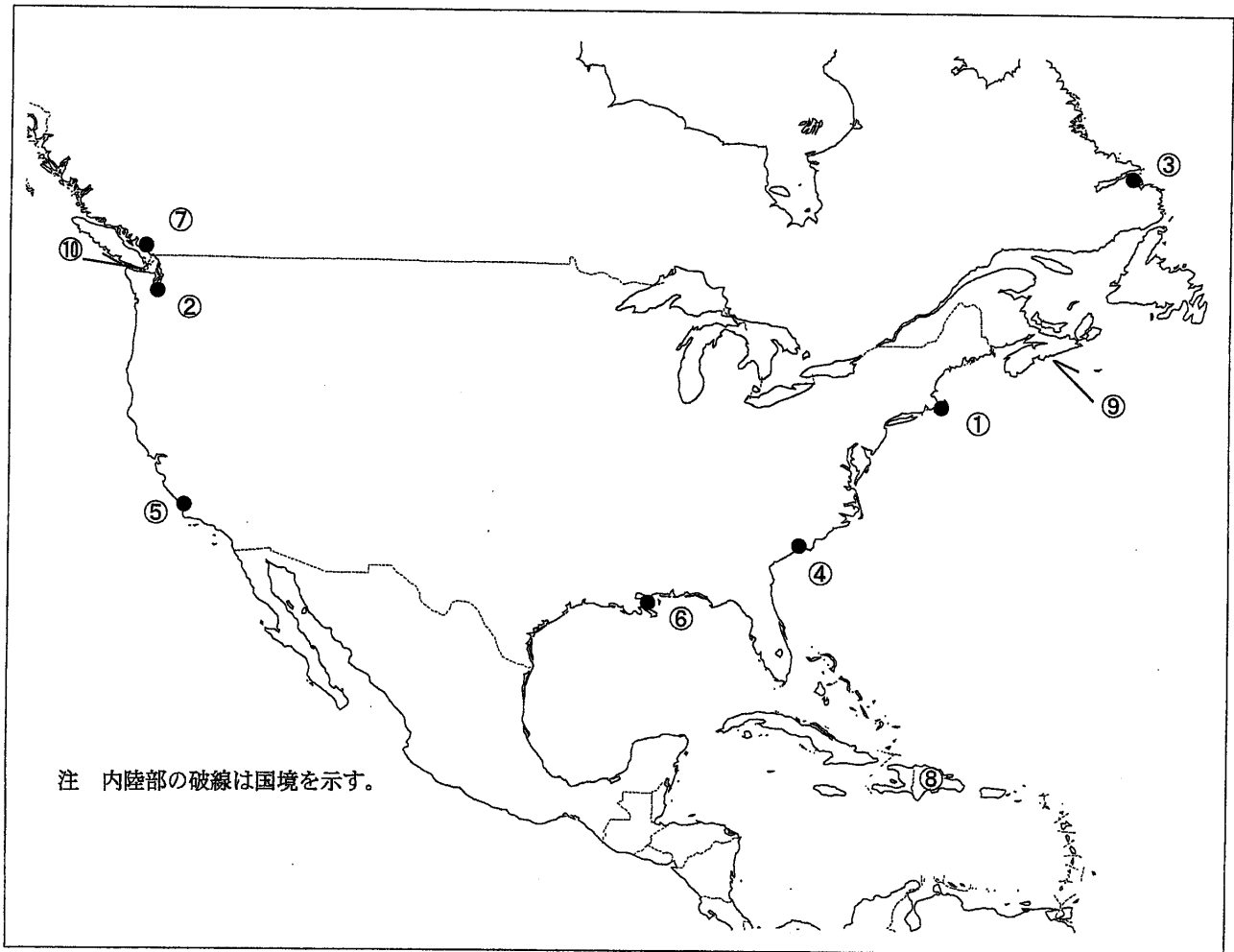
問I 下図により、下表の左欄の事項のそれぞれに該当するものの名称を右欄の語群から一つ選び、その番号で答えよ。



注 下表の海岸局の名称の()内の地名は送信所の場所を示す。

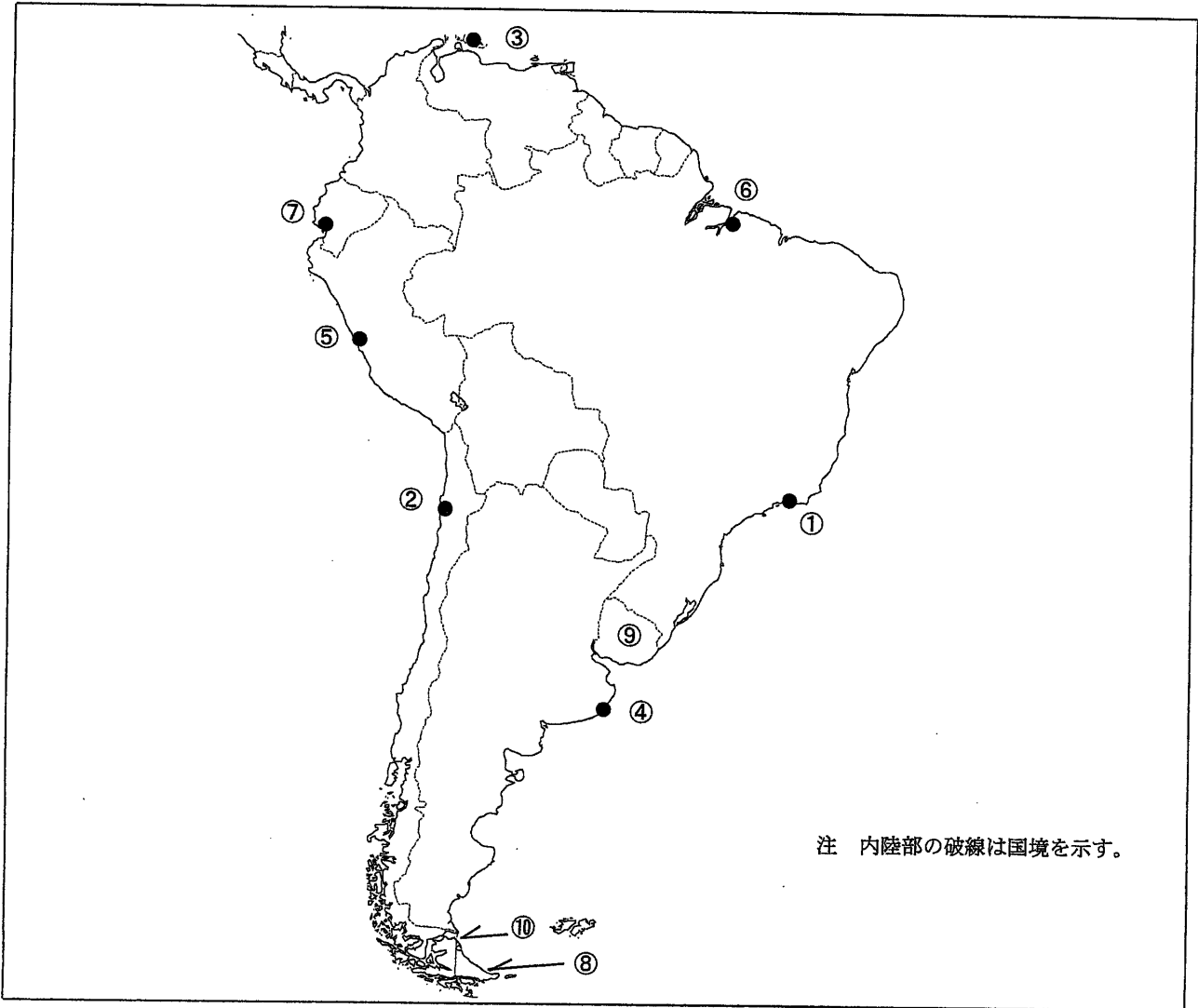
事 項	語 群
[1] ●印の①に位置する海上保安庁の海岸局の名称	1 小樽(千望台) 2 小樽(大野) 3 小樽(萩ヶ岡) 4 小樽(積丹) 5 小樽(昆布森)
[2] ●印の②に位置する海上保安庁の海岸局の名称	1 鹿児島(紫尾) 2 鹿児島(油津) 3 鹿児島(名瀬) 4 鹿児島(吉見山) 5 鹿児島(中之島)
[3] ●印の③に位置するナブテックスで海上安全情報を送信する海上保安庁の海岸局の名称	1 小樽(江差) 2 小樽(十町瀬) 3 小樽(歌島) 4 小樽(紋別山) 5 小樽(積丹第2)
[4] ●印の④に位置するナブテックスで海上安全情報を送信する海上保安庁の海岸局の名称	1 門司(幸崎) 2 門司(前原) 3 門司(上県) 4 門司(隠蔵寺) 5 門司(延行第2)
[5] ●印の⑤に位置するナブテックスで海上安全情報を送信する海上保安庁の海岸局の名称	1 那覇(宮良) 2 那覇(国頭) 3 那覇(盛山) 4 那覇(浜崎) 5 那覇(喜屋武)
[6] ●印の⑥に位置する海上保安庁の無線航行陸上局(ディファレンシャルGPSによるもの)の名称	1 松前 2 釧崎 3 金華山 4 舩倉島 5 尻屋崎
[7] ●印の⑦に位置する海上保安庁の無線航行陸上局(ディファレンシャルGPSによるもの)の名称	1 大浜 2 瀬戸 3 若宮 4 室戸岬 5 江崎
[8] ●印の⑧に位置する開港名	1 舞鶴 2 境 3 七尾 4 浜田 5 福井
[9] ⑨の半島名	1 知多半島 2 志摩半島 3 渥美半島 4 野間半島 5 佐多岬半島
[10] ⑩の海峡又は水道名	1 大島海峡 2 対馬海峡 3 関門海峡 4 中之島水道 5 諏訪之瀬水道

問II 下図により、下表の左欄の事項のそれぞれに該当するものの名称を右欄の語群から一つ選び、その番号で答えよ。



事 項	語 群				
[11] ●印の①に位置する公衆通信業務を取り扱う海岸局の名称	1 Joinville Radio	2 Halifax Radio	3 Pajaritos Radio	4 Slidell, Louisiana Radio	5 South Chatham, Massachusetts Radio
[12] ●印の②に位置する公衆通信業務を取り扱う海岸局の名称	1 Salina Cruz Radio	2 Arica Radio	3 Ancud Radio	4 Mazatlan, Sinaloa Radio	5 Seattle, Washington Radio
[13] ●印の③に位置するナブテックスで海上安全情報を送信する海岸局の名称	1 Labrador	2 Prescott	3 Boston	4 Portsmouth	5 Thunder Bay
[14] ●印の④に位置するナブテックスで海上安全情報を送信する海岸局の名称	1 Bermuda	2 Miami	3 Charleston	4 Isabella	5 Wiarnton
[15] ●印の⑤に位置するナブテックスで海上安全情報を送信する海岸局の名称	1 Cambria	2 Astoria	3 Prince Rupert	4 Tofino	5 Kodiak
[16] ●印の⑥に位置する我が国の船舶の寄港地の名称	1 Mobile	2 Wilmington	3 Tampa	4 Galveston	5 New Orleans
[17] ●印の⑦に位置する我が国の船舶の寄港地の名称	1 Sitka	2 Valdez	3 Portland	4 Vancouver	5 Eureka
[18] ⑧の島名	1 Cuba	2 Puerto Rico	3 Jamaica	4 Hispaniola	5 Grand Bahama
[19] ⑨の半島名	1 Kent Pen.	2 Foxe Pen.	3 Nova Scotia Pen.	4 Melville Pen.	5 Prince Albert Pen.
[20] ⑩の海峡名	1 Franklin Str.	2 Cabot Str.	3 Str. of Belle Isle	4 Str. of Georgia	5 Str. of Juan de Fuca

問Ⅲ 下図により、下表の左欄の事項のそれぞれに該当するものの名称を右欄の語群から一つ選び、その番号で答えよ。



事 項	語 群				
[21] ● 印の①に位置する公衆通信業務を取り扱う海岸局の名称	1 Almeirim	2 Belem	3 Cabedelo	4 Bacanga	5 Rio de Janeiro Guaratiba
[22] ● 印の②に位置する公衆通信業務を取り扱う海岸局の名称	1 Balao Radio	2 Olinda Radio	3 El Salitral Radio	4 Santarem Radio	5 Antofagasta Zonal Radio
[23] ● 印の③に位置するナブテックスで海上安全情報を送信する海岸局の名称	1 Curacao	2 Cozumel	3 La Paloma	4 Veracruz	5 Punta Arenas
[24] ● 印の④に位置するナブテックスで海上安全情報を送信する海岸局の名称	1 Ushuaia	2 Paita	3 Buenos Aires	4 Mar del Plata	5 Comodoro Rivadavia
[25] ● 印の⑤に位置するナブテックスで海上安全情報を送信する海岸局の名称	1 Valparaiso	2 Callao	3 Rio Gallegos	4 Ayora Radio	5 Bahia Blanca
[26] ● 印の⑥に位置する我が国の船舶の寄港地の名称	1 Caracas	2 Belem	3 Rio de Janeiro	4 Georgetown	5 Esmeraldas
[27] ● 印の⑦に位置する我が国の船舶の寄港地の名称	1 Stanley	2 Trujillo	3 Guayaquil	4 Punta Arenas	5 Montevideo
[28] ⑧の島名	1 Anguilla	2 Montserrat	3 Guadeloupe	4 Martinique	5 Tierra del Fuego
[29] ⑨の国名	1 Republic of Peru	2 Republic of Chile	3 Republic of Ecuador	4 Federative Republic of Brazil	5 Oriental Republic of Uruguay
[30] ⑩の海峡名	1 Cabot Str.	2 Clarence Str.	3 Str. of Belle Isle	4 Fury and Hecla Str.	5 Str. of Magellan

問Ⅳ 次の問いに答えよ。

1 次表のA群のそれぞれの都市は、我が国の船舶の寄港地であるが、それぞれの所属国名をB群から一つ選び、その番号で答えよ。

A 群	B 群
[31] Yangon	1 Kingdom of Thailand 2 Kingdom of Cambodia 3 Republic of the Philippines 4 Socialist Republic of Viet Nam 5 Republic of the Union of Myanmar
[32] Colombo	1 India 2 Republic of Indonesia 3 Malaysia 4 People's Republic of Bangladesh 5 Democratic Socialist Republic of Sri Lanka
[33] Odesa	1 Romania 2 Ukraine 3 Republic of Croatia 4 Republic of Bulgaria 5 Russian Federation
[34] Benghazi	1 Libya 2 Republic of Tunisia 3 Republic of Djibouti 4 The Republic of the Sudan 5 Islamic Republic of Mauritania
[35] Port Moresby	1 Australia 2 Republic of Fiji 3 New Zealand 4 The Democratic Republic of Timor-Leste 5 Independent State of Papua New Guinea

2 次表の左欄のそれぞれの事項に該当するものの名称を右欄の語群から一つ選び、その番号で答えよ。

事 項	語 群
[36] ロシア東部に位置する港湾都市。 ピョートル大帝湾の支湾に臨み、ロシア極東における海運、漁業等の中心地の一つ。 船舶修理業が行われ、また、シベリヤ鉄道の支線の終点でもある。	1 Magadan 2 Kirovskiy 3 Nakhodka 4 Murmansk 5 Petropavlovsk-Kamchatskiy
[37] フィリピン南部に位置する同国で第二の面積の島。 島の東南部にダバオ、西南部にサンボアンガなどの港があり、これらの港からは木材、バナナなどが輸出されている。	1 Cebu 2 Leyte 3 Luzon 4 Mindoro 5 Mindanao
[38] アラフラ海と珊瑚海とを結ぶ海峡。 ニューギニア島とオーストラリアのケープヨーク半島との間に位置し、東南アジアの港とニュージーランドやオーストラリア東部の港とを結ぶ海上交通路となっている。	1 Bass Str. 2 Cook Str. 3 Torres Str. 4 Foveaux Str. 5 Investigator Str.
[39] アラビア半島の北東部に位置し、ペルシャ湾に臨む国。 北はイラクに、南はサウジアラビアに接する。 世界でも有数の産油国であり、我が国も多くの原油をこの国から輸入している。	1 Kuwait 2 State of Qatar 3 Sultanate of Oman 4 Kingdom of Bahrain 5 United Arab Emirates
[40] 北海とバルト海との間に突き出した半島。 半島の西北岸はスカゲラック海峡を挟んでノルウェーに面し、東北岸はカテガット海峡を挟んでスウェーデンに面している。 この二つの海峡は北海とバルト海とを結ぶ海上交通路となっている。	1 Istra 2 Jylland 3 Kintyre 4 Bretagne 5 Cornwall