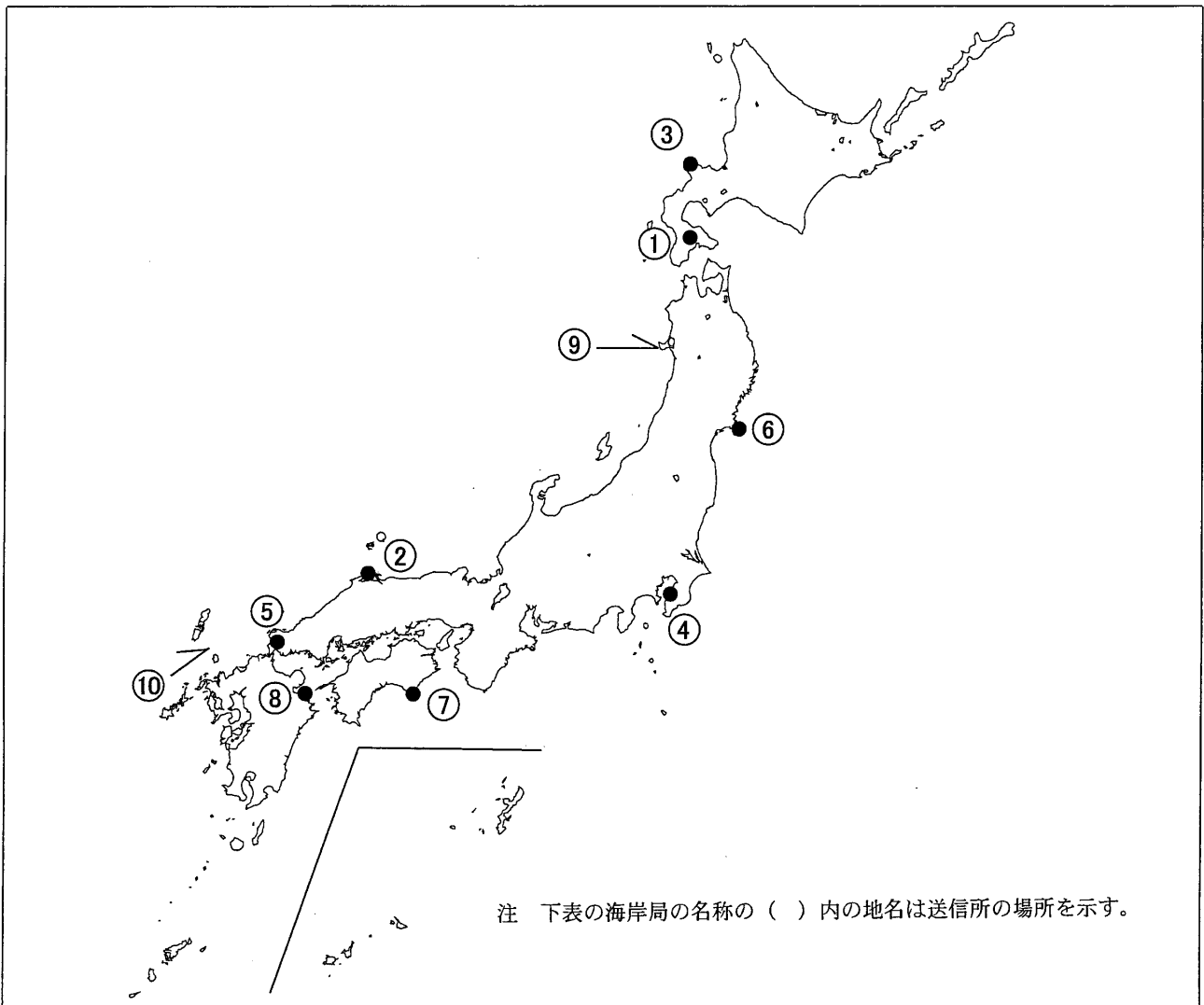


第一級総合無線通信士「地理」試験問題

40問 1時間

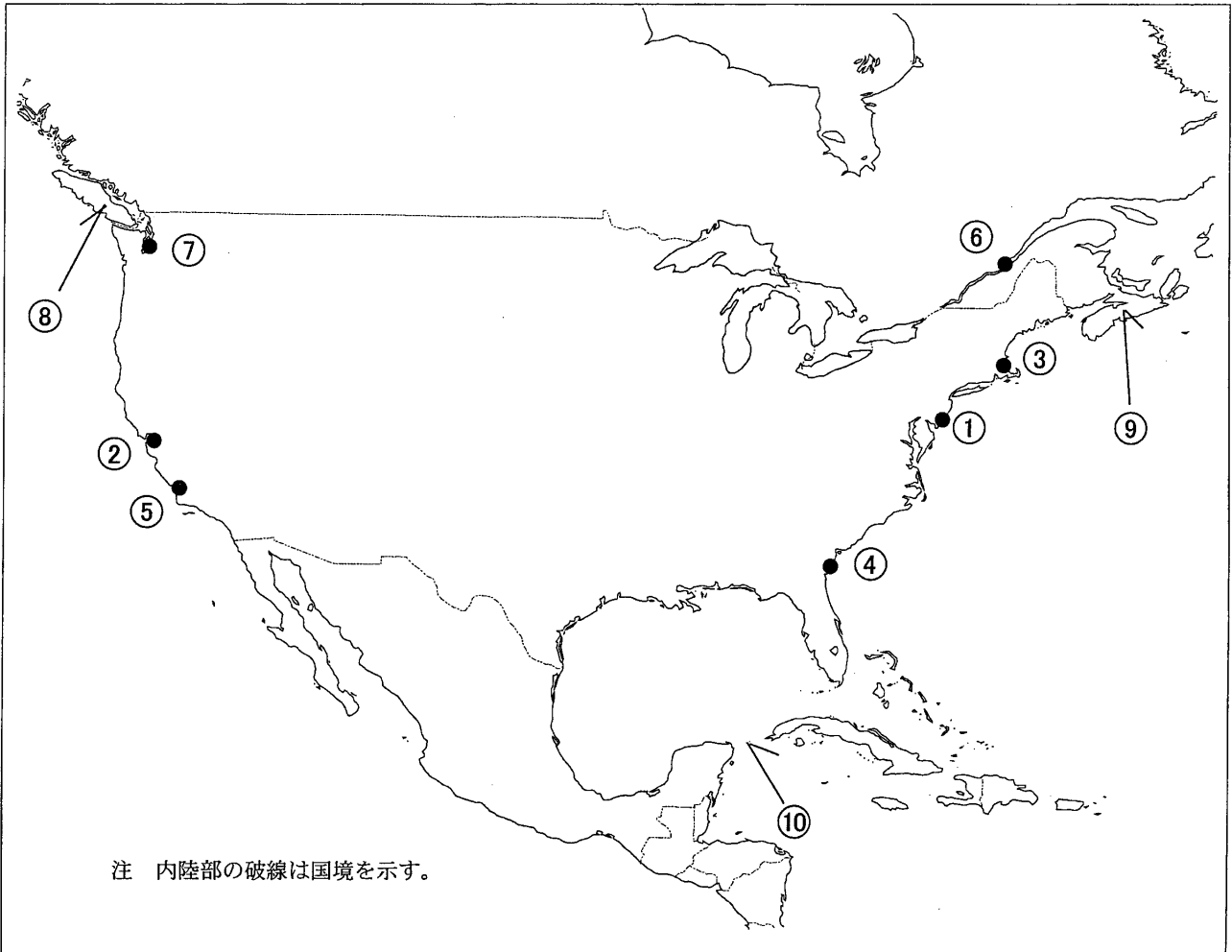
問I 下図により、下表の左欄の事項のそれぞれに該当するものの名称を右欄の語群から一つ選び、その番号で答えよ。



注 下表の海岸局の名称の（ ）内の地名は送信所の場所を示す。

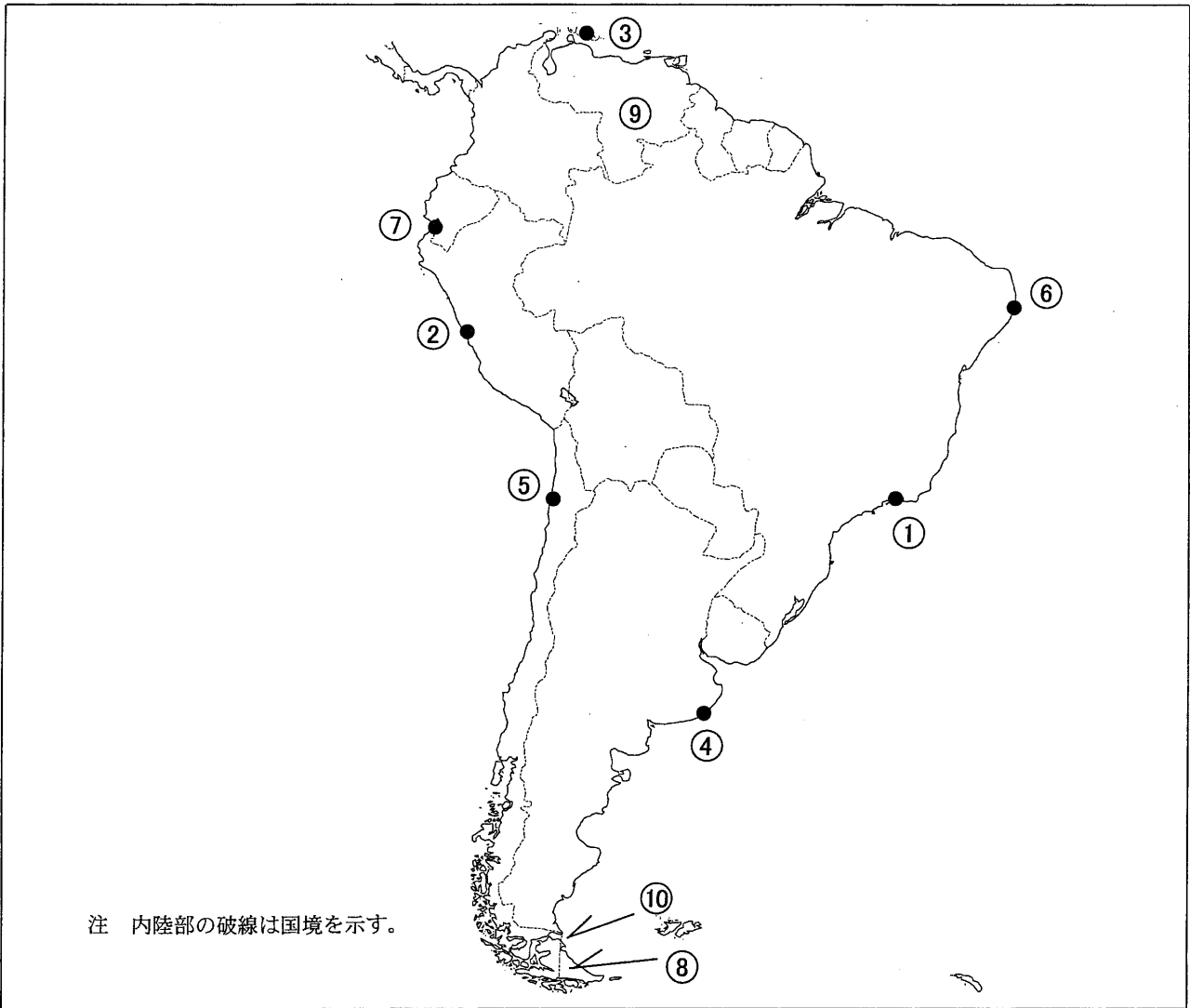
事 項	語 群		
[1] ●印の①に位置する海上保安庁の海岸局の名称	1 小樽(大野)	2 小樽(昆布森)	3 小樽(萩ヶ岡)
[2] ●印の②に位置する海上保安庁の海岸局の名称	1 舞鶴(越前)	2 舞鶴(野原)	3 舞鶴(枕木山)
[3] ●印の③に位置するナブテックスで海上安全情報を送信する海上保安庁の海岸局の名称	1 小樽(赤岩)	2 小樽(積丹第2)	3 小樽(十町瀬)
[4] ●印の④に位置するナブテックスで海上安全情報を送信する海上保安庁の海岸局の名称	1 横浜(白浜)	2 横浜(山原)	3 横浜(須崎)
[5] ●印の⑤に位置するナブテックスで海上安全情報を送信する海上保安庁の海岸局の名称	1 門司(幸崎)	2 門司(上県)	3 門司(前原)
[6] ●印の⑥に位置する海上保安庁の無線航行陸上局(ディファレンシャルGPSによるもの)の名称	1 犬吠埼	2 金華山	3 浦安
[7] ●印の⑦に位置する海上保安庁の無線航行陸上局(ディファレンシャルGPSによるもの)の名称	1 都井岬	2 大瀬埼	3 若宮
[8] ●印の⑧に位置する開港名	1 厳原	2 細島	3 大分
[9] ⑨の半島名	1 牡鹿半島	2 津軽半島	3 野間半島
[10] ⑩の海峡又は水道名	1 関門海峡	2 請島海峡	3 対馬海峡
	4 中之島水道	5 口之島水道	

問II 下図により、下表の左欄の事項のそれぞれに該当するものの名称を右欄の語群から一つ選び、その番号で答えよ。



事 項	語 群		
[11] ●印の①に位置する公衆通信業務を取り扱う海岸局の名称	1 Slidell, Louisiana Radio 4 Tbrs Cove Radio	2 Mobile, Alabama Radio 5 Tuckerton, New Jersey Radio	3 Prince Rupert Radio
[12] ●印の②に位置する公衆通信業務を取り扱う海岸局の名称	1 Arica Radio 4 Seymour Radio	2 Ancud Radio 5 S. Francisco California Radio	3 Salina Cruz Radio
[13] ●印の③に位置するナブテックスで海上安全情報を送信する海岸局の名称	1 Boston 4 Portsmouth	2 Labrador 5 Sydney	3 Yarmouth
[14] ●印の④に位置するナブテックスで海上安全情報を送信する海岸局の名称	1 Savannah 4 Sept-Iles	2 Miami 5 Wiarton	3 St. John's
[15] ●印の⑤に位置するナブテックスで海上安全情報を送信する海岸局の名称	1 Tofino 4 Kodiak	2 Cambria 5 Salina Cruz	3 Astoria
[16] ●印の⑥に位置する我が国の船舶の寄港地の名称	1 Superior 4 Churchill	2 Toronto 5 Quebec	3 Halifax
[17] ●印の⑦に位置する我が国の船舶の寄港地の名称	1 Portland 4 Sitka	2 Nome 5 Eureka	3 Seattle
[18] ⑧の島名	1 San Clemente I. 4 Vancouver I.	2 Santa Rosa I. 5 Prince of Wales I.	3 Graham I.
[19] ⑨の半島名	1 Foxe Pen. 3 Kent Pen. 5 Nova Scotia Pen.	2 Boothia Pen. 4 Coromandel Pen.	
[20] ⑩の海峡名	1 Str. of Florida 3 St. Lucia Ch. 5 North West Providence Ch.	2 Str. of Juan de Fuca 4 Yucatan Ch.	

問Ⅲ 下図により、下表の左欄の事項のそれぞれに該当するものの名称を右欄の語群から一つ選び、その番号で答えよ。



事 項	語 群				
[21] ●印の①に位置する公衆通信業務を取り扱う海岸局の名称	1 Belem Radio	2 Olinda Radio	3 Rio Radio		
[22] ●印の②に位置する公衆通信業務を取り扱う海岸局の名称	1 Rio Grande Radio	2 Callao Radio	3 Wollaston Radio		
[23] ●印の③に位置するナブテックスで海上安全情報を送信する海岸局の名称	1 Curacao	2 Rio Gallegos	3 Bermuda		
[24] ●印の④に位置するナブテックスで海上安全情報を送信する海岸局の名称	1 Ayora Radio	2 Bahia Blanca	3 Puerto Montt		
[25] ●印の⑤に位置するナブテックスで海上安全情報を送信する海岸局の名称	1 Païta	2 Cozumel	3 La Paloma		
[26] ●印の⑥に位置する我が国の船舶の寄港地の名称	1 Paramaribo	2 Santos	3 Montevideo		
[27] ●印の⑦に位置する我が国の船舶の寄港地の名称	1 Guayaquil	2 Valpariso	3 Port of Spairi		
[28] ⑧の島名	1 Malaita	2 Tobago	3 Montserrat		
[29] ⑨の国名	1 Republic of Colombia	2 Oriental Republic of Uruguay			
	3 Federative Republic of Brazil	4 Bolivarian Republic of Venezuela			
	5 Republic of Guyana				
[30] ⑩の海峡名	1 Mona Pass.	2 Windward Pass.			
	3 Drake Pass.	4 Str. of Belle Isle			
	5 Str. of Magellan				

問Ⅳ 次の問いに答えよ。

1 次表のA群のそれぞれの都市は、我が国の船舶の寄港地であるが、それぞれの所属国名をB群から一つ選び、その番号で答えよ。

A 群	B 群
[31] Da Nang	1 Kingdom of Thailand 2 Kingdom of Cambodia 3 Socialist Republic of Viet Nam 4 Republic of the Philippines 5 Democratic Socialist Republic of Sri Lanka
[32] Makassar	1 India 2 Brunei Darussalam 3 Malaysia 4 Republic of Indonesia 5 Independent State of Papua New Guinea
[33] Dubayy	1 State of Kuwait 2 United Arab Emirates 3 Republic of Yemen 4 Kingdom of Saudi Arabia 5 Sultanate of Oman
[34] Marseille	1 French Republic 2 Spain 3 Portuguese Republic 4 Italian Republic 5 Federal Republic of Germany
[35] Wellington	1 Canada 2 New Zealand 3 Australia 4 United States of America 5 United Kingdom of Great Britain and Northern Ireland

2 次表の左欄のそれぞれの事項に該当するものの名称を右欄の語群から一つ選び、その番号で答えよ。

事 項	語 群
[36] インドネシア、小スンダ列島西端の火山島。 島の東岸はジャワ海やフロレス海からインド洋へ抜ける航路があるロンボク海峡に面し、この海峡はマラッカ海峡よりも水深があり、大型のタンカーも安全に航行できる。	1 Bali 2 Jawa 3 Timor 4 Madura 5 Sumbawa
[37] 東南アジアの半島。 半島の東は南シナ海に、西はアンダマン海、そして南西は国際海峡であるマラッカ海峡に面し、半島の先端は橋によってシンガポールと繋がっている。	1 Malay Pen. 2 Inishowen Pen 3 Minahasea Pen. 4 Indo China Pen. 5 Kathiawar Pen
[38] アラビア半島北東岸とイラン南西岸とに囲まれた湾。 この湾はホルムズ海峡を通じてアラビア海に通じ、湾岸及び湾内には多くの油田があり、多数のタンカーが湾内を航行する。	1 Gulf of Kachchh 2 Gulf of Riga 3 Lagonoy Gulf 4 Percian Gulf 5 Moro Gulf
[39] 国土の大部分が南西アジアに位置する共和国。 ボスポラス海峡が国土をアジア側とヨーロッパ側とに分け、この海峡は、国際海峡として黒海と地中海とを結び、海峡に面して同国最大の港イスタンブールがある。	1 Italian Republic 2 Hellenic Republic 3 Republic of Turkey 4 Republic of Croatia 5 Republic of Bulgaria
[40] イタリア半島とバルカン半島との間の海。 イタリア半島側の海岸線は単調であるが、バルカン半島側の海岸は複雑に入り組み、かつ、島が多い。 海域の最北部にはベネチア、トリエステなどの港がある。	1 Black Sea 2 Ionian Sea 3 Aegean Sea 4 Adriatic Sea 5 Ligurian Sea