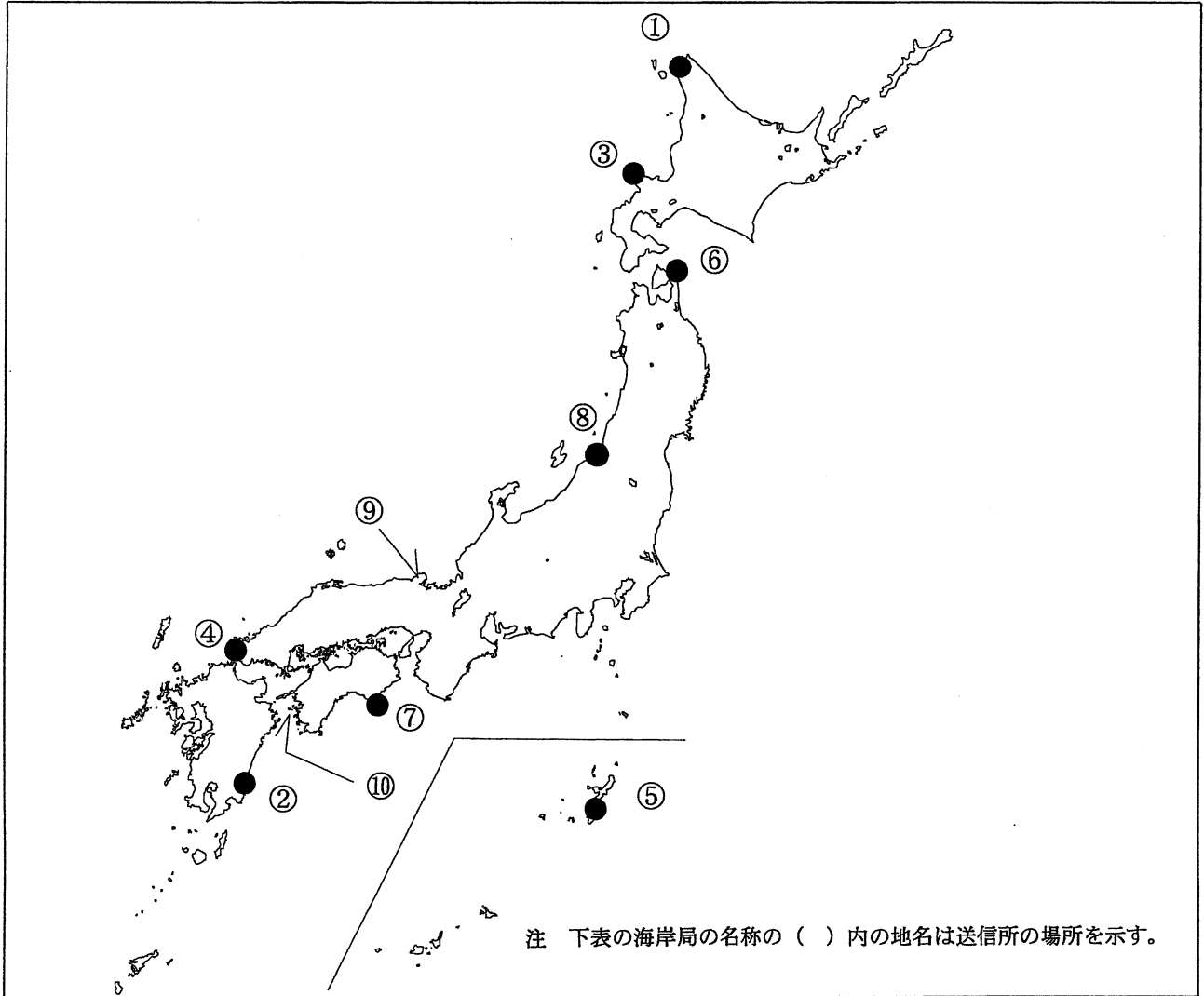


第一級総合無線通信士「地理」試験問題

40問 1時間

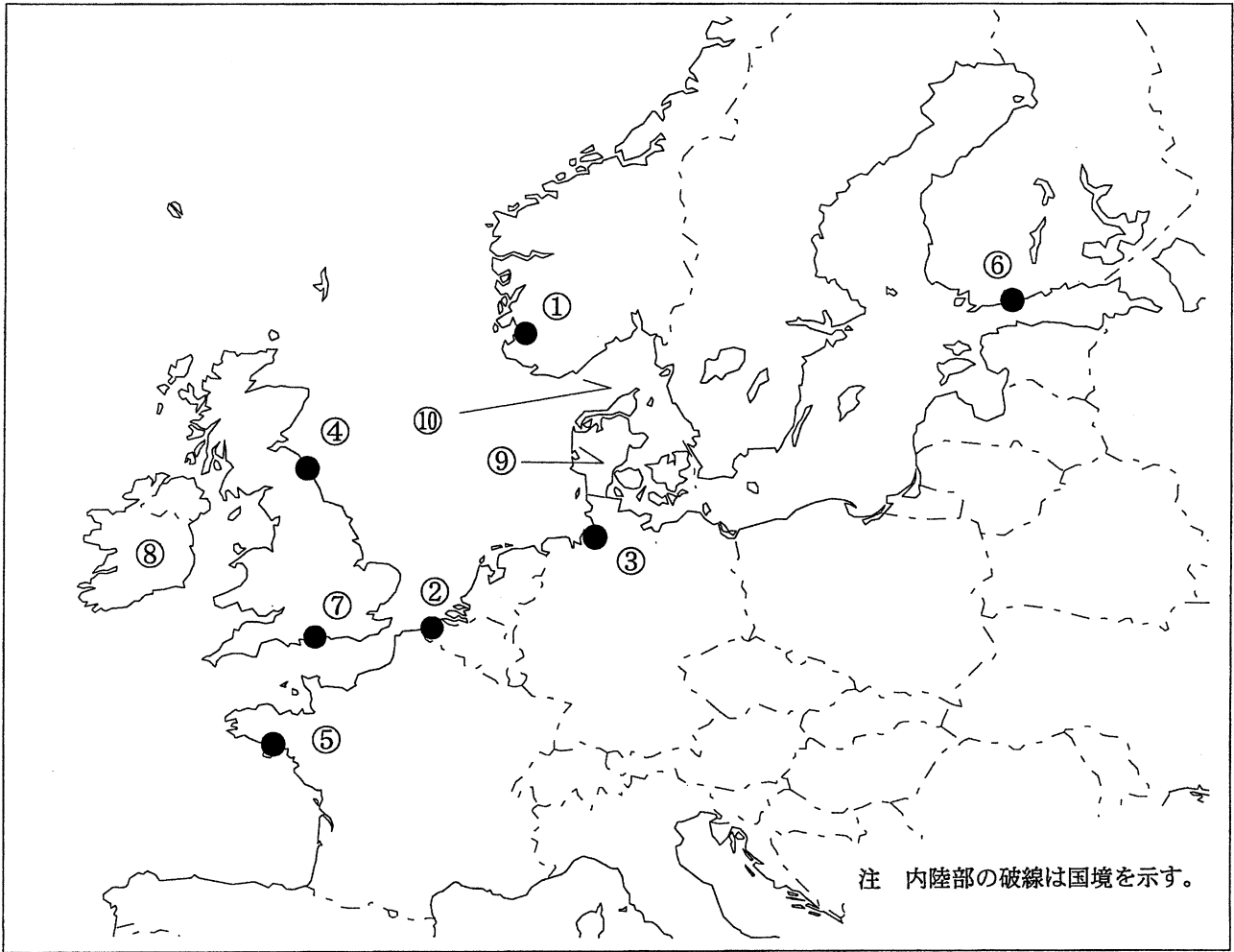
問I 下図により、下表の左欄の事項のそれぞれに該当するものの名称を右欄の語群から一つ選び、その番号で答えよ。



注 下表の海岸局の名称の( )内の地名は送信所の場所を示す。

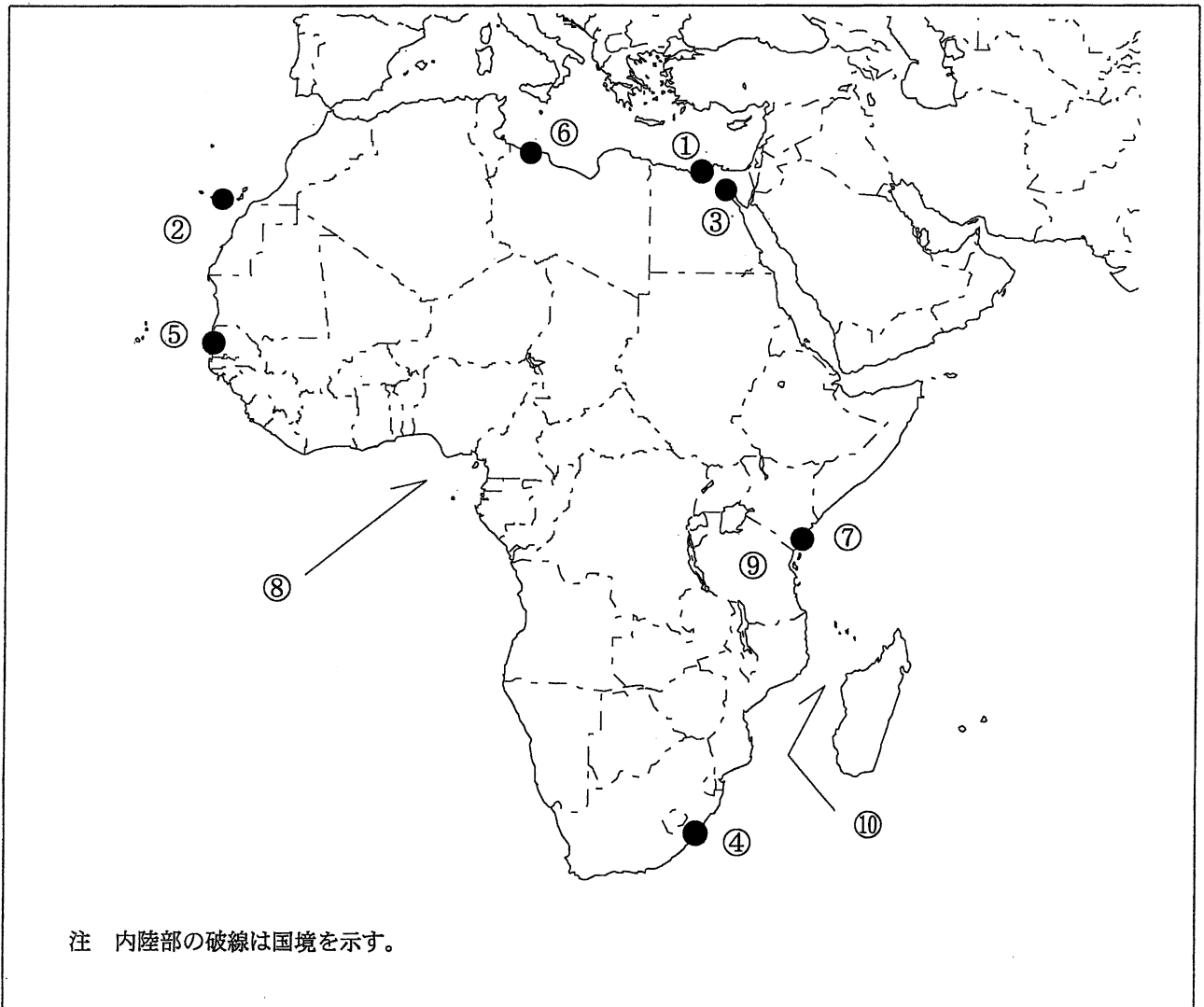
事 項	語 群
[1] ●印の①に位置する海上保安庁の海岸局の名称	1 小樽(紋別山) 2 小樽(萩ヶ岡) 3 小樽(美幌) 4 小樽(昆布森) 5 小樽(別当賀)
[2] ●印の②に位置する海上保安庁の海岸局の名称	1 鹿児島(名瀬) 2 鹿児島(中之島) 3 鹿児島(油津) 4 鹿児島(大道) 5 鹿児島(吉見山)
[3] ●印の③に位置するナブテックスで海上安全情報を送信する海上保安庁の海岸局の名称	1 小樽(上厚内) 2 小樽(十町瀬) 3 小樽(函館山) 4 小樽(西室蘭) 5 小樽(積丹第2)
[4] ●印の④に位置するナブテックスで海上安全情報を送信する海上保安庁の海岸局の名称	1 門司(隠蔵寺) 2 門司(幸崎) 3 門司(前原) 4 門司(延行第2) 5 門司(上県)
[5] ●印の⑤に位置するナブテックスで海上安全情報を送信する海上保安庁の海岸局の名称	1 那覇(高屋武) 2 那覇(国頭) 3 那覇(多野) 4 那覇(浜崎) 5 那覇(宮良)
[6] ●印の⑥に位置する海上保安庁の無線航行陸上局(ディファレンシャルGPSによるもの)の名称	1 大浜 2 酒田 3 尻屋崎 4 剣崎 5 金華山
[7] ●印の⑦に位置する海上保安庁の無線航行陸上局(ディファレンシャルGPSによるもの)の名称	1 大瀬崎 2 室戸岬 3 瀬戸 4 慶佐次 5 若宮
[8] ●印の⑧に位置する開港名	1 直江津 2 七尾 3 両津 4 伏木富山 5 新潟
[9] ⑨の半島名	1 東松浦半島 2 若松半島 3 丹後半島 4 企救半島 5 野間半島
[10] ⑩の水道名	1 紀伊水道 2 中之島水道 3 諏訪瀬水道 4 豊後水道 5 友ヶ島水道

問Ⅱ 下図により、下表の左欄の事項のそれぞれに該当するものの名称を右欄の語群から一つ選び、その番号で答えよ。



事 項	語 群		
[11] ● 印の①に位置する公衆通信業務を取り扱う海岸局の名称	1 Arkona Radio 4 Olpenitz Radio	2 Borkum Radio 5 Rogaland Radio	3 Flensburg Radio
[12] ● 印の②に位置する公衆通信業務を取り扱う海岸局の名称	1 Oostende Radio 4 Bilbao Radio	2 Lyngby Radio 5 Tenerife Radio	3 Coruna Radio
[13] ● 印の③に位置するナブテックスで海上安全情報を送信する海岸局の名称	1 Pinneberg 4 Grimeton	2 Malin Head 5 Bodo Radio	3 Tallinn
[14] ● 印の④に位置するナブテックスで海上安全情報を送信する海岸局の名称	1 Portpatrick 4 Ouessant	2 Niton 5 Reykjavik Radio	3 Cullercoats
[15] ● 印の⑤に位置するナブテックスで海上安全情報を送信する海岸局の名称	1 Kerch 4 Cross Corsen	2 Cross La Garde 5 Netherlands Coast Guard Radio	3 Valentia
[16] ● 印の⑥に位置する我が国の船舶の寄港地の名称	1 Helsinki 4 Hamburg	2 Oslo 5 Stockholm	3 Sanktpeterburg
[17] ● 印の⑦に位置する我が国の船舶の寄港地の名称	1 Antwerpen 4 Southampton	2 Dublin 5 Liverpool	3 Copenhagen
[18] ⑧の島名	1 Gotland 4 Greenland	2 Ireland 5 Mainland	3 Iceland
[19] ⑨の半島名	1 Jylland 3 Cornwall 5 Kintyre	2 Cotentin 4 Bretagne	
[20] ⑩の海峡名	1 Little Minch 3 Skagerrak 5 North Ch.	2 Dardanelles 4 Bristol Ch.	

問Ⅲ 下図により、下表の左欄の事項のそれぞれに該当するものの名称を右欄の語群から一つ選び、その番号で答えよ。



注 内陸部の破線は国境を示す。

事 項	語 群				
[21] ●印の①に位置する公衆通信業務を取り扱う海岸局の名称	1 Alger Radio	2 Alexandria Radio	3 Benghazi Radio	4 Port Sudan Radio	5 Essaouira Radio
[22] ●印の②に位置する公衆通信業務を取り扱う海岸局の名称	1 Kosseir Radio	2 Malta Radio	3 Seychelles Radio	4 Las Palmas Radio	5 Casablanca Radio
[23] ●印の③に位置するナブテックスで海上安全情報を送信する海岸局の名称	1 Horta Radio	2 Trieste	3 Monsanto Radio	4 Tarifa	5 Serapeum(Ismailia)
[24] ●印の④に位置するナブテックスで海上安全情報を送信する海岸局の名称	1 Cape Town Radio	2 Limons	3 Durban Radio	4 Paita	5 Walvis Bay
[25] ●印の⑤に位置するナブテックスで海上安全情報を送信する海岸局の名称	1 Dakar	2 Talcahuano	3 La Paloma	4 Samsun	5 Port Elizabeth Radio
[26] ●印の⑥に位置する我が国の船舶の寄港地の名称	1 Bejaia	2 Freetown	3 Oran	4 Monrovia	5 Tripoli
[27] ●印の⑦に位置する我が国の船舶の寄港地の名称	1 Djibouti	2 Lagos	3 Mombasa	4 Mogadishu	5 Maputo
[28] ⑧の湾名	1 Gulf of Carpentaria	2 Gulf of Guinea	3 Gulf of Riga	4 Gulf of Kachchh	5 Gulf of Khambhat
[29] ⑨の国名	1 Republic of Madagascar	2 Republic of Zambia	3 The Republic of the Sudan	4 United Republic of Tanzania	5 Democratic Republic of the Congo
[30] ⑩の海峡名	1 N.E. Providence Ch.	2 M Clintock Ch.	3 Foxe Ch.	4 Mozambique Ch.	5 St. George's Ch.

問IV 次の問いに答えよ。

1 次表のA群のそれぞれの都市は、我が国の船舶の寄港地であるが、それぞれの所属国名をB群から一つ選び、その番号で答えよ。

A 群	B 群
[31] Davao	1 Kingdom of Cambodia 2 Kingdom of Thailand 3 Republic of the Union of Myanmar 4 Republic of the Philippines 5 Socialist Republic of Viet Nam
[32] Kota Kinabalu	1 Brunei Darussalam 2 Malaysia 3 Islamic Republic of Pakistan 4 Republic of Indonesia 5 Independent State of Papua New Guinea
[33] Doha	1 Kingdom of Saudi Arabia 2 State of Qatar 3 Islamic Republic of Pakistan 4 Sultanate of Oman 5 Republic of Iraq
[34] Charleston	1 Republic of Cuba 2 United Mexican State 3 Republic of Nicaragua 4 United States of America 5 Bolivarian Republic of Venezuela
[35] Darwin	1 New Zealand 2 Ireland 3 Australia 4 Canada 5 United Kingdom of Great Britain and Northern Ireland

2 次表の左欄のそれぞれの事項に該当するものの名称を右欄の語群から一つ選び、その番号で答えよ。

事 項	語 群
[36] 中国の東北地区、遼寧省の港湾都市。 遼東半島の南部に位置し、黄海に臨むこの地区最大の港があり、シベリア鉄道に接続する鉄道の拠点でもある。造船、鉄鋼などの重工業が発達している。	1 Dalian (大連) 2 Haikou (海口) 3 Qingdao (青島) 4 Shanghai (上海) 5 Hong Kong (香港)
[37] フィリピンの北部、同国第一の面積の島。 海岸線が複雑でマニラ、サンフェルナンドなどの良港が多く分布し、これらの港からはバナナ、麻などが輸出されている。	1 Cebu 2 Luzon 3 Leyte 4 Samar 5 Mindanao
[38] オーストラリアとニュージーランドとの間の海。 北は珊瑚海、南西はインド洋に接し、シドニーやメルボルンなどの港と我が国とを結ぶ船舶の航路がある。	1 Coral Sea 2 Timor Sea 3 Celebes Sea 4 Tasman Sea 5 Arafura Sea
[39] 南アメリカ南西部の共和国。 北はペルー、東はアルゼンチンに接し、西は太平洋に面している。 銅、鉄、硝石などの天然資源を多く産出し、これらはイキケ、アントファガスタなどの港から輸出されている。	1 Republic of Chile 2 Republic of Peru 3 Republic of Bolivia 4 Argentine Republic 5 Oriental Republic of Uruguay
[40] エジプト北東部、紅海に向かって突き出た半島。 半島の東はアカバ湾に、西はスエズ湾に面し、スエズ湾は運河により地中海と繋がっている。	1 Istra 2 Sinai 3 Karapasia 4 Peloponissos 5 Arnhem Land