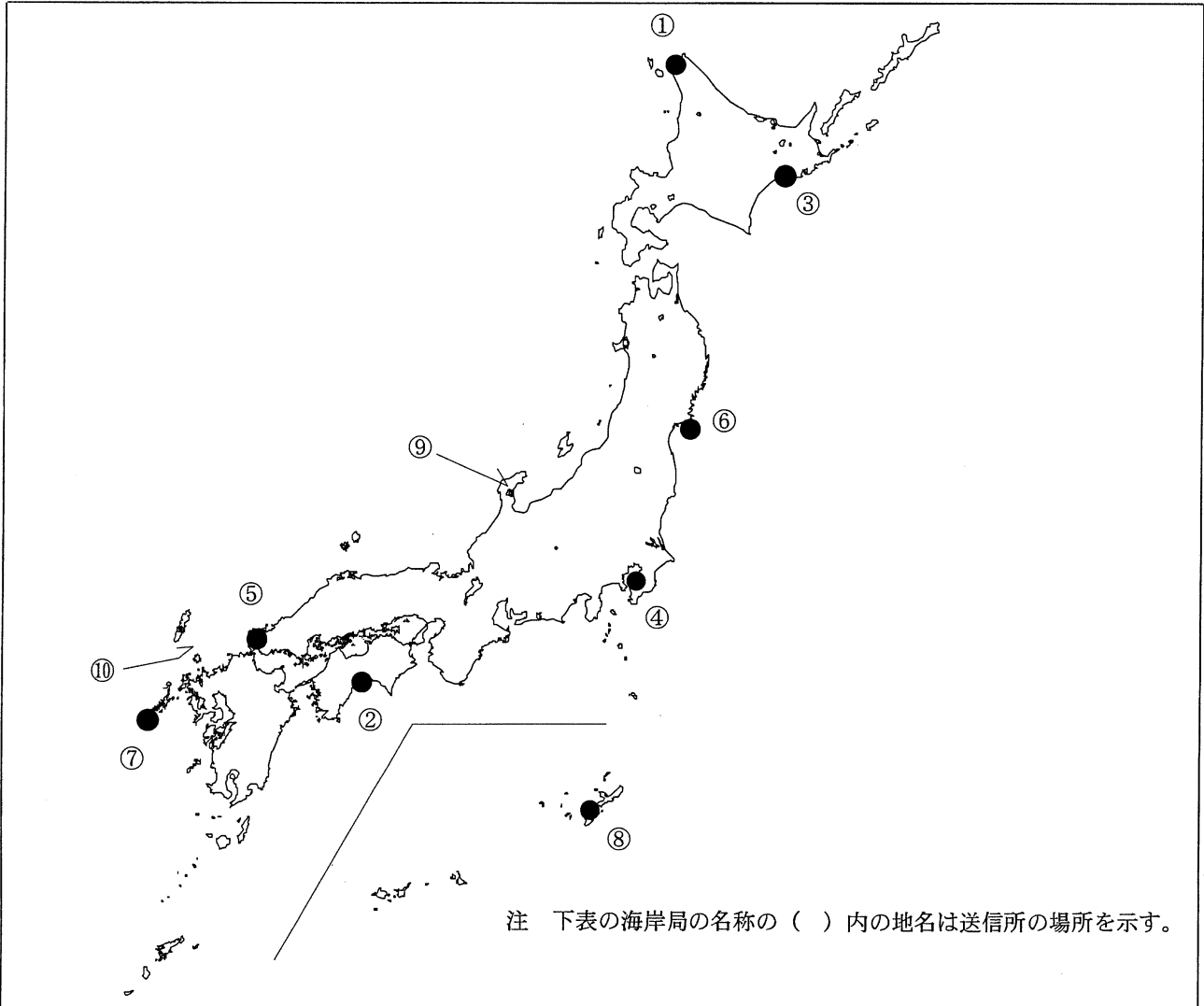


第一級総合無線通信士「地理」試験問題

40問 1時間

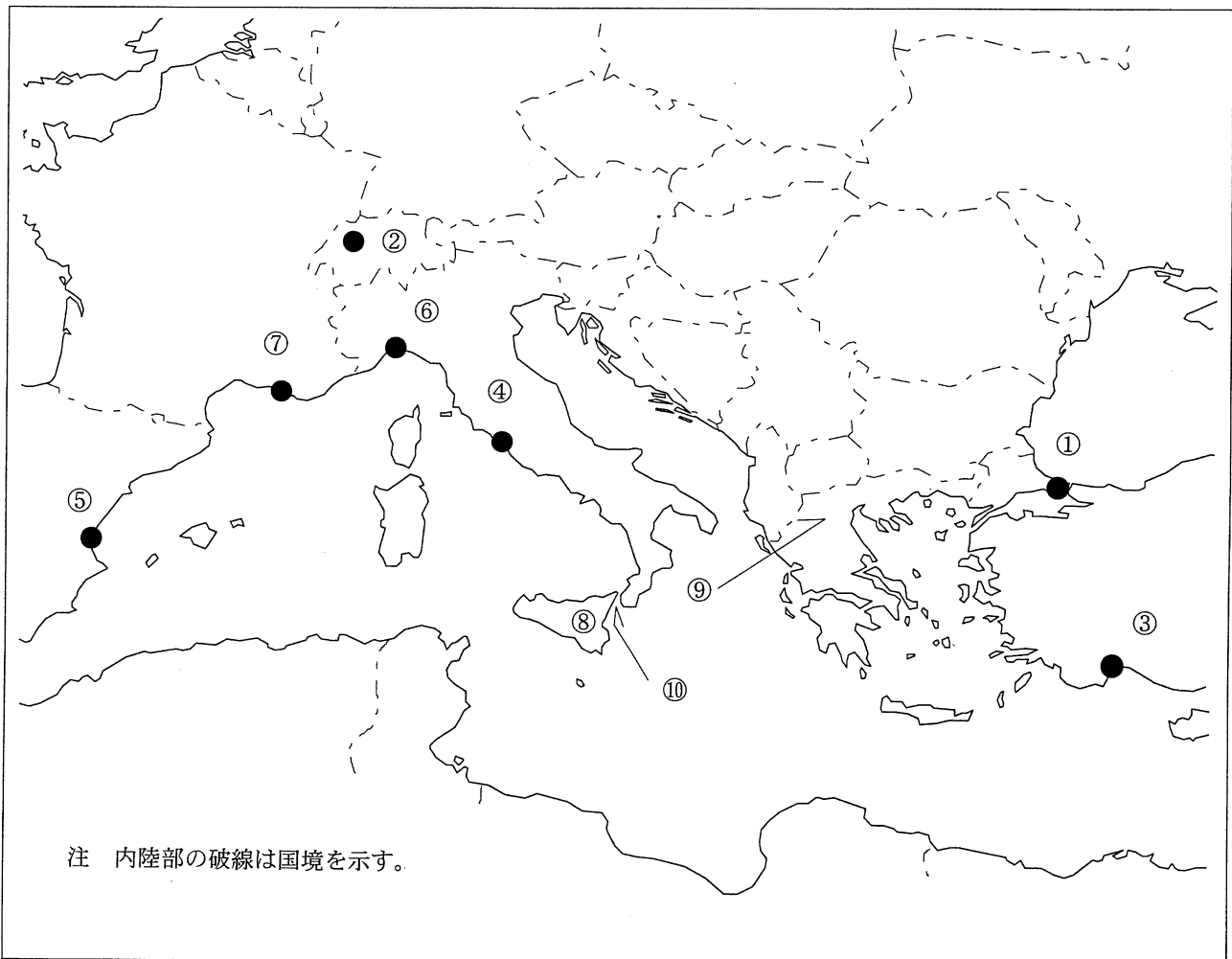
問I 下図により、下表の左欄の事項のそれぞれに該当するものの名称を右欄の語群から一つ選び、その番号で答えよ。



注 下表の海岸局の名称の（ ）内の地名は送信所の場所を示す。

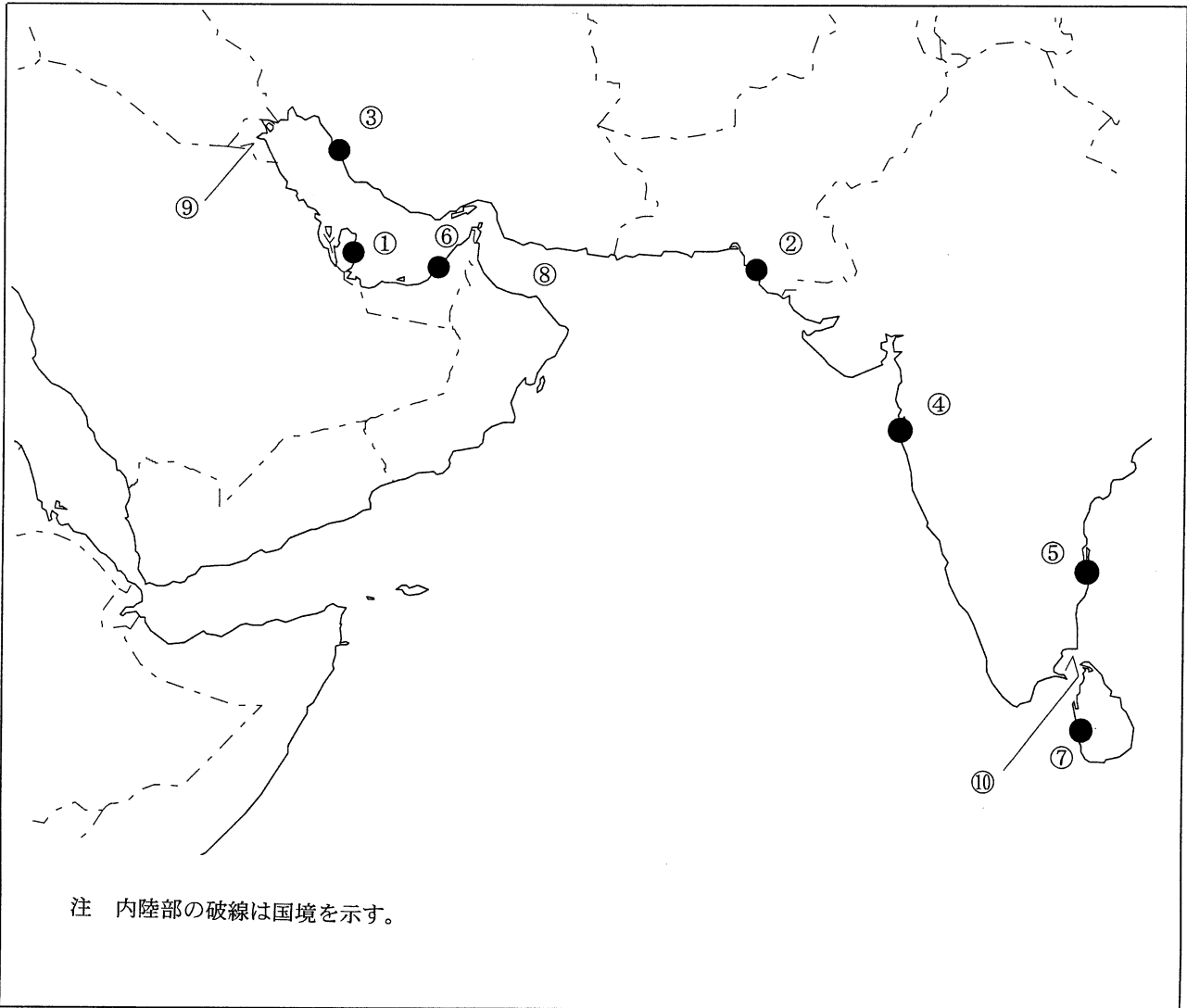
事 項	語 群		
[1] ●印の①に位置する海上保安庁の海岸局の名称	1 小樽 (昆布森)	2 小樽 (大野)	3 小樽 (赤岩)
	4 小樽 (萩ヶ岡)	5 小樽 (羅臼)	
[2] ●印の②に位置する海上保安庁の海岸局の名称	1 神戸 (津名)	2 神戸 (田辺)	3 神戸 (高知)
	4 神戸 (那智)	5 神戸 (明神山)	
[3] ●印の③に位置するナブテックスで海上安全情報を送信する海上保安庁の海岸局の名称	1 小樽 (別当賀)	2 小樽 (紋別山)	3 小樽 (千望台)
	4 小樽 (上厚内)	5 小樽 (十町瀬)	
[4] ●印の④に位置するナブテックスで海上安全情報を送信する海上保安庁の海岸局の名称	1 横浜 (須崎)	2 横浜 (下田)	3 横浜 (白浜)
	4 横浜 (筑波)	5 横浜 (富津第2)	
[5] ●印の⑤に位置するナブテックスで海上安全情報を送信する海上保安庁の海岸局の名称	1 門司 (前原)	2 門司 (上県)	3 門司 (延行第2)
	4 広島 (野呂)	5 広島 (嘉納第1)	
[6] ●印の⑥に位置する海上保安庁の無線航行陸上局 (ディファレンシャルGPSによるもの)の名称	1 尻屋崎	2 酒田	3 劔崎
	4 金華山	5 松前	
[7] ●印の⑦に位置する海上保安庁の無線航行陸上局 (ディファレンシャルGPSによるもの)の名称	1 大浜	2 大瀬崎	3 大王崎
	4 江崎	5 若宮	
[8] ●印の⑧に位置する開港名	1 名瀬	2 喜入	3 細島
	4 那覇	5 平良	
[9] ⑨の半島名	1 丹後半島	2 能登半島	3 牡鹿半島
	4 亀田半島	5 男鹿半島	
[10] ⑩の海峡又は水道名	1 対馬海峡	2 釣島海峡	3 請島海峡
	4 壱岐水道	5 中之島水道	

問Ⅱ 下図により、下表の左欄の事項のそれぞれに該当するものの名称を右欄の語群から一つ選び、その番号で答えよ。



事 項	語 群		
[11] ●印の①に位置する公衆通信業務を取り扱う海岸局の名称	1 Akcabat Radio 4 Camlica Radio	2 Kayalidag Radio 5 Istanbul Turk Radio	3 Limnos Radio
[12] ●印の②に位置する公衆通信業務を取り扱う海岸局の名称	1 Bern Radio 4 Elbe-Weser Radio	2 Bremen Radio 5 Rostock Radio	3 Crotone Radio
[13] ●印の③に位置するナブテックスで海上安全情報を送信する海岸局の名称	1 Bordj-El-Kiffan 4 Izmir	2 Iraklio 5 Antalya	3 Ouessant
[14] ●印の④に位置するナブテックスで海上安全情報を送信する海岸局の名称	1 Kerkyra 4 Roma	2 Malta 5 Split (Hvar Island)	3 Tarifa
[15] ●印の⑤に位置するナブテックスで海上安全情報を送信する海岸局の名称	1 Las Palmas 4 Haifa	2 Cagliari 5 Cabo de la Nao (Valencia)	3 Valentia
[16] ●印の⑥に位置する我が国の船舶の寄港地の名称	1 Dubrovnik 4 Trieste	2 Genova 5 Venezia	3 Napoli
[17] ●印の⑦に位置する我が国の船舶の寄港地の名称	1 Barcelona 4 Palermo	2 Lisbon 5 Valletta	3 Marseille
[18] ⑧の島名	1 Corse 4 Sardegna	2 Kriti 5 Sicilia	3 Mallorca
[19] ⑨の半島名	1 Balkan Pen. 3 Bretagne 5 Cotentin	2 Iberian Pen. 4 Istra	
[20] ⑩の海峡名	1 Str. of Gibraltar 3 Str. of Messina 5 Dardanelles	2 Str. of Otranto 4 Bosphorus	

問Ⅲ 下図により、下表の左欄の事項のそれぞれに該当するものの名称を右欄の語群から一つ選び、その番号で答えよ。



事 項	語 群		
[21] ●印の①に位置する公衆通信業務を取り扱う海岸局の名称	1 Salalah Radio 4 Djibouti Radio	2 Tiyaab Radio 5 Fahal Control Radio	3 Doha Radio
[22] ●印の②に位置する公衆通信業務を取り扱う海岸局の名称	1 Abomusa Radio 4 Karachi Radio	2 Siri Radio 5 AlAshkara Radio	3 Queshm Radio
[23] ●印の③に位置するナブテックスで海上安全情報を送信する海岸局の名称	1 Muscat 4 Bushehr	2 Kosseir 5 Bandare Abbas	3 Jeddah
[24] ●印の④に位置するナブテックスで海上安全情報を送信する海岸局の名称	1 Abadan Radio 4 Walvis Bay	2 Fereydoon Kenar 5 Hamala	3 Mumbai
[25] ●印の⑤に位置するナブテックスで海上安全情報を送信する海岸局の名称	1 Cagliari 4 Douala	2 Chennai 5 Limnos	3 Cullercoats
[26] ●印の⑥に位置する我が国の船舶の寄港地の名称	1 Abu Dhabi 4 Sfax	2 Aqaba 5 Mocha	3 Aden
[27] ●印の⑦に位置する我が国の船舶の寄港地の名称	1 Trincomalee 4 Goa	2 Jaffna 5 Kolkata (Calcutta)	3 Colombo
[28] ⑧の湾名	1 Persian Gulf 4 Gulf of Martaban	2 Gulf of Khambat 5 Gulf of Kachchh	3 Gulf of Oman
[29] ⑨の国名	1 Republic of Yemen 3 Kingdom of Saudi Arabia 5 State of Kuwait	2 State of Eritrea 4 United Arab Emirates	
[30] ⑩の海峡名	1 Bohol Str. 3 Palk Str. 5 Surigao Str.	2 Torres Str. 4 Polillo Str.	

問Ⅳ 次の問いに答えよ。

1 次表のA群のそれぞれの都市は、我が国の船舶の寄港地であるが、それぞれの所属国名をB群から一つ選び、その番号で答えよ。

A 群	B 群
[31] Hai Phong	1 Kingdom of Cambodia      2 Kingdom of Thailand 3 Republic of the Union of Myanmar      4 Republic of the Philippines 5 Socialist Republic of Viet Nam
[32] Sandakan	1 Brunei Darussalam      2 Republic of Indonesia 3 Islamic Republic of Pakistan      4 Malaysia 5 Independent State of Papua New Guinea
[33] Durban	1 Republic of Kenya      2 Republic of South Africa 3 United Republic of Tanzania      4 The Republic of the Sudan 5 Libya
[34] Rotterdam	1 Kingdom of Denmark      2 Kingdom of Norway 3 Kingdom of Sweden      4 Republic of Finland 5 Kingdom of the Netherlands
[35] Adelaide	1 New Zealand      2 Ireland 3 Canada      4 Australia 5 United Kingdom of Great Britain and Northern Ireland

2 次表の左欄のそれぞれの事項に該当するものの名称を右欄の語群から一つ選び、その番号で答えよ。

事 項	語 群
[36] 中国、華東地区北部の中央直轄都市。 長江デルタに位置する港湾・商業都市であり、内港と外港の二つからなる港は、世界最大級の港の一つである。 造船業が発達し、大学や専門学校などの教育機関も多い。	1 Qingdao (青島) 2 Shanghai (上海) 3 Hong Kong (香港) 4 Haikou (海口) 5 Dalian (大連)
[37] フィリピンの南部に位置し、同国第二の面積の島。 島の南部にダバオ、西部にサンボアングなどの良港を擁し、これらの港からは木材、バナナなどが輸出されている。	1 Cebu 2 Luzon 3 Mindanao 4 Panay 5 Samar
[38] ニュージーランドの北島と南島との間の海峡。 海峡に面した北島の南部には港湾都市で、首都でもあるウエリントンがある。 この海峡はオーストラリアと南アメリカとを結ぶ船舶の航路上重要な位置を占めている。	1 Banks Str. 2 Bass Str. 3 Cook Str. 4 Foveaux Str. 5 Investigator Str.
[39] 中央アメリカ南部の共和国。 東はコロンビア、西はコスタリカと国境を接し、太平洋とカリブ海とを結ぶ運河がある。 リベリアなどと並び世界有数の船舶の置籍国でもある。	1 United Mexican States 2 Republic of Panama 3 Republic of El Salvador 4 Republic of Nicaragua 5 Republic of Guatemala
[40] スカンジナビア半島とヨーロッパ大陸に囲まれた海。 カテガット海峡とスカゲラック海峡を通じて北海とつながり、また、ヘルシンキやストックホルムなど北欧の港から大西洋へ向かう船舶の航路がある。	1 Adriatic Sea 2 Baltic Sea 3 Barents Sea 4 Black Sea 5 Caspian Sea