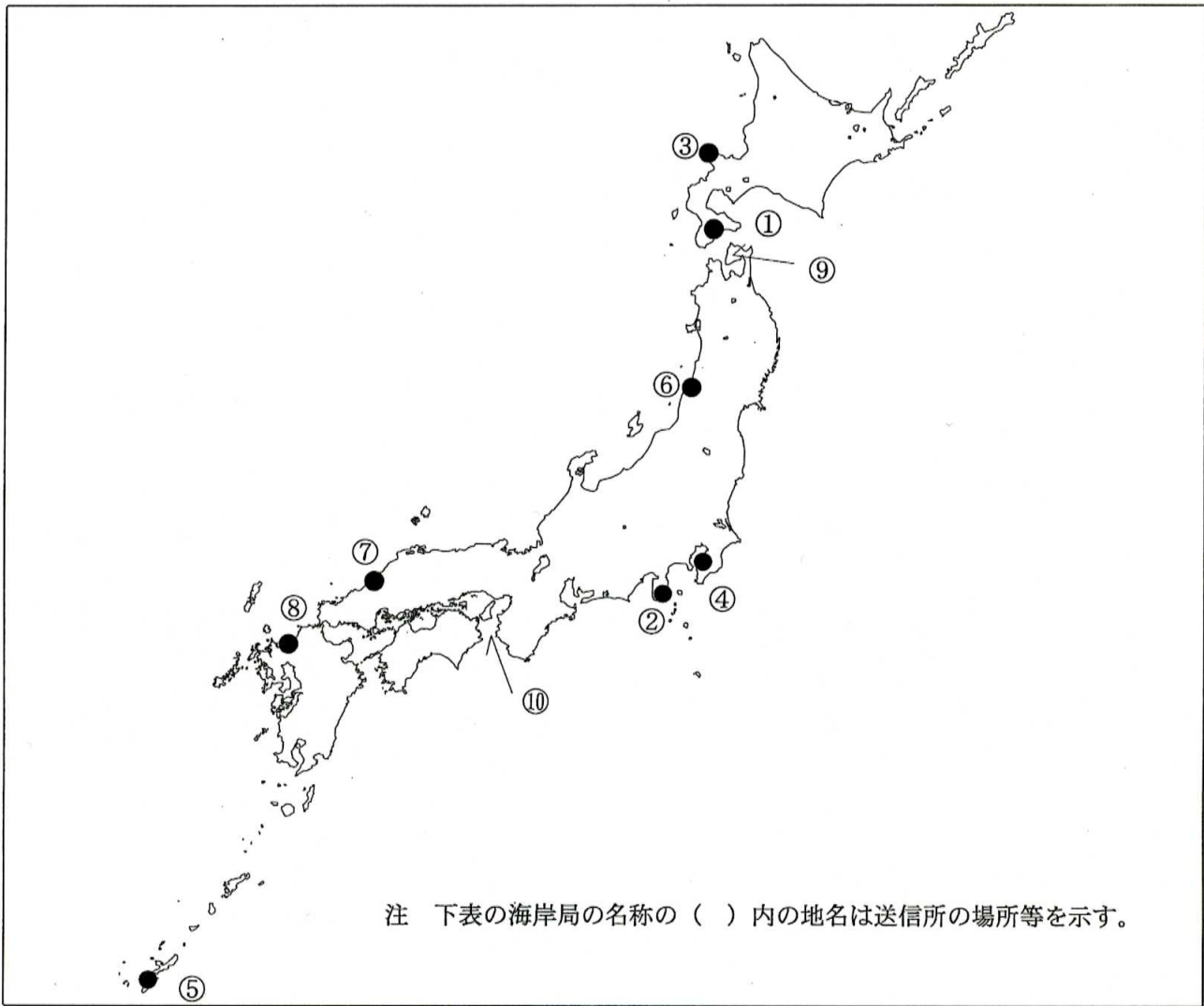


第一級総合無線通信士「地理」試験問題

40問 1時間

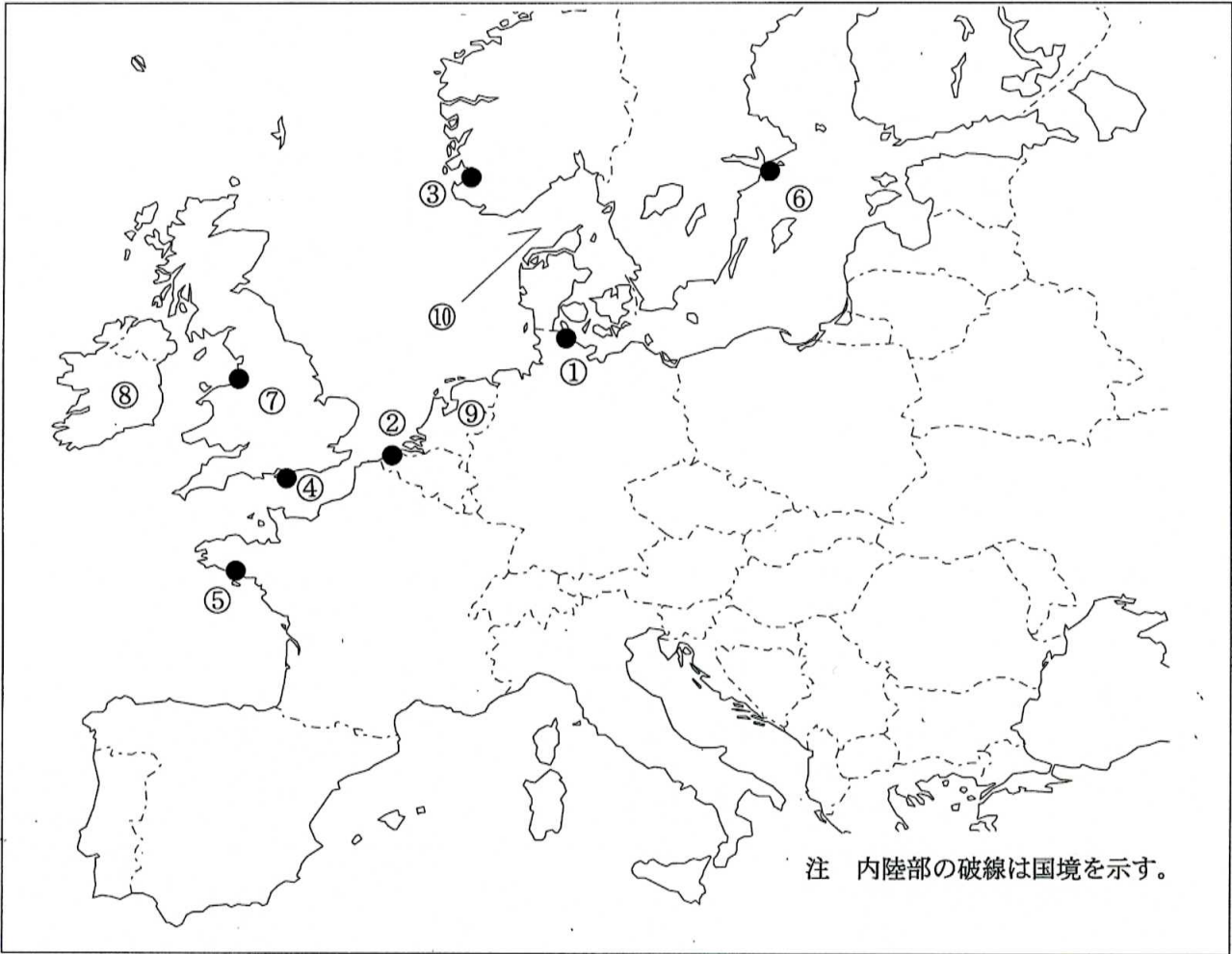
問I 下図により、下表の左欄の事項のそれぞれに該当するものの名称を右欄の語群から一つ選び、その番号で答えよ。



注 下表の海岸局の名称の（ ）内の地名は送信所の場所等を示す。

事 項	語 群		
[1] ●印の①に位置する海上保安庁の海岸局の名称	1 小樽 (積丹)	2 小樽 (羅臼)	3 小樽 (大野)
[2] ●印の②に位置する海上保安庁の海岸局の名称	1 横浜 (銚子)	2 横浜 (白浜)	3 横浜 (下田)
[3] ●印の③に位置するナブテックスで海上安全情報を送信する海上保安庁の海岸局の名称	1 小樽 (十町瀬)	2 小樽 (積丹第2)	3 小樽 (稲穂)
[4] ●印の④に位置するナブテックスで海上安全情報を送信する海上保安庁の海岸局の名称	1 横浜 (富津第2)	2 横浜 (山原)	3 横浜 (須崎)
[5] ●印の⑤に位置するナブテックスで海上安全情報を送信する海上保安庁の海岸局の名称	1 那覇 (宮良)	2 那覇 (喜屋武)	3 鹿児島 (大浦)
[6] ●印の⑥に位置する海上保安庁の無線航行陸上局 (ディファレンシャルGPSによるもの)の名称	1 大瀬崎	2 金華山	3 酒田
[7] ●印の⑦に位置する海上保安庁の無線航行陸上局 (ディファレンシャルGPSによるもの)の名称	1 江崎	2 浜田	3 丹後
[8] ●印の⑧に位置する開港名	1 細島	2 三角	3 長崎
[9] ⑨の半島名	1 男鹿半島	2 牡鹿半島	3 亀田半島
[10] ⑩の海峡又は水道名	1 明石海峡	2 関門海峡	3 豊後水道
	4 壱岐水道	5 紀伊水道	

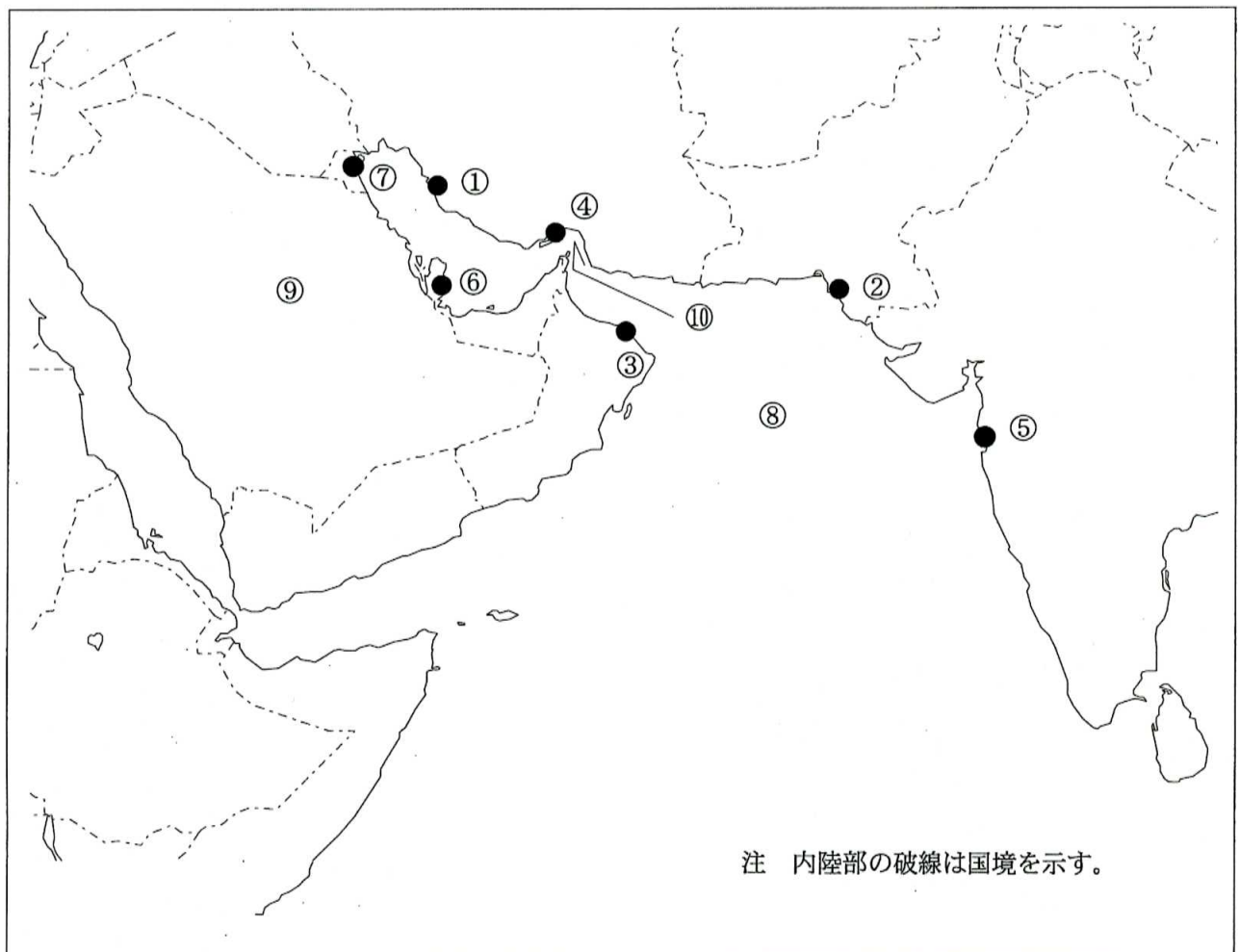
問II 下図により、下表の左欄の事項のそれぞれに該当するものの名称を右欄の語群から一つ選び、その番号で答えよ。



注 内陸部の破線は国境を示す。

事 項	語 群		
[11] ●印の①に位置する公衆通信業務を取り扱う海岸局の名称	1 Floro Radio 4 Turku Radio	2 Stockholm Radio 5 Kiel Mail Radio	3 Vardo Radio
[12] ●印の②に位置する公衆通信業務を取り扱う海岸局の名称	1 Lyngby Radio 4 Aasiaat Radio	2 Oostende Radio 5 Tjome Radio	3 Hamburg Radio
[13] ●印の③に位置するナブテックスで海上安全情報を送信する海岸局の名称	1 Torshavn 4 Horta Radio	2 Saudanes 5 Netherlands Coast Guard Radio	3 Rogaland Radio
[14] ●印の④に位置するナブテックスで海上安全情報を送信する海岸局の名称	1 Niton 4 Portpatrick	2 Tallinn 5 Valentia	3 Reykjavik
[15] ●印の⑤に位置するナブテックスで海上安全情報を送信する海岸局の名称	1 Tarifa 4 Malin Head	2 Cross Corsen 5 Arkhangelsk	3 Monsanto Radio
[16] ●印の⑥に位置する我が国の船舶の寄港地の名称	1 Copenhagen 4 Riga	2 Marseille 5 Amsterdam	3 Stockholm
[17] ●印の⑦に位置する我が国の船舶の寄港地の名称	1 Reykjavik 4 Portsmouth	2 Liverpool 5 Aberdeen	3 Southampton
[18] ⑧の島名	1 Iceland 4 Gotland	2 Jersey 5 Bornholm	3 Ireland
[19] ⑨の国名	1 Kingdom of Belgium 3 Kingdom of the Netherlands 5 Republic of Estonia	2 Kingdom of Denmark 4 Republic of Finland	
[20] ⑩の海峡名	1 Bristol Ch. 3 Skagerrak 5 Dardanelles	2 North Ch. 4 Bosporus	

問Ⅲ 下図により、下表の左欄の事項のそれぞれに該当するものの名称を右欄の語群から一つ選び、その番号で答えよ。



注 内陸部の破線は国境を示す。

事 項	語 群		
[21] ●印の①に位置する公衆通信業務を取り扱う海岸局の名称	1 Sajafi Radio 4 Bushehr Radio	2 Salalah Radio 5 Aqaba Port Control Radio	3 Khassab Radio
[22] ●印の②に位置する公衆通信業務を取り扱う海岸局の名称	1 Al Ashkara Radio 4 Fahal Control Radio	2 Karachi Radio 5 Damman Radio	3 Turkaman Radio
[23] ●印の③に位置するナブテックスで海上安全情報を送信する海岸局の名称	1 Muscat 4 Serapeum(Ismailia)	2 Hamala 5 Ushaia	3 Kosseir
[24] ●印の④に位置するナブテックスで海上安全情報を送信する海岸局の名称	1 Walvis Bay 4 Jeddah	2 Limnos 5 Fereydoonkenar	3 Bandar Abbas
[25] ●印の⑤に位置するナブテックスで海上安全情報を送信する海岸局の名称	1 Chennai 4 Bordj-El-kiffan	2 Mumbai 5 Jeddah	3 Mauritius
[26] ●印の⑥に位置する我が国の船舶の寄港地の名称	1 Aden 4 Abu Dahbi	2 Dubai 5 Kuwait	3 Doha
[27] ●印の⑦に位置する我が国の船舶の寄港地の名称	1 Aquaba 4 Jask	2 Al Wajh 5 Kuwait	3 Puri
[28] ⑧の海名	1 Arabian Sea 4 Red Sea	2 Caspian Sea 5 Mediterranean Sea	3 Black Sea
[29] ⑨の国名	1 Syrian Arab Republic 3 United Arab Emirates 5 Kingdom of Saudi Arabia	2 The Republic of The Sudan 4 Arab Republic of Egypt	
[30] ⑩の海峡名	1 Str. of Hormuz 3 Str. of Lombok 5 Park Str.	2 Str. of Messina 4 Str. of Gibraltar	

問IV 次の問いに答えよ。

1 次表のA群のそれぞれの都市は、我が国の船舶の寄港地であるが、それぞれの所属国名をB群から一つ選び、その番号で答えよ。

A 群	B 群	
[31] Davao	1 Republic of Palau 3 Republic of the Philippines 5 Socialist Republic of Viet Nam	2 Federated States of Micronesia 4 Republic of Singapore
[32] Makassar	1 Brunei Darussalam 3 Republic of Indonesia 5 Democratic Socialist Republic of Sri Lanka	2 India 4 Malaysia
[33] Port Moresby	1 Republic of Kiribati 3 Republic of the Marshal Islands 5 Independent State of Papua New Guinea	2 Republic of Nauru 4 Independent State of Samoa
[34] Auckland	1 Australia 3 Republic of the Fiji Islands 5 Republic of South Africa	2 New Zealand 4 Republic of Vanuatu
[35] Vancouver	1 Canada 3 Republic of Iceland 5 United Kingdom of Great Britain and Northern Ireland	2 India 4 United States of America

2 次表の左欄のそれぞれの事項に該当するものの名称を右欄の語群から一つ選び、その番号で答えよ。

事 項	語 群
[36] 中国、華東地区北部の中央直轄都市。 長江デルタに位置する港湾・商業都市であり、内港と外港の二つからなる港は、世界最大級の港の一つである。 鉄鋼、造船、電機、精密機械工業などが発達し、大学や高等専門学校などの教育機関も多い。	1 Hong Kong (香港) 2 Shanghai (上海) 3 Haikou (海口) 4 Fuchou (福州) 5 Macao (澳門)
[37] フィリピン北部の島。 海岸線が複雑でマニラやサンフェルナンドなど良港が多い。 島では米、砂糖キビ、ココナッツ、タバコ、マニラ麻などが栽培されている。	1 Mindanao 2 Palawan 3 Mindoro 4 Luzon 5 Leyte
[38] 南アメリカ大陸の南に位置するフエゴ島と南極大陸との間にあり、大西洋と太平洋とを結ぶ海峡。 フエゴ島は東半分がアルゼンチン領で、西半分がチリ領となっている。	1 Str. of Magellan 2 Str. of Malacca 3 Windward Pass. 4 Drake Pass. 5 Mona Pass.
[39] アフリカ大陸の南端に位置する国。 金、ダイヤモンド、ウラン、銅などの鉱産資源が豊富で、アフリカで有数の工業国でもある。 首都はプレトリアで、南西部に港湾都市ケープタウンがある。	1 United Republic of Tanzania 2 Federal Republic of Nigeria 3 Republic of South Africa 4 Republic of Angola 5 Republic of Kenya
[40] オーストラリア大陸の北東部に接する海。 北西はトレス海峡でアラフラ海と結び、北はニューギニア島に接し、海域の東にはソロモン諸島が、東南にはニューカレドニア島などの島々が広がる。	1 Mindanao Sea 2 Sibuyan Sea 3 Celebes Sea 4 Timor Sea 5 Coral Sea