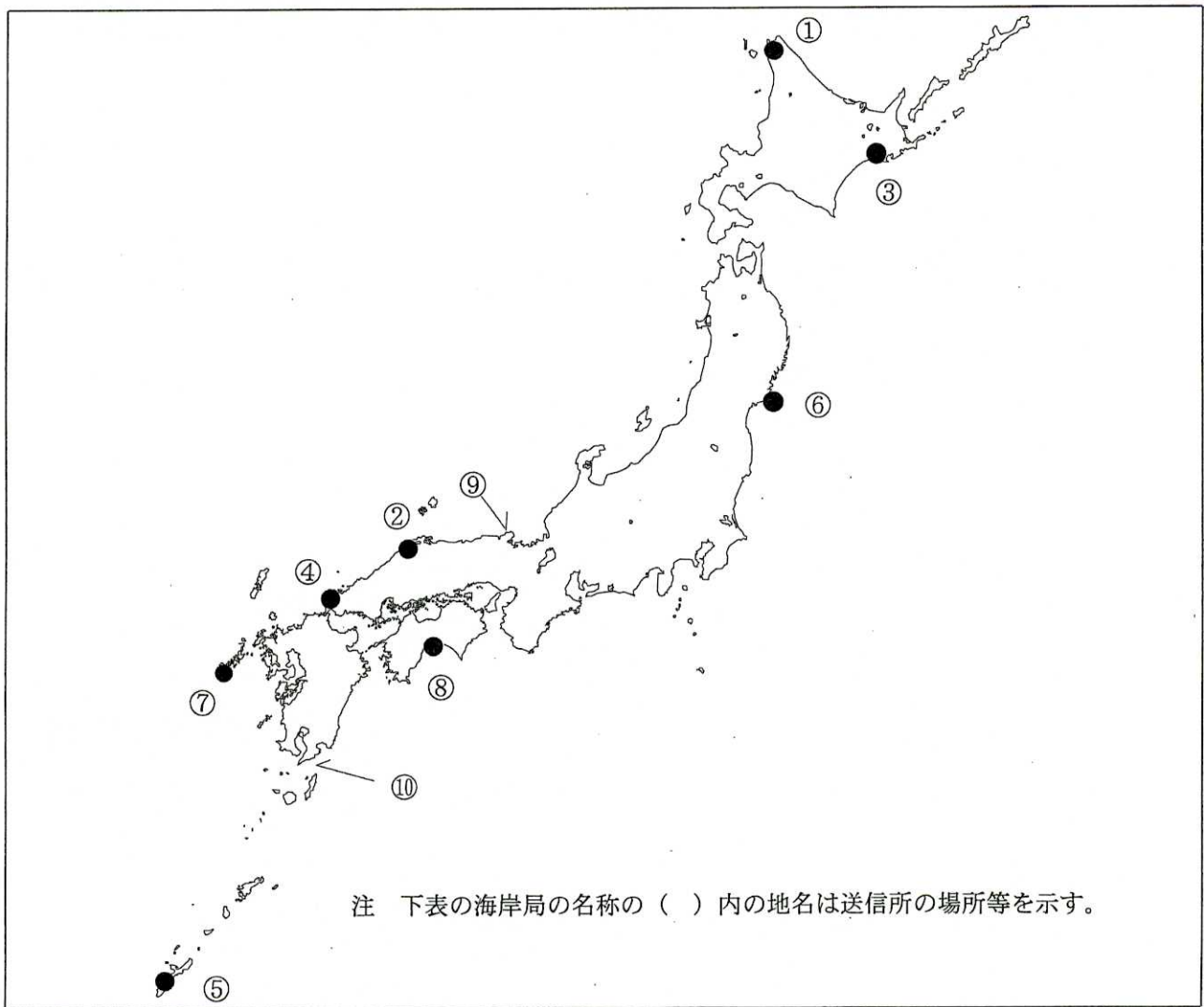


第一級総合無線通信士「地理」試験問題

40問 1時間

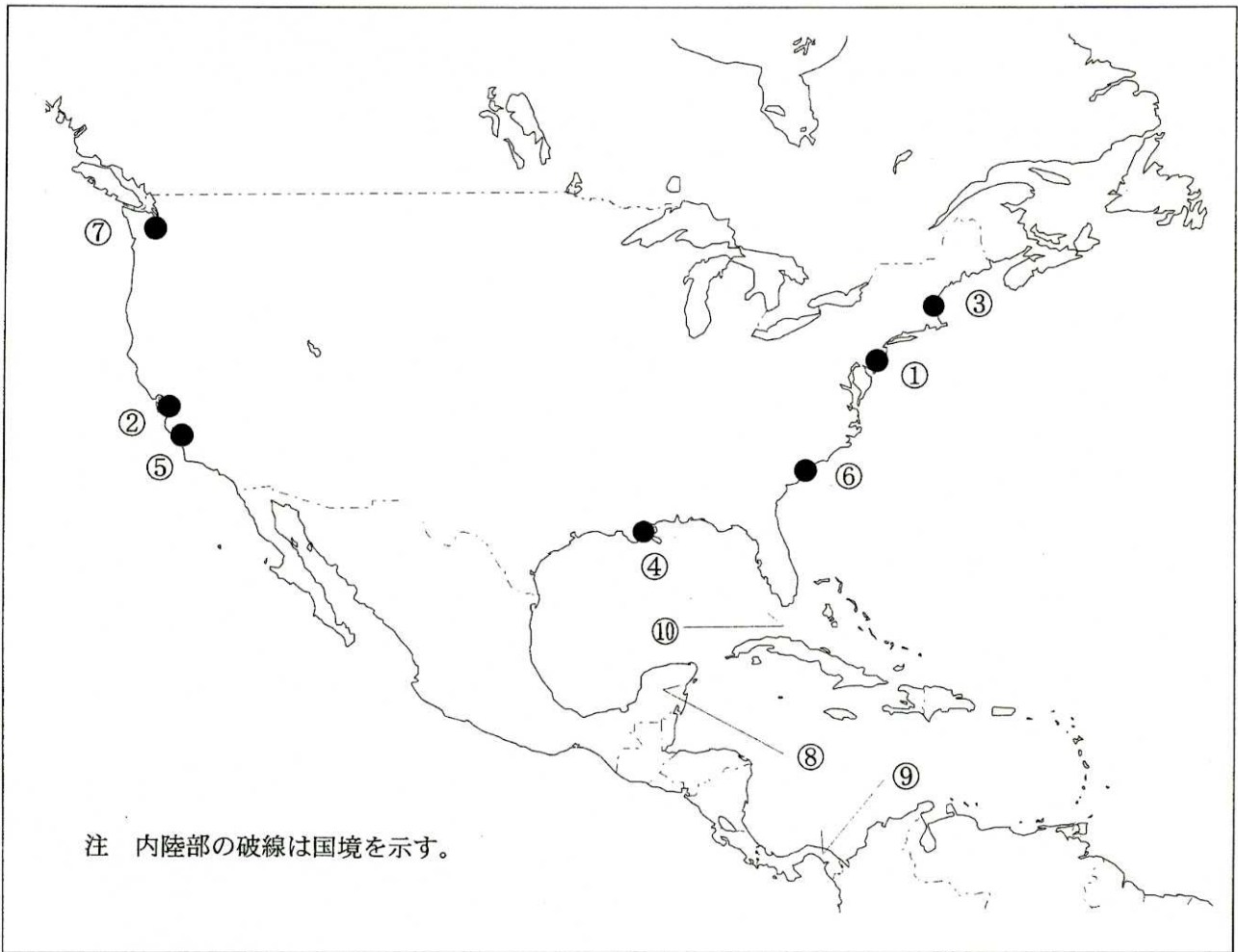
問I 下図により、下表の左欄の事項のそれぞれに該当するものの名称を右欄の語群から一つ選び、その番号で答えよ。



注 下表の海岸局の名称の（ ）内の地名は送信所の場所等を示す。

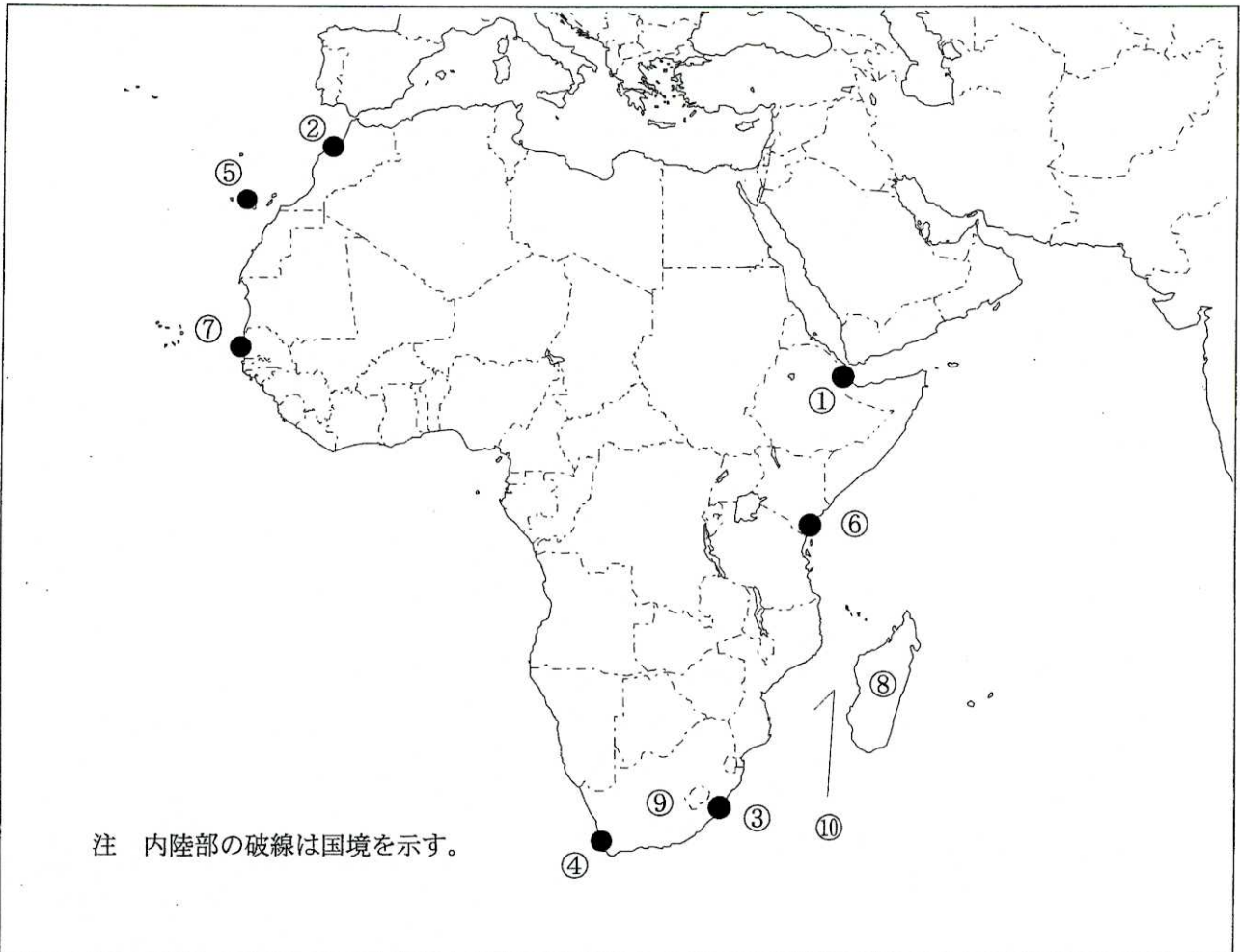
事 項	語 群		
[1] ●印の①に位置する海上保安庁の海岸局の名称	1 小樽 (大野)	2 小樽 (紋別山)	3 小樽 (積丹)
[2] ●印の②に位置する海上保安庁の海岸局の名称	1 舞鶴 (横尾)	2 舞鶴 (越前)	3 舞鶴 (枕木山)
[3] ●印の③に位置するナブテックスで海上安全情報を送信する海上保安庁の海岸局の名称	1 釧路 (十町瀬)	2 小樽 (西室蘭)	3 小樽 (羅臼)
[4] ●印の④に位置するナブテックスで海上安全情報を送信する海上保安庁の海岸局の名称	1 門司 (前原)	2 門司 (幸崎)	3 門司 (雲仙)
[5] ●印の⑤に位置するナブテックスで海上安全情報を送信する海上保安庁の海岸局の名称	1 鹿児島 (名瀬)	2 鹿児島 (中之島)	3 鹿児島 (朝戸)
[6] ●印の⑥に位置する海上保安庁の無線航行陸上局 (ディファレンシャルGPSによるもの)の名称	1 金華山	2 酒田	3 尻屋崎
[7] ●印の⑦に位置する海上保安庁の無線航行陸上局 (ディファレンシャルGPSによるもの)の名称	1 大浜	2 浜田	3 舩倉島
[8] ●印の⑧に位置する開港名	1 新居浜	2 徳島小松島	3 三島川之江
[9] ⑨の半島名	1 島根半島	2 丹後半島	3 能登半島
[10] ⑩の海峡名	1 大隅海峡	2 平箱海峡	3 対馬海峡

問Ⅱ 下図により、下表の左欄の事項のそれぞれに該当するものの名称を右欄の語群から一つ選び、その番号で答えよ。



事 項	語 群
[11] ● 印の①に位置する公衆通信業務を取り扱う海岸局の名称	1 Jeffersonville, Indiana Radio 2 Cork Radio 3 Wicklow Head Radio 4 Rogers City, Michigan Radio 5 Tuckerton, New Jersey Radio
[12] ● 印の②に位置する公衆通信業務を取り扱う海岸局の名称	1 Slidell, Louisiana Radio 2 Pajaritos Radio 3 Tors Cove Radio 4 Tortola Radio 5 S. Francisco, California Radio
[13] ● 印の③に位置するナブテックスで海上安全情報を送信する海岸局の名称	1 Boston 2 Labrador 3 Savannah 4 Saint John 5 Isabella
[14] ● 印の④に位置するナブテックスで海上安全情報を送信する海岸局の名称	1 Miami 2 Portsmouth 3 New Orleans 4 Yarmouth 5 Kodiak
[15] ● 印の⑤に位置するナブテックスで海上安全情報を送信する海岸局の名称	1 Astoria 2 Prince Rupert 3 Tofino 4 Bermuda 5 Cambria
[16] ● 印の⑥に位置する我が国の船舶の寄港地の名称	1 Anapolis 2 Boston 3 Charleston 4 Jacksonville 5 Milwaukee
[17] ● 印の⑦に位置する我が国の船舶の寄港地の名称	1 Eureka 2 Wilmington 3 San Diego 4 Seattle 5 Windsor
[18] ⑧の半島名	1 Florida Pen. 2 Nova Scotia Pen. 3 California Pen. 4 Yucatan Pen. 5 Pen. de la Guajira
[19] ⑨の国名	1 Jamaica 2 Republic of Panama 3 Republic of Cuba 4 Republic of Colombia 5 Bolivarian Republic of Venezuela
[20] ⑩の海峡名	1 Str. of Florida 2 Str. of Belle Isle 3 Str. of Georgia 4 Str. of Juan de Fuca 5 Hudson Str.

問Ⅲ 下図により、下表の左欄の事項のそれぞれに該当するものの名称を右欄の語群から一つ選び、その番号で答えよ。



注 内陸部の破線は国境を示す。

事 項	語 群		
[21] ● 印の①に位置する公衆通信業務を取り扱う海岸局の名称	1 Tanger Radio 4 Benghazi Radio	2 Douala Radio 5 Seychelles Radio	3 Djibouti Radio
[22] ● 印の②に位置する公衆通信業務を取り扱う海岸局の名称	1 Abidjan Radio 4 Grand Lahou Radio	2 Banana Radio 5 Madeira Radio	3 Casablanca Radio
[23] ● 印の③に位置するナブテックスで海上安全情報を送信する海岸局の名称	1 Durban Radio 4 Horta Radio	2 Walvis Bay 5 Mauritius Radio, Cassis	3 Kosseir
[24] ● 印の④に位置するナブテックスで海上安全情報を送信する海岸局の名称	1 Portpatrick 4 Cape Town Radio	2 Damman 5 Serapeum	3 Ribeira de Vinha
[25] ● 印の⑤に位置するナブテックスで海上安全情報を送信する海岸局の名称	1 Porto Santo 4 Port Elizabeth	2 Lattakia Radio 5 Las Palmas	3 Alexandria
[26] ● 印の⑥に位置する我が国の船舶の寄港地の名称	1 East London 4 Porto Novo	2 Maputo 5 Mogadishu	3 Mombasa
[27] ● 印の⑦に位置する我が国の船舶の寄港地の名称	1 Accra 4 Lagos	2 Dakar 5 Freetown	3 Monrovia
[28] ⑧の島名	1 Madagascar 4 Moroni	2 Pagalu 5 Principe	3 Santa Maria
[29] ⑨の国名	1 Republic of Kenya 2 Republic of South Africa 3 Islamic Republic of Mauritania 4 Republic of Cameroon 5 Federal Republic of Nigeria		
[30] ⑩の海峡名	1 Veimandu Ch. 2 Equatorial Ch. 3 Ten Degree Ch. 4 Mozambique Ch. 5 One and a Half Degree Ch.		

問IV 次の問いに答えよ。

1 次表のA群のそれぞれの都市は、我が国の船舶の寄港地であるが、それぞれの所属国名をB群から一つ選び、その番号で答えよ。

A 群	B 群	
[31] Davao	1 Republic of the Philippines 3 Republic of Indonesia 5 Federated States of Micronesia	2 Brunei Darussalam 4 Malaysia
[32] Haiphong	1 India 3 Kingdom of Thailand 5 Socialist Republic of Viet Nam	2 People's Republic of Bangladesh 4 Kingdom of Cambodia
[33] Amsterdam	1 Kingdom of Belgium 3 Kingdom of the Netherlands 5 United Kingdom of Great Britain and Northern Ireland	2 Federal Republic of Germany 4 Republic of Poland
[34] Antofagasta	1 Republic of Chile 3 Republic of Colombia 5 Federative Republic of Brazil	2 Republic of Ecuador 4 Republic of Suriname
[35] Port Moresby	1 Australia 3 Republic of the Fiji Islands 5 Independent State of Papua New Guinea	2 New Zealand 4 Republic of Indonesia

2 次表の左欄のそれぞれの事項に該当するものの名称を右欄の語群から一つ選び、その番号で答えよ。

事 項	語 群
[36] 韓国東南部に位置する貿易港。 海峡に臨む港は三方を山に囲まれ、出入り口の南方に島を控えて天然の良港となっている。 造船、機械、食品加工業などが発達し、魚介類の水揚げも多い。	1 Yeosu (麗水) 2 Pusan (釜山) 3 Ulsan (蔚山) 4 Mokpo (木浦) 5 Incheon (仁川)
[37] 中国の南部に位置し南シナ海に臨む島。 海峡を隔てて同国の雷州半島と相對し、北東部に海口の港がある。 熱帯・亜熱帯作物のゴム、ヤシ、サイザル麻、サトウキビなどの栽培が行われている。	1 Haitan Dao (海壇島) 2 Hainan Dao (海南島) 3 Nantian Dao (南田島) 4 Zhoushan Dao (舟山島) 5 Dongshan Dao (東山島)
[38] 南アメリカ大陸の南端とフエゴ島との間の大西洋と太平洋とを結ぶ狭長な海峡。 気候が冷涼で霧が多く、強風の吹く日も多いため、世界的に航海上の難所とされている。	1 Palk Str. 2 Hudson Str. 3 Str. of Georgia 4 Str. of Malacca 5 Str. of Magellan
[39] ヨーロッパ北西部の王国で首都はオスロ。 スカンジナビア半島の西半分を占め、海岸はフィヨルドが発達して複雑な海岸線を形成し、南部はスカゲラック海峡に面している。	1 Kingdom of Belgium 2 Kingdom of Norway 3 Kingdom of Denmark 4 Kingdom of the Netherlands 5 Grand Duchy of Luxemburg
[40] インドネシア、大スダ列島の北西部に位置する島。 マレー半島とはマラッカ海峡で隔てられ、ジャワ島とはスダ海峡で隔てられている。 熱帯雨林と湿地のために平地の開発は遅れているが、ボーキサイト、錫、鉄の鉱床や油田がある。	1 Lombok 2 Sulawesi 3 Sumatera 4 Sumbawa 5 Kalimantan (Borneo)