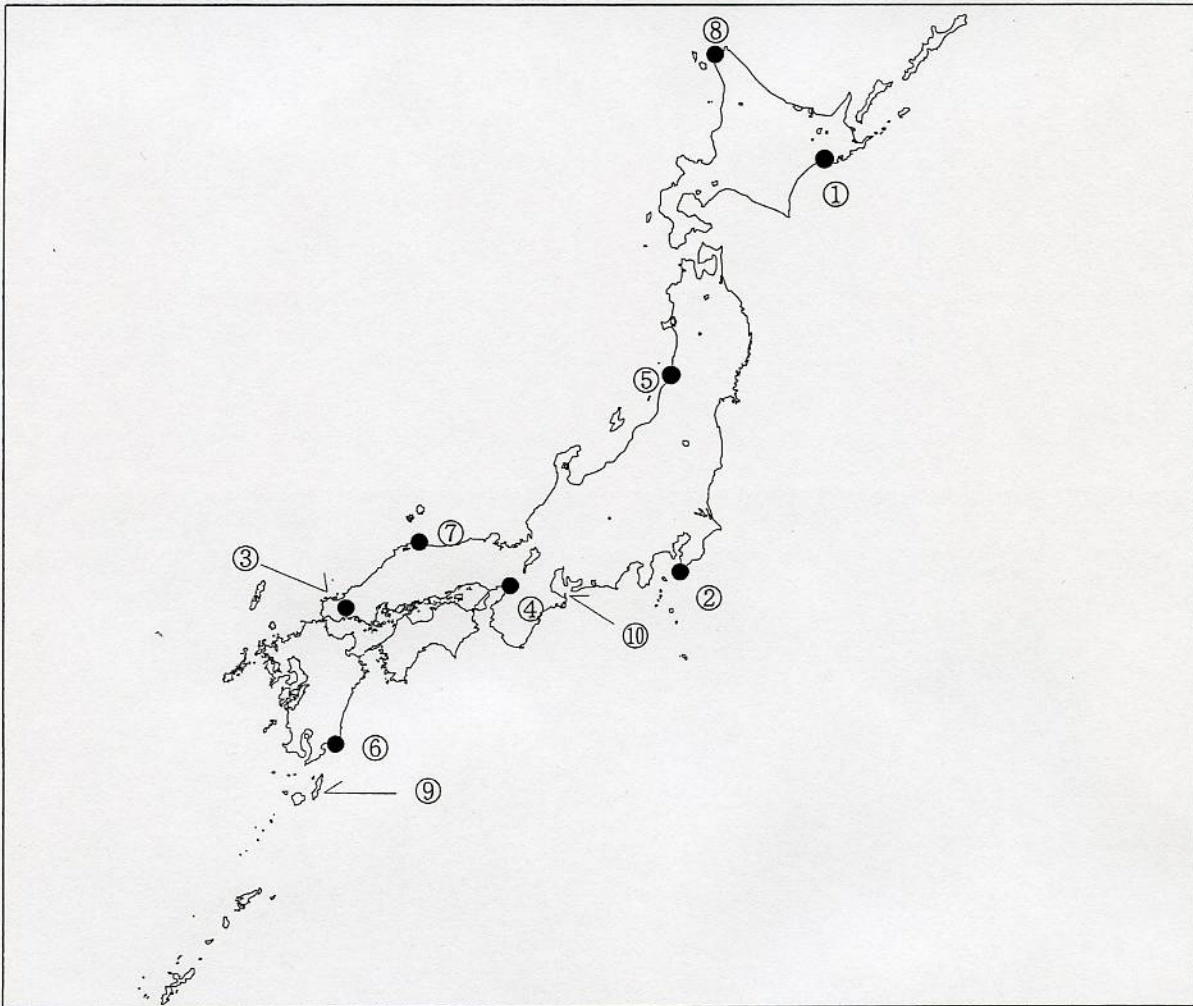


第一級総合無線通信士「地理」試験問題

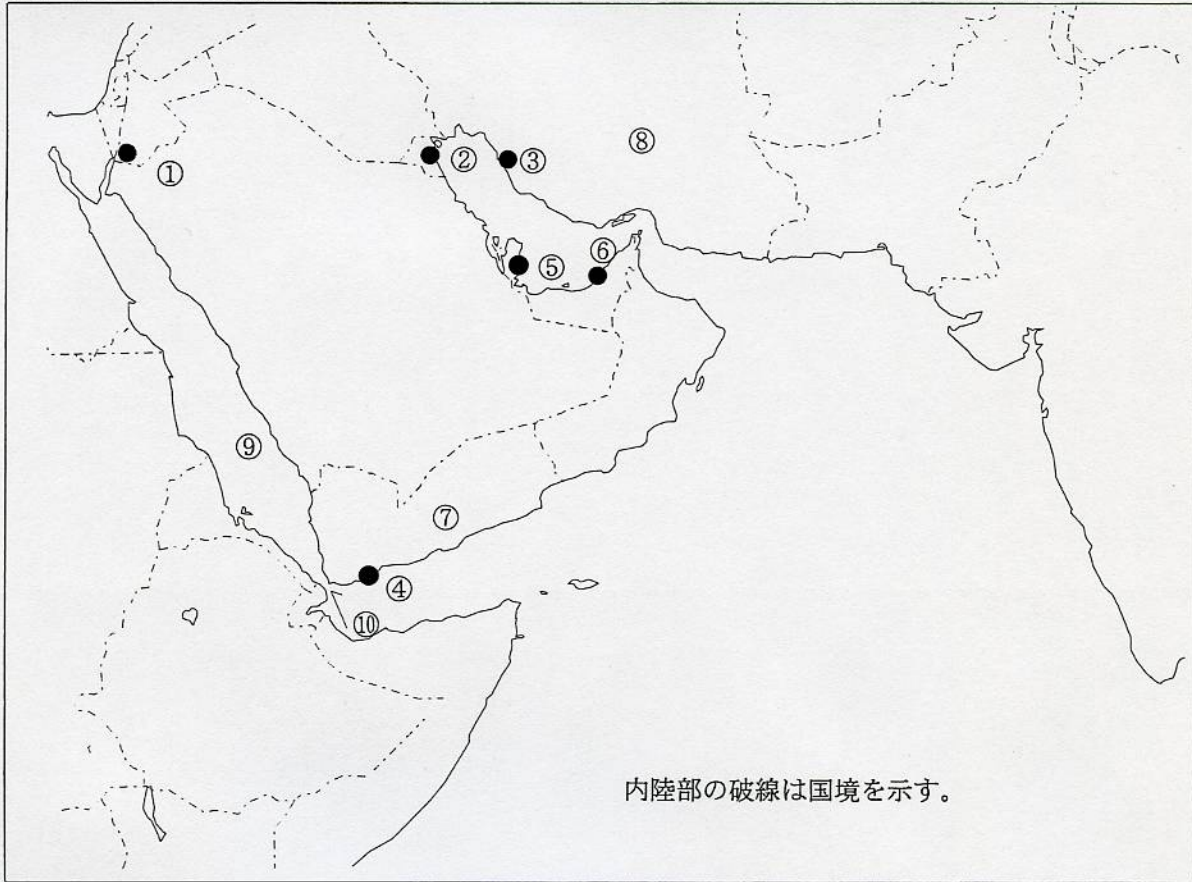
40問 1時間

問1 下図により、下表の左欄の事項のそれぞれに該当するものの名称を右欄の語群から一つ選び、その番号で答えよ。



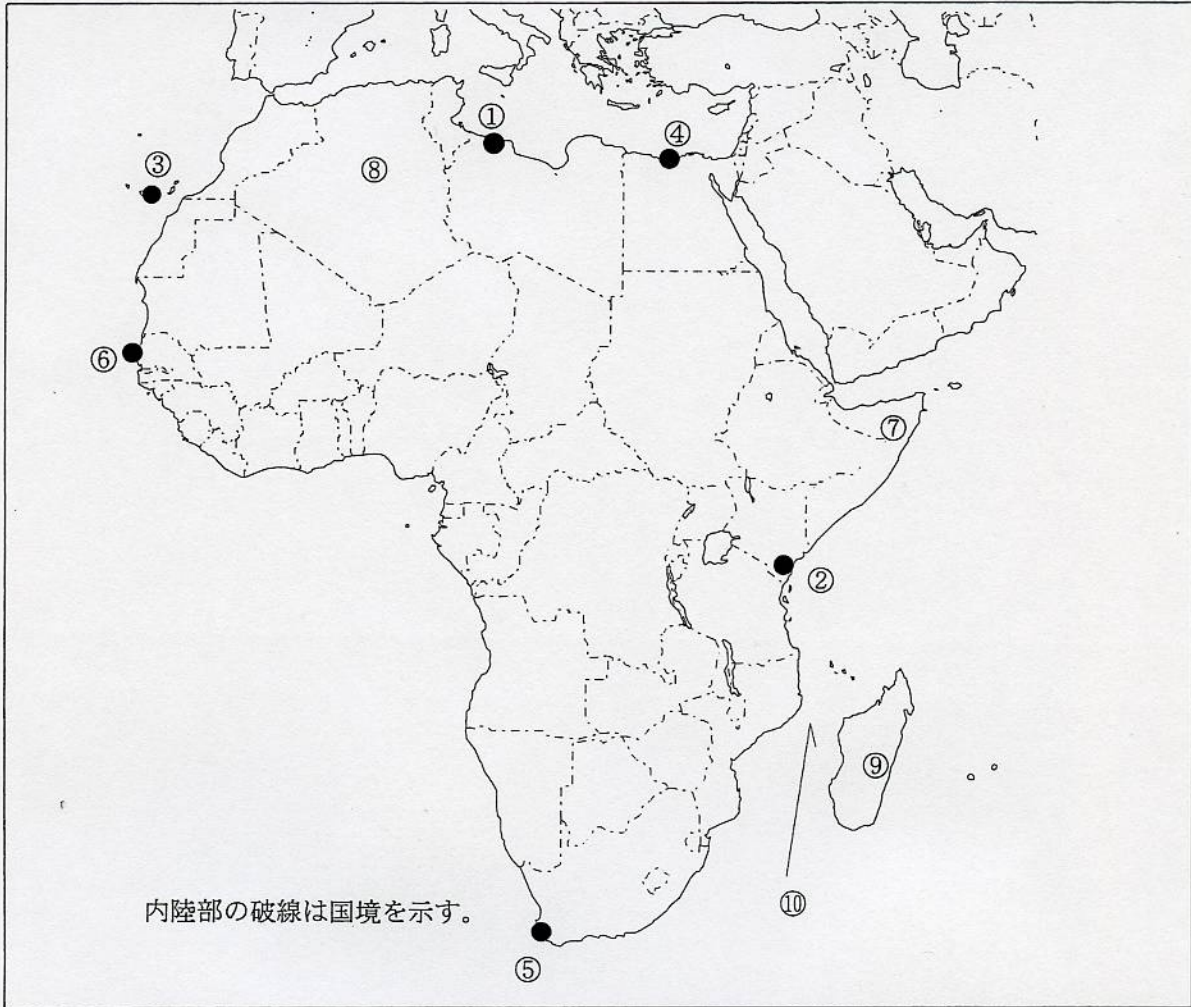
事 項	語 群
[1] ●印の①に位置する海上保安庁の海岸局の名称	1 小樽 (萩ヶ岡) 2 小樽 (積丹) 3 小樽 (大野) 4 小樽 (昆布森) 5 小樽 (紋別)
[2] ●印の②に位置する海上保安庁の海岸局の名称	1 横浜 (白浜) 2 横浜 (下田) 3 横浜 (筑波) 4 横浜 (銚子) 5 東京 (富津)
[3] ●印の③に位置する海岸地球局の名称	1 下関 2 萩 3 長門 4 浜田 5 山口
[4] ●印の④に位置する海上保安庁の無線航行陸上局 (レーダーによるもの) の名称	1 松原 2 江崎 3 大阪港 4 青ノ山 5 牧山
[5] ●印の⑤に位置する海上保安庁の無線航行陸上局 (ディファレンシャルGPSによるもの) の名称	1 酒田 2 金華山 3 丹後 4 大浜 5 若宮
[6] ●印の⑥に位置する海上保安庁の無線航行陸上局 (ディファレンシャルGPSによるもの) の名称	1 大王埼 2 大浜 3 瀬戸 4 室戸岬 5 都井岬
[7] ●印の⑦に位置する開港名	1 舞鶴 2 境 3 萩 4 徳山下松 5 敦賀
[8] ●印の⑧に位置する開港名	1 留萌 2 根室 3 紋別 4 稚内 5 苫小牧
[9] ⑨の島名	1 奄美大島 2 宮古島 3 種子島 4 福江島 5 石垣島
[10] ⑩の海峡又は水道名	1 伊良湖水道 2 豊後水道 3 友ヶ島水道 4 来島海峡 5 長島海峡

問Ⅱ 下図により、下表の左欄の事項のそれぞれに該当するものの名称を右欄の語群から一つ選び、その番号で答えよ。



事 項	語 群		
[11] ● 印の①に位置する公衆通信業務を取り扱う海岸局の名称	1 Aqaba Radio 4 Tabraka Radio	2 Basrah Control Radio 5 Neka Radio	3 Bahrain Radio
[12] ● 印の②に位置する公衆通信業務を取り扱う海岸局の名称	1 Aden Radio 4 Kuwait Radio	2 Port Sudan Radio 5 Kosseir Radio	3 Assab Radio
[13] ● 印の③に位置する公衆通信業務を取り扱う海岸局の名称	1 Chabahar Radio 4 Khomeini Radio	2 Al-Wasilyah Radio 5 Muscat Radio	3 Bushehr Radio
[14] ● 印の④に位置する我が国の船舶の寄港地の名称	1 Aden 4 Basrah	2 Muscat 5 Ras Tanura	3 Port Said
[15] ● 印の⑤に位置する我が国の船舶の寄港地の名称	1 Abu Dhabi 4 Abadan	2 Bushehr 5 Dubayy	3 Doha
[16] ● 印の⑥に位置する我が国の船舶の寄港地の名称	1 Abu Dhabi 4 Manama	2 Muscat 5 Karachi	3 Aden
[17] ⑦の国名	1 State of Qatar 3 State of Kuwait 5 Kingdom of Bahrain	2 Republic of Yemen 4 Hashemite Kingdom of Jordan	
[18] ⑧の国名	1 United Arab Emirates 3 Hashemite Kingdom of Jordan 5 Islamic Republic of Iran	2 Republic of Yemen 4 Sultanate of Oman	
[19] ⑨の海名	1 Red Sea 3 Yellow Sea 5 Mediterranean Sea	2 Black Sea 4 Ionian Sea	
[20] ⑩の海峡名	1 Strait of Otranto 3 Strait of Hormuz 5 Bab al Mandab (Mandab)	2 Palk Strait 4 Bosphorus	

問Ⅲ 下図により、下表の左欄の事項のそれぞれに該当するものの名称を右欄の語群から一つ選び、その番号で答えよ。



事 項	語 群			
[21] ●印の①に位置する公衆通信業務を取り扱う海岸局の名称	1 Tripoli Radio 4 Alger Radio	2 Port Said Radio 5 Casablanca Radio	3 Beira Radio	
[22] ●印の②に位置する公衆通信業務を取り扱う海岸局の名称	1 Luanda Radio 4 Abidjan Radio	2 Mombasa Radio 5 Monrovia, Liberia Radio	3 Banana Radio	
[23] ●印の③に位置する公衆通信業務を取り扱う海岸局の名称	1 Walvis Bay Radio 4 Las Palmas Radio	2 Conakry Radio 5 Lagos Radio	3 Free Town Radio	
[24] ●印の④に位置する我が国の船舶の寄港地の名称	1 Port Sudan 4 Beirut	2 Tunis 5 Alexandria	3 Djibouti	
[25] ●印の⑤に位置する我が国の船舶の寄港地の名称	1 Mogadishu 4 Port Elizabeth	2 Cape Town 5 Maputo	3 Dar es Salaam	
[26] ●印の⑥に位置する我が国の船舶の寄港地の名称	1 Dakar 4 Lagos	2 Port Harcourt 5 Namibe	3 Monrovia	
[27] ⑦の国名	1 The Republic of the Sudan 3 Kingdom of Morocco 5 The Great Socialist People's Libyan Arab Jamahiriya	2 Republic of Madagascar 4 Somali Democratic Republic		
[28] ⑧の国名	1 Federal Republic of Nigeria 3 Republic of Mali 5 People's Democratic Republic of Algeria	2 Republic of Guinea 4 Republic of Gahna		
[29] ⑨の島名	1 Pagalu 3 Seychelles 5 Malta	2 Principe 4 Madagascar		
[30] ⑩の海峡名	1 Strait of Gibraltar 3 South Comino Channel 5 Drake Passage	2 Strait of Otranto 4 Mozambique Channel		

問IV 次の問いに答えよ。

1 次表のA群のそれぞれの都市は、我が国の船舶の寄港地であるが、それぞれの所属国名をB群から一つ選び、その番号で答えよ。

A 群	B 群	
[31] Istanbul	1 Kingdom of Saudi Arabia 3 Sultanate of Oman 5 Republic of Turkey	2 United Arab Emirates 4 Islamic Republic of Iran
[32] Le Havre	1 Kingdom of Spain 3 Kingdom of the Netherlands 5 Federal Republic of Germany	2 Portuguese Republic 4 French Republic
[33] Baltimore	1 Kingdom of the Netherlands 3 Canada 5 United Kingdom of Great Britain and Northern Ireland	2 United States of America 4 Australia
[34] Mumbai	1 Republic of Kenya 3 United Republic of Tanzania 5 India	2 Republic of Madagascar 4 Islamic Republic of Pakistan
[35] Fremantle	1 United States of America 3 Australia 5 United Kingdom of Great Britain and Northern Ireland	2 Federative Republic of Brazil 4 New Zealand

2 次表の左欄のそれぞれの事項に該当するものの名称を右欄の語群から一つ選び、その番号で答えよ。

事 項	語 群
[36] 中国東北地区南部 遼寧省南部の商工業・港湾都市。遼東半島南部に位置し黄海に臨む。同国東北地方最大の深水、不凍港をもち、シベリア鉄道に通じる大陸横断鉄道の起点。鉄鋼・機械・車両・造船・プラスチック・硫安などの重化学工業、繊維・食品加工などの工業が発達している。	1 Tianjin (天津) 2 Dalian (大連) 3 Yantai (煙台) 4 Nantong (南通) 5 Qingdao (青島)
[37] フランス南東部、ローヌ川河口近くの地中海に面する港湾都市。同港よりブドウ酒、オリーブ油、石炭などの工業製品を輸出し、地中海諸港との間に定期船便がある。また、造船・石炭・アルミニウム・食品・繊維などの各種工業のほか、近年石油化学工業が発達している。	1 Dunkerque 2 Le Havre 3 Marseille 4 Bordeaux 5 Brest
[38] 西アフリカ、ギニア湾東部の国。首都はアブジャ (Abuja)。1億4000万人(2007年)とアフリカ諸国中最大の人口を有し、カカオ、油やし、落花生などが主要農産物。アフリカ最大の原油輸出国でもある。主要貿易港はラゴス(Lagos)。	1 Republic of Cameroon 2 Republic of Senegal 3 Republic of Ghana 4 Gabonese Republic 5 Federal Republic of Nigeria
[39] カリマンタン (ボルネオ) 島とスラウェシ島の間位置する国際航路上重要な海峡。	1 Lombok Strait 2 Sunda Strait 3 Strait of Malacca 4 Karimata Strait 5 Makassar Strait
[40] 東南アジア最大の国際河川。中国の青海省南部、チベット高原東部に源を発し、峡谷を形成して南南東に流れ、ミャンマー・ラオス、タイ・ラオスの国境となってラオスに入り、ラオス、カンボジアを貫流し、ベトナム南部に大デルタを形成して南シナ海に注ぐ。	1 Mekong 2 Ganges 3 Indus 4 Chao Phraya 5 Ayeyarwady