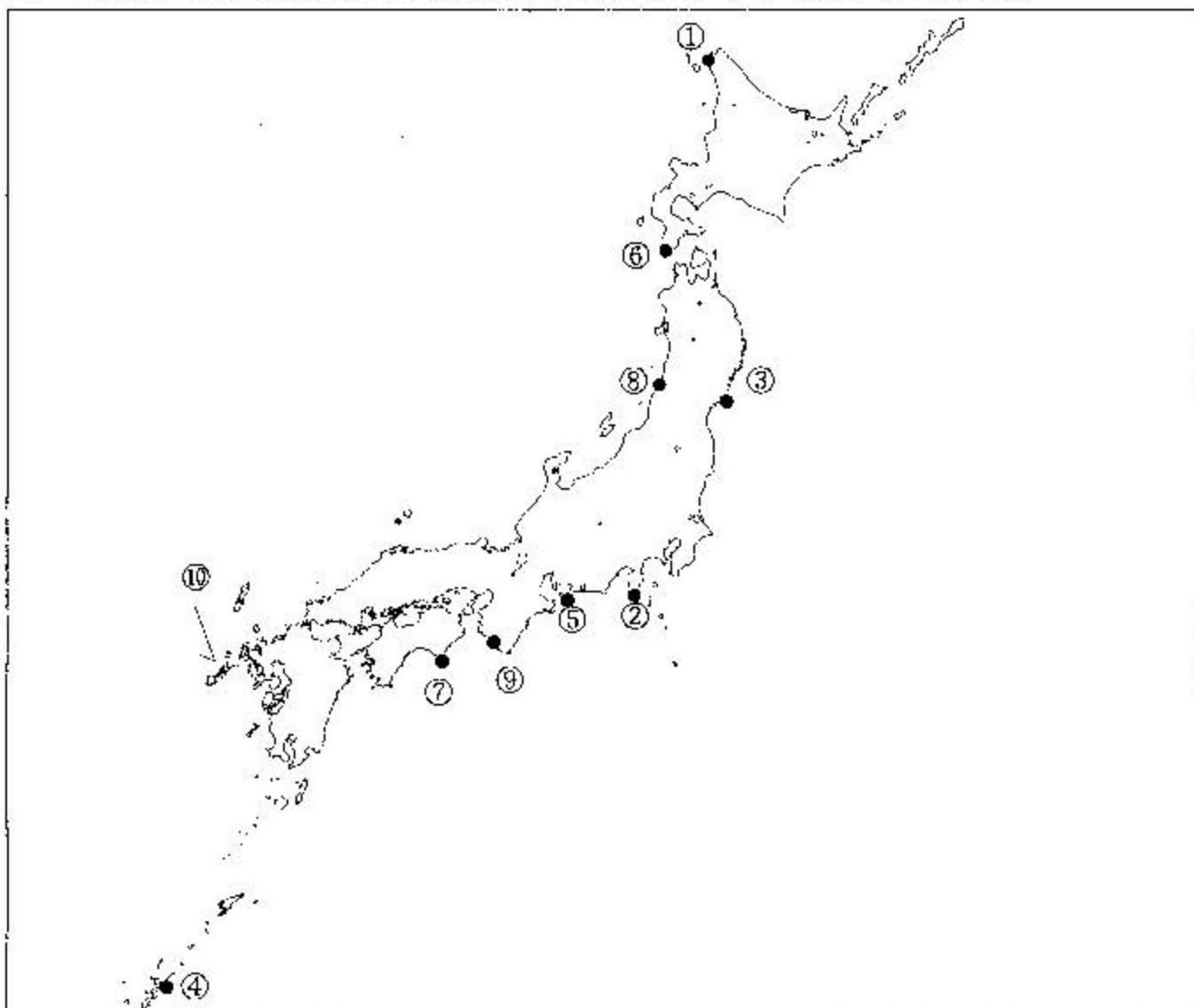


第一級総合無線通信士「地理」試験問題

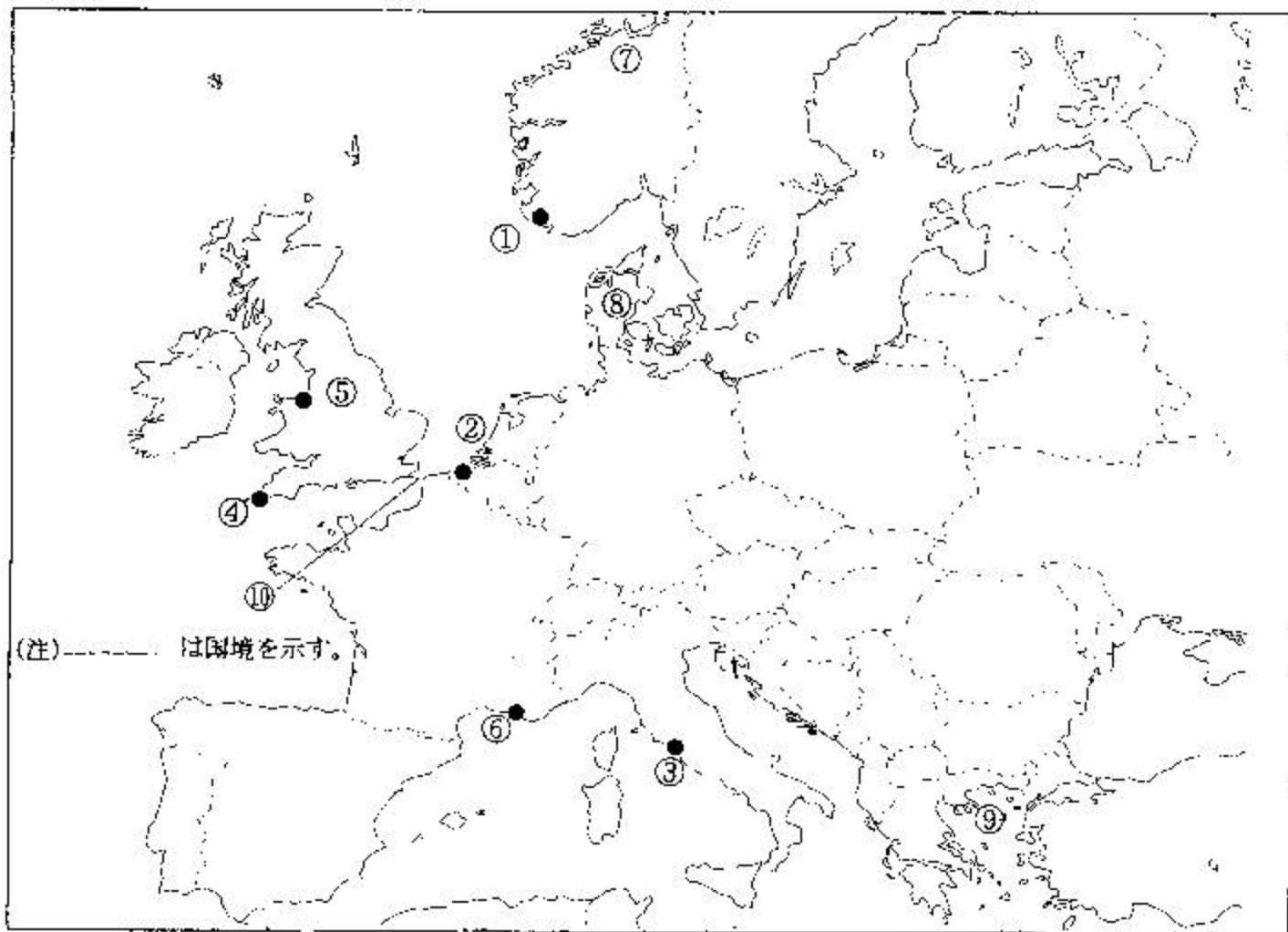
40問 1時間

問I 下図により、下表の左欄の事項のそれぞれに該当するものの名称を右欄の語群から一つ選び、その番号で答えよ。



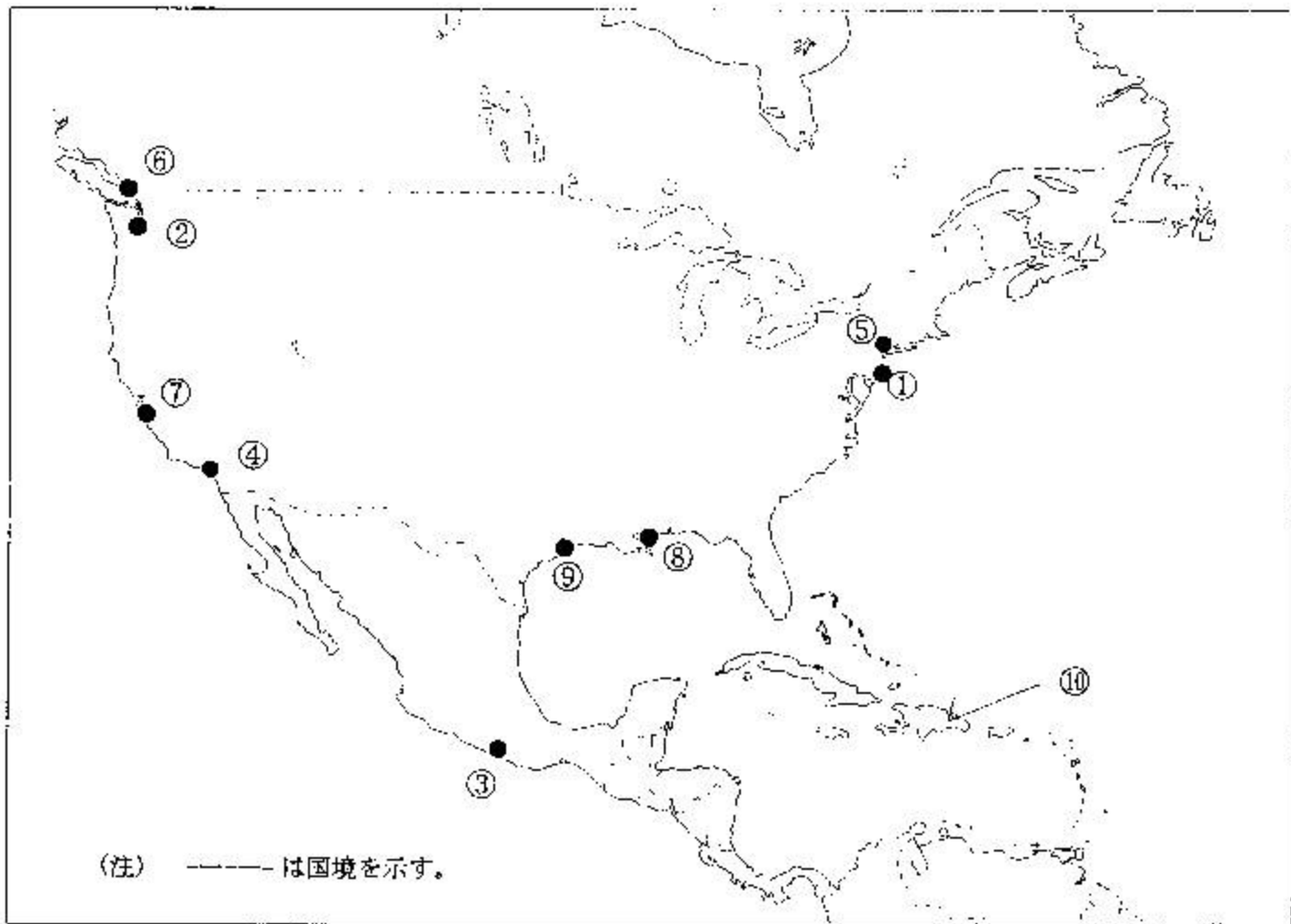
事 項	語 群
[1] ●印の①に位置する海上保安庁の海岸局の名称	1 小樽(大野) 2 小樽(積丹) 3 小樽(萩夕岡) 4 小樽(昆布森)
[2] ●印の②に位置する海上保安庁の海岸局の名称	1 東京(富津) 2 横浜(白浜) 3 横浜(下田) 4 横浜(銚子)
[3] ●印の③に位置する海上保安庁の無線標識局の名称	1 綾里埼 2 金華山 3 塩屋埼 4 入道埼 5 八戸
[4] ●印の④に位置する海上保安庁の無線航行陸上局(ロランCによるもの)の名称	1 十勝太 2 南鳥島 3 新島 4 慶佐次
[5] ●印の⑤に位置する海上保安庁の無線航行陸上局(レーダーによるもの)の名称	1 牧山 2 江崎 3 名古屋 4 青ノ山 5 伊良湖岬
[6] ●印の⑥に位置する海上保安庁の無線航行陸上局(ディファレンシャルGPSによるもの)の名称	1 宗谷岬 2 積丹岬 3 尻屋埼 4 松前 5 網走
[7] ●印の⑦に位置する海上保安庁の無線航行陸上局(ディファレンシャルGPSによるもの)の名称	1 室戸岬 2 大王崎 3 若宮 4 大浜 5 都井岬
[8] ●印の⑧に位置する開港名	1 酒田 2 新潟 3 柏崎 4 直江津 5 能代
[9] ●印の⑨に位置する開港名	1 和歌山下津 2 四日市 3 宮津 4 衣浦 5 田辺
[10] ⑩の列島名又は諸島名	1 鹿島列島 2 天草諸島 3 五島列島 4 直島諸島 5 家島諸島

問II 下図により、下表左欄の事項のそれぞれに該当するものの名称を右欄の語群から一つ選び、その番号で答えよ。



事 項	語 群	
[11] ●印の①に位置する公衆通信業務を取り扱う海岸局の名称	1 Rogaland Radio 4 Oostende Radio	2 Tallinn Radio 5 Lyngby Radio 3 Stockholm Radio
[12] ●印の②に位置する公衆通信業務を取り扱う海岸局の名称	1 Kiel Radio 4 Oostende Radio	2 Rogaland Radio 5 Lyngby Radio 3 Hamburg Radio
[13] ●印の③に位置する公衆通信業務を取り扱う海岸局の名称	1 Genova Radio 4 Trieste Radio	2 Malta Radio 5 Cagliari Radio 3 Roma Radio
[14] ●印の④に位置する海岸地球局の名称	1 Eik 4 Pleumeur Bodou	2 Goonhilly 3 Furum
[15] ●印の⑤に位置する我が国の船舶の寄港地の名称	1 Cardiff 4 Aberdeen	2 Southampton 5 Liverpool 3 Glasgow
[16] ●印の⑥に位置する我が国の船舶の寄港地の名称	1 Barcelona 4 Venezia	2 Trieste 5 Le Havre 3 Marseille
[17] ⑦の国名	1 Kingdom of Norway 3 Republic of Poland 5 Kingdom of Denmark	2 Kingdom of Sweden 4 Republic of Finland
[18] ⑧の国名	1 Kingdom of Belgium 3 Kingdom of the Netherlands 5 Republic of Lithuania	2 Grand Duchy of Luxembourg 4 Kingdom of Denmark
[19] ⑨の海名又は湾名	1 Gulf of Bothnia 3 Adriatic Sea 5 Aegean Sea	2 Ionian Sea 4 North Sea
[20] ⑩の海峡名	1 Strait of Dover 3 North Channel 5 St. George's Channel	2 English Channel 4 Skagerrak Channel

問Ⅳ 下図により、下表の左欄の事項のそれぞれに該当するものの名称を右欄の語群から一つ選び、その番号で答えよ。



事 項	語 群
[21] ●印の①に位置する公衆通信業務を取り扱う海岸局の名称	1 Tors Cove Radio 2 Halifax Coast Guard Radio 3 S. John's Coast Guard Radio 4 Sydney Coast Guard Radio 5 Tuckerton, New Jersey Radio
[22] ●印の②に位置する公衆通信業務を取り扱う海岸局の名称	1 San Diego, California Radio 2 Seattle, Washington Radio 3 Palo Alto, California Radio 4 San Francisco, California Radio 5 Portland, Oregon Radio
[23] ●印の③に位置する公衆通信業務を取り扱う海岸局の名称	1 La Paz, Baja California Radio 2 Ensenada, Baja California Radio 3 Acapulco, Guerrero Radio 4 Mazatlan, Sinaloa Radio 5 Manzanillo, Colima Radio
[24] ●印の④に位置する海浜地球局の名称	1 Staten Island 2 Niles Canyon 3 Santa Paula 4 Southbury
[25] ●印の⑤に位置する海岸地球局の名称	1 Tangua 2 Southbury 3 Santa Paula 4 Niles Canyon
[26] ●印の⑥に位置する我が国の船舶の寄港地の名称	1 Anchorage 2 Seattle 3 Vancouver 4 Tacoma 5 Portland
[27] ●印の⑦に位置する我が国の船舶の寄港地の名称	1 San Francisco 2 Long Beach 3 Saint John 4 Vancouver 5 Los Angeles
[28] ●印の⑧に位置する我が国の船舶の寄港地の名称	1 Charleston 2 Savannah 3 Miami 4 Norfolk 5 New Orleans
[29] ●印の⑨に位置する我が国の船舶の寄港地の名称	1 Brownsville 2 Tampa 3 New Orleans 4 Galveston 5 Jacksonville
[30] ⑩の国名	1 Republic of Haiti 2 Dominican Republic 3 Republic of Cuba 4 Republic of Honduras 5 Commonwealth of the Bahamas

問IV 次の問いに答えよ。

- 1 次表のA群のそれぞれの都市は、我が国の船舶の寄港地であるが、それぞれの所属国名をB群から一つ選び、その番号で答えよ。

A 群	B 群	
[31] Dubayy	1 Kingdom of Saudi Arabia 3 Sultanate of Oman 5 United Arab Emirates	2 State of Qatar 4 Islamic Republic of Iran
[32] Port Headland	1 Independent State of Samoa 3 New Zealand 5 Independent State of Papua New Guinea	2 United States of America 4 Australia
[33] Mombasa	1 Republic of Kenya 3 United Republic of Tanzania 5 Somali Democratic Republic	2 Republic of Madagascar 4 Republic of Mozambique
[34] Montevideo	1 Republic of Peru 3 Oriental Republic of Uruguay 5 Argentine Republic	2 Republic of Paraguay 4 Federative Republic of Brazil
[35] Chittagong	1 Kingdom of Cambodia 3 Islamic Republic of Pakistan 5 Kingdom of Thailand	2 People's Republic of Bangladesh 4 Union of Myanmar

- 2 次表の左欄のそれぞれの事項に該当するものの名称を右欄の語群から一つ選び、その番号で答えよ。

事 項	語 群
[36] 中国華北の北東部、ハイ川（海河）河口の港湾・商工業都市。ペキン（北京）の外港の役割を持つ華北地方の主要な貿易港。	1 Tianjin（天津） 2 Dalian（大連） 3 Yantai（煙台） 4 Qinhuangdao（秦皇島） 5 Qingdao（青島）
[37] 韓国東南部、朝鮮海峡に面する同国最大の港湾都市。アジアと北米大陸を結ぶコンテナ貨物の中継港としても重要な位置を占めている。造船などの工業も盛ん。	1 Mokpo（木浦） 2 Gunsan（群山） 3 Pusan（釜山） 4 Kangnung（江陵） 5 Inch'on（仁川）
[38] マレー半島とスマトラ島との間に位置する国際海峡。東アジアとインドやヨーロッパを結ぶ海上交通の要衝。東の出口にシンガポールがある。	1 Strait of Gibraltar 2 Makassar Strait 3 Karimata Strait 4 Strait of Malacca 5 Bosphorus
[39] 南アメリカ大陸南西部、アンデス山脈の西部に位置し、太平洋に面する狭長な国。銅、硝石などの鉱産資源が豊富。	1 Republic of Peru 2 Republic of Paraguay 3 Republic of Bolivia 4 Republic of Chile 5 Republic of Ecuador
[40] アフリカ北西、モロッコの沖合に位置するスペイン領の群島。ヨーロッパから南アメリカ、西アフリカへの航路の要地。我が国の漁業基地もある。中心都市はラスパルマス。	1 Bahamas Islands 2 Comoro Islands 3 Seychelles Islands 4 Azores Islands 5 Canarias Islands