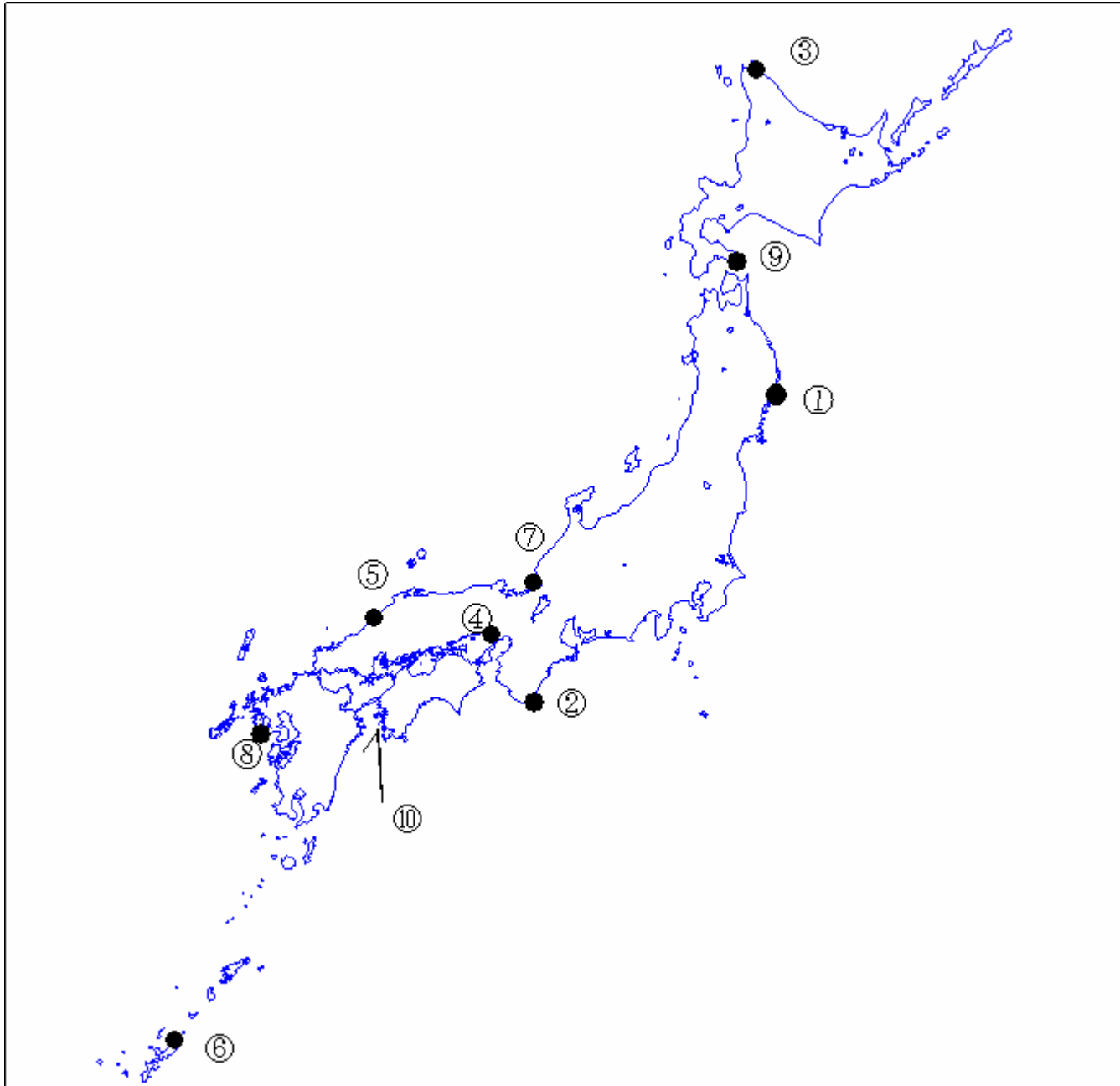


第一級総合無線通信士「地理」試験問題

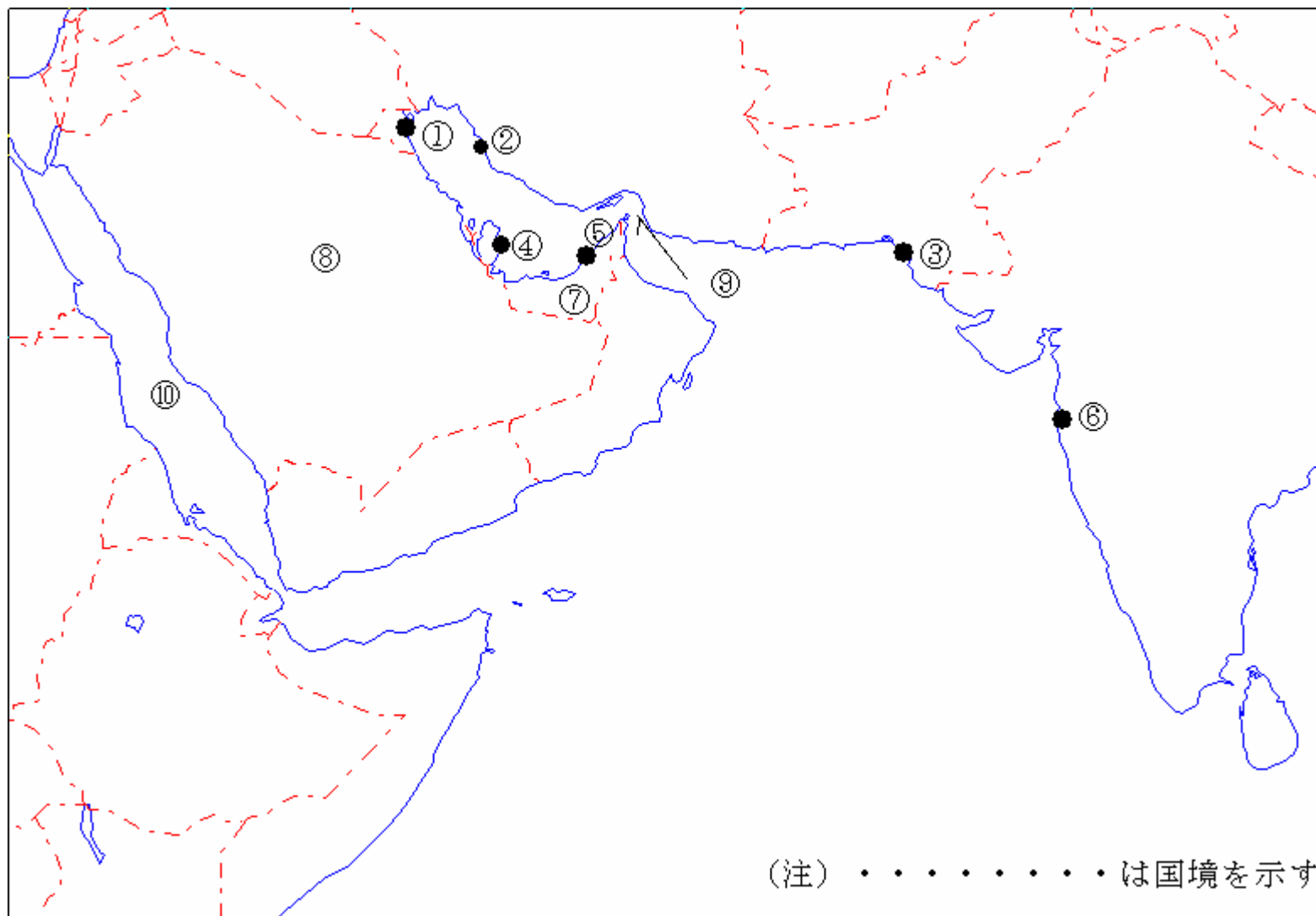
40問 1時間

問I 下図により、下表の左欄の事項のそれぞれに該当するものの名称を右欄の語群から一つ選び、その番号で答えよ。



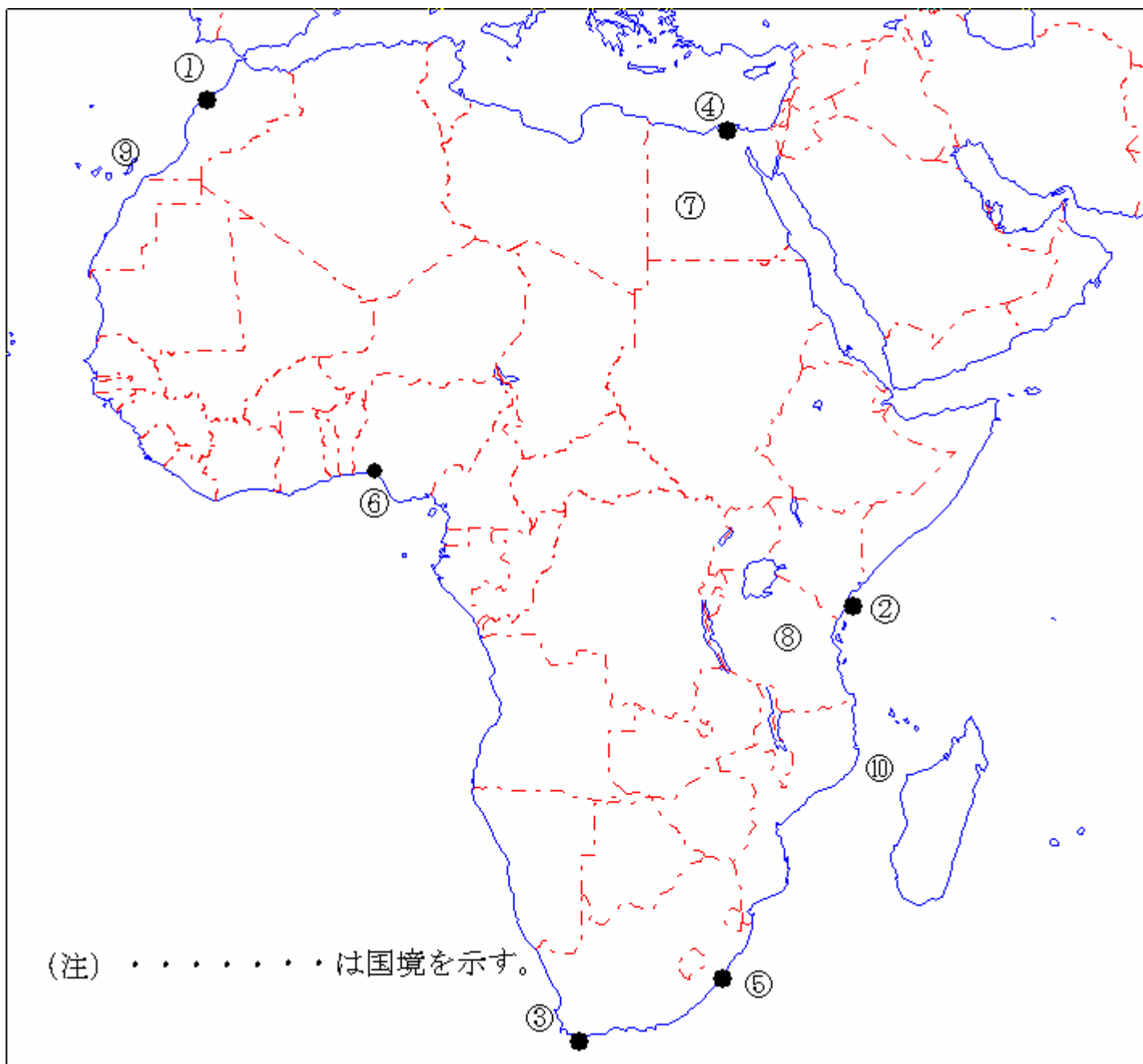
事 項	語 群
[1] ●印の①に位置する海上保安庁の海岸局の名称	1 塩釜 (釜石) 2 塩釜 (秋田) 3 塩釜 (温海) 4 塩釜 (男鹿) 5 塩釜 (駒ヶ嶺)
[2] ●印の②に位置する海上保安庁の海岸局の名称	1 神戸 (六甲) 2 神戸 (潮岬) 3 神戸 (高知) 4 神戸 (須崎) 5 神戸 (明神山)
[3] ●印の③に位置する海上保安庁の無線標識局の名称	1 宗谷岬 2 積丹岬 3 厚岸 4 納沙布岬 5 松前
[4] ●印の④に位置する海上保安庁の無線航行陸上局 (レーダーによるもの) の名称	1 門司 2 江崎 3 本牧 4 青ノ山 5 今治
[5] ●印の⑤に位置する海上保安庁の無線航行陸上局 (ディファレンシャルGPSによるもの) の名称	1 大浜 2 丹後 3 舳倉島 4 若宮 5 浜田
[6] ●印の⑥に位置する海上保安庁の無線航行陸上局 (ディファレンシャルGPSによるもの) の名称	1 都井岬 2 大瀬崎 3 慶佐次 4 宮古島 5 江崎
[7] ●印の⑦に位置する開港名	1 金沢 2 敦賀 3 新潟 4 七尾 5 直江津
[8] ●印の⑧に位置する開港名	1 博多 2 唐津 3 大分 4 三角 5 長崎
[9] ●印の⑨の半島名	1 松前半島 2 根室半島 3 積丹半島 4 知床半島 5 亀田半島
[10] ⑩の海峡又は水道名	1 紀伊水道 2 豊後水道 3 浦賀水道 4 大隈海峡 5 鳴門海峡

問Ⅱ 下図により、下表の左欄の事項のそれぞれに該当するものの名称を右欄の語群から一つ選び、その番号で答えよ。



事 項	語 群		
[11] ●印の①に位置する公衆通信業務を取り扱う海岸局の名称	1 Doha Radio 4 Muscat Radio	2 Basrah Control Radio 5 Kuwait Radio	3 Bahrain Radio
[12] ●印の②に位置する公衆通信業務を取り扱う海岸局の名称	1 Bushehr Radio 4 Abbas Radio	2 Aqaba Radio 5 Chabahar Radio	3 Khassab Radio
[13] ●印の③に位置する公衆通信業務を取り扱う海岸局の名称	1 Karachi Radio 4 Yangon Radio	2 Male Radio 5 Chittagong Radio	3 Cochin Radio
[14] ●印の④に位置する我が国の船舶の寄港地の名称	1 Bahrain 4 Basrah	2 Ras Tanura 5 Doha	3 Kuwait
[15] ●印の⑤に位置する我が国の船舶の寄港地の名称	1 Aden 4 Abu Dhabi	2 Muscat 5 Basra	3 Bahrain
[16] ●印の⑥に位置する我が国の船舶の寄港地の名称	1 Cudalore 4 Mumbai (Bombay)	2 Cochin 5 Jamnagar	3 Chennai (Madras)
[17] ⑦の国名	1 United Arab Emirates 3 Sultanate of Oman 5 Kingdom of Saudi Arabia	2 Republic of Yemen 4 State of Kuwait	
[18] ⑧の国名	1 Somali Democratic Republic 3 Hashemite Kingdom of Jordan 5 Kingdom of Saudi Arabia	2 Republic of Yemen 4 Sultanate of Oman	
[19] ⑨の海峡名	1 Strait of Otranto 3 Strait of Hormuz 5 Bab al Mandab	2 Palk Strait 4 Strait of Gibraltar	
[20] ⑩の海名又は湾名	1 Red Sea 3 Indian Ocean 5 Arabian Sea	2 Persian Gulf 4 Bay of Bengal	

問Ⅲ 下図により、下表の左欄の事項のそれぞれに該当するものの名称を右欄の語群から一つ選び、その番号で答えよ。



事 項	語 群		
[21] ●印の①に位置する公衆通信業務を取り扱う海岸局の名称	1 Alger Radio	2 Casablanca Radio	3 Las Palmas Radio
[22] ●印の②に位置する公衆通信業務を取り扱う海岸局の名称	1 Djibouti Radio	2 Mozambique Radio	3 Seychelles Radio
[23] ●印の③に位置する公衆通信業務を取り扱う海岸局の名称	1 Tamatave Radio	2 Cape Town Radio	3 Durban Radio
[24] ●印の④に位置する我が国の船舶の寄港地の名称	1 Tripoli	2 Suez	3 Alexandria
[25] ●印の⑤に位置する我が国の船舶の寄港地の名称	1 Durban	2 Cape Town	3 Dar Es salaam
[26] ●印の⑥に位置する我が国の船舶の寄港地の名称	1 Monrovia	2 Freetown	3 Dakar
[27] ⑦の国名	1 The Republic of the Sudan	2 Arab Republic of Egypt	
	3 Republic of Tunisia	4 Republic of Chad	
	5 Federal Democratic Republic of Ethiopia		
[28] ⑧の国名	1 Republic of Kenya	2 Republic of Malawi	
	3 Republic of Zimbabwe	4 Somali Democratic Republic	
	5 United Republic of Tanzania		
[29] ⑨の諸島名	1 Seychelles Islands	2 Socotra Island	
	3 Islands Canary (Canarias)	4 Comoros Islands	
	5 Maldive Islands		
[30] ⑩の海峡名	1 Strait of Messina	2 Palk Strait	3 Strait of Hormuz
	4 Mozambique Channel	5 Bashi Channel	

問IV 次の問いに答えよ。

1 次表のA群のそれぞれの都市は、我が国の船舶の寄港地であるが、それぞれの所属国名をB群から一つ選び、その番号で答えよ。

A 群	B 群
[31] Jakarta	1 Kingdom of Cambodia 2 Union of Myanmar 3 Islamic Republic of Pakistan 4 Republic of Indonesia 5 Kingdom of Thailand
[32] Adelaide	1 Independent State of Samoa 2 United States of America 3 New Zealand 4 Australia 5 Independent State of Papua New Guinea
[33] Liverpool	1 Federal Republic of Germany 2 Russian Federation 3 Republic of Finland 4 United States of America 5 United Kingdom of Great Britain and Northern Ireland
[34] Rio de Janeiro	1 Republic of Peru 2 United States of America 3 Argentine Republic 4 Federative Republic of Brazil 5 Bolivarian Republic of Venezuela
[35] New Orleans	1 New Zealand 2 Canada 3 United States of America 4 Australia 5 United Kingdom of Great Britain and Northern Ireland

2 次表の左欄のそれぞれの事項に該当するものの名称を右欄の語群から一つ選び、その番号で答えよ。

事 項	語 群
[36] 韓国東南部、朝鮮海峡に面する港湾都市。コンテナ貨物の中継港としても重要な位置を占めている。造船や水産加工業が盛ん。	1 Mokpo (木浦) 2 Gunsan (群山) 3 Pusan (釜山) 4 Kangnung (江陵) 5 Quingdao (青島)
[37] 西アフリカに位置し、大西洋に面する国で鉄鉱石の生産・輸出国、パナマと並び世界有数の船舶の置籍国でもある。首都はモンロビア(Monrovia)。	1 Republic of Senegal 2 Republic of Liberia 3 Republic of Congo 4 Republic of Ghana 5 Federal Republic of Nigeria
[38] 中部太平洋ハワイ諸島の火山島、アメリカ合衆国のハワイ州の中心。南岸にホノルル、パールハーバーがあり、観光地としても有名。	1 Kauai Island 2 Oahu Island 3 Maui Island 4 Hawaii Island 5 Molokai Island
[39] ジャワ島とスマトラ島の間に位置する国際航路上重要な海峡。	1 Lombok Strait 2 Sunda Strait 3 Strait of Malacca 4 Bali Strait 5 Makassar Strait
[40] 黒海北方の共和国。肥沃な黒土地帯が多く小麦をはじめ農業が盛ん、また、東部は重工業地帯を形成。首都はキエフ(Kiev)、主要貿易港はオデッサ (Odessa)。	1 Ukraine 2 Republic of Belarus 3 Republic of Kazakhstan 4 Republic of Tajikistan 5 Republic of Moldova